

## Mes petits défis



du lundi

1. Je pose et j'effectue ces opérations sur mon cahier d'essais

$$159 + 205 = \quad 35 + 67 + 54 = \quad 354 + 82 =$$

2. Je compte de 2 en 2 à partir de  et jusqu'à .

3. Je décompose : 187, 154, 163

du mardi

1. Je pose et j'effectue ces opérations sur mon cahier d'essais

$$456 + 98 = \quad 132 + 47 + 125 = \quad 78 + 514 =$$

2. Je compte de 5 en 5 à partir de  et jusqu'à .

3. Je décompose : 175, 105, 197

du jeudi

1. Je pose et j'effectue ces opérations sur mon cahier d'essais

$$345 + 276 = \quad 63 + 216 + 80 = \quad 281 + 9 + 48 =$$

2. Je compte de 10 en 10 à partir de  et jusqu'à .

3. Je range du plus petit au plus grand : 124, 112, 67, 150, 38.

du vendredi

1. Je pose et j'effectue ces opérations sur mon cahier d'essais

$$59 + 61 = \quad 138 + 425 = \quad 292 + 436 =$$

2. Je compte de 1 en 1 à partir de  et jusqu'à .

3. Je range du plus grand au plus petit : 145, 121, 23, 165, 82.

## Mes petits défis



du lundi

1. Je pose et j'effectue ces opérations sur mon cahier d'essais

$$159 + 205 = \quad 35 + 67 + 54 = \quad 354 + 82 =$$

2. Je compte de 2 en 2 à partir de  et jusqu'à .

3. Je décompose : 187, 154, 163

du mardi

1. Je pose et j'effectue ces opérations sur mon cahier d'essais

$$456 + 98 = \quad 132 + 47 + 125 = \quad 78 + 514 =$$

2. Je compte de 5 en 5 à partir de  et jusqu'à .

3. Je décompose : 175, 105, 197

du jeudi

1. Je pose et j'effectue ces opérations sur mon cahier d'essais

$$345 + 276 = \quad 63 + 216 + 80 = \quad 281 + 9 + 48 =$$

2. Je compte de 10 en 10 à partir de  et jusqu'à .

3. Je range du plus petit au plus grand : 124, 112, 67, 150, 38.

du vendredi

1. Je pose et j'effectue ces opérations sur mon cahier d'essais

$$59 + 61 = \quad 138 + 425 = \quad 292 + 436 =$$

2. Je compte de 1 en 1 à partir de  et jusqu'à .

3. Je range du plus grand au plus petit : 145, 121, 23, 165, 82.

## Mes petits défis



du lundi

1. Je pose et j'effectue ces opérations sur mon cahier d'essais

$$326 + 502 = \quad 26 + 59 + 47 = \quad 87 + 365 =$$

2. Je compte de 2 en 2 à partir de  $\boxed{90}$  et jusqu'à  $\boxed{104}$ .

3. Je trace deux segments :  $[AB]$  de 6 cm et  $[CD]$  de 10 cm.

du mardi

1. Je pose et j'effectue ces opérations sur mon cahier d'essais

$$265 + 54 = \quad 297 + 16 + 42 = \quad 34 + 381 =$$

2. Je compte de 10 en 10 à partir de  $\boxed{180}$  et jusqu'à  $\boxed{110}$ .

3. Je trace deux segments :  $[EF]$  de 4 cm et  $[GH]$  de 3 cm.

du jeudi

1. Je pose et j'effectue ces opérations sur mon cahier d'essais

$$367 + 405 = \quad 49 + 354 + 72 = \quad 314 + 8 + 73 =$$

2. Je compte de 5 en 5 à partir de  $\boxed{63}$  et jusqu'à  $\boxed{93}$ .

3. J'écris en lettres : 124, 112, 167.

du vendredi

1. Je pose et j'effectue ces opérations sur mon cahier d'essais

$$158 + 34 = \quad 264 + 82 = \quad 167 + 684 =$$

2. Je compte de 1 en 1 à partir de  $\boxed{182}$  et jusqu'à  $\boxed{163}$ .

3. J'écris en lettres : 143, 175, 82.

## Mes petits défis



du lundi

4. Je pose et j'effectue ces opérations sur mon cahier d'essais

$$326 + 502 = \quad 26 + 59 + 47 = \quad 87 + 365 =$$

5. Je compte de 2 en 2 à partir de  $\boxed{90}$  et jusqu'à  $\boxed{104}$ .

6. Je trace deux segments :  $[AB]$  de 6 cm et  $[CD]$  de 10 cm.

du mardi

4. Je pose et j'effectue ces opérations sur mon cahier d'essais

$$265 + 54 = \quad 297 + 16 + 42 = \quad 34 + 381 =$$

5. Je compte de 10 en 10 à partir de  $\boxed{180}$  et jusqu'à  $\boxed{110}$ .

6. Je trace deux segments :  $[EF]$  de 4 cm et  $[GH]$  de 3 cm.

du jeudi

4. Je pose et j'effectue ces opérations sur mon cahier d'essais

$$367 + 405 = \quad 49 + 354 + 72 = \quad 314 + 8 + 73 =$$

5. Je compte de 5 en 5 à partir de  $\boxed{63}$  et jusqu'à  $\boxed{93}$ .

6. J'écris en lettres : 124, 112, 167.

du vendredi

4. Je pose et j'effectue ces opérations sur mon cahier d'essais

$$158 + 34 = \quad 264 + 82 = \quad 167 + 684 =$$

5. Je compte de 1 en 1 à partir de  $\boxed{182}$  et jusqu'à  $\boxed{163}$ .

6. J'écris en lettres : 143, 175, 82.

## Mes petits défis



du lundi

4. Je pose et j'effectue ces opérations sur mon cahier d'essais.

$$576 + 417 = \quad 62 + 158 + 206 = \quad \_5 + \_3 = 87$$

5. Je compte de 5 en 5 à partir de  $\boxed{93}$  et jusqu'à  $\boxed{123}$ .

6. Je trace deux segments :  $[IJ]$  de 3 cm et  $[KL]$  de 5 cm.

du mardi

4. Je pose et j'effectue ces opérations sur mon cahier d'essais.

$$65 + 58 = \quad 5\_1 + \_3 = 867 \quad 258 + 79 =$$

5. Je compte de 2 en 2 à partir de  $\boxed{180}$  et jusqu'à  $\boxed{198}$ .

6. Je trace 2 segments :  $[MN]$  de 11 cm et  $[OP]$  compris entre 4 et 5 cm.

du jeudi

4. Je pose et j'effectue ces opérations sur mon cahier d'essais.

$$\_ \_ \_ + 405 = 853 \quad 258 + 54 = \quad 465 + 328 =$$

5. Je compte de 3 en 3 à partir de  $\boxed{90}$  et jusqu'à  $\boxed{120}$ .

6. J'écris en lettres : 198, 105, 134.

du vendredi

4. Je pose et j'effectue ces opérations sur mon cahier d'essais.

$$369 + \_ \_ \_ = 585 \quad 56 + 598 = \quad 358 + 537 =$$

5. Je compte de 10 en 10 à partir de  $\boxed{192}$  et jusqu'à  $\boxed{92}$ .

6. J'écris en lettres : 110, 167, 192.

## Mes petits défis



du lundi

7. Je pose et j'effectue ces opérations sur mon cahier d'essais.

$$576 + 417 = \quad 62 + 158 + 206 = \quad \_5 + \_3 = 87$$

8. Je compte de 5 en 5 à partir de  $\boxed{93}$  et jusqu'à  $\boxed{123}$ .

9. Je trace deux segments :  $[IJ]$  de 3 cm et  $[KL]$  de 5 cm.

du mardi

7. Je pose et j'effectue ces opérations sur mon cahier d'essais.

$$65 + 58 = \quad 5\_1 + \_3 = 867 \quad 258 + 79 =$$

8. Je compte de 2 en 2 à partir de  $\boxed{180}$  et jusqu'à  $\boxed{198}$ .

9. Je trace 2 segments :  $[MN]$  de 11 cm et  $[OP]$  compris entre 4 et 5 cm.

du jeudi

7. Je pose et j'effectue ces opérations sur mon cahier d'essais.

$$\_ \_ \_ + 405 = 853 \quad 258 + 54 = \quad 465 + 328 =$$

8. Je compte de 3 en 3 à partir de  $\boxed{90}$  et jusqu'à  $\boxed{120}$ .

9. J'écris en lettres : 198, 105, 134.

du vendredi

7. Je pose et j'effectue ces opérations sur mon cahier d'essais.

$$369 + \_ \_ \_ = 585 \quad 56 + 598 = \quad 358 + 537 =$$

8. Je compte de 10 en 10 à partir de  $\boxed{192}$  et jusqu'à  $\boxed{92}$ .

9. J'écris en lettres : 110, 167, 192.

## Mes petits défis



du lundi

1. Je pose et j'effectue ces opérations sur mon cahier d'essais.

$$681 + 76 = \quad 5 \_ + \_ 6 = 71$$

2. Je compte de 2 en 2 à partir de  $\boxed{193}$  et jusqu'à  $\boxed{213}$ .

3. Je trace deux segments :  $[RS]$  de 6 cm et  $[TU]$  de 3 cm.

du mardi

1. Je pose et j'effectue ces opérations sur mon cahier d'essais.

$$45 + 58 + 63 = \quad 261 + \_ \_ \_ = 386$$

2. Je compte de 5 en 5 à partir de  $\boxed{180}$  et jusqu'à  $\boxed{215}$ .

3. Je trace 2 segments :  $[VW]$  de 7 cm et  $[XY]$  compris entre 5 et 6 cm.

du jeudi

1. Je pose et j'effectue ces opérations sur mon cahier d'essais.

$$93 + 406 = \quad 2 \_ 8 + \_ 4 \_ = 429$$

2. Je compte de 1 en 1 à partir de  $\boxed{235}$  et jusqu'à  $\boxed{215}$ .

3. J'écris en lettres : 200, 268, 271.

du vendredi

1. Je pose et j'effectue ces opérations sur mon cahier d'essais.

$$124 + 268 + 275 = \quad 563 + 84 =$$

2. Je compte de 10 en 10 à partir de  $\boxed{254}$  et jusqu'à  $\boxed{294}$ .

3. J'écris en lettres : 246, 202, 299.

## Mes petits défis



du lundi

1. Je pose et j'effectue ces opérations sur mon cahier d'essais.

$$681 + 76 = \quad 5 \_ + \_ 6 = 71$$

2. Je compte de 2 en 2 à partir de  $\boxed{193}$  et jusqu'à  $\boxed{213}$ .

3. Je trace deux segments :  $[RS]$  de 6 cm et  $[TU]$  de 3 cm.

du mardi

1. Je pose et j'effectue ces opérations sur mon cahier d'essais.

$$45 + 58 + 63 = \quad 261 + \_ \_ \_ = 386$$

2. Je compte de 5 en 5 à partir de  $\boxed{180}$  et jusqu'à  $\boxed{215}$ .

3. Je trace 2 segments :  $[VW]$  de 7 cm et  $[XY]$  compris entre 5 et 6 cm.

du jeudi

1. Je pose et j'effectue ces opérations sur mon cahier d'essais.

$$93 + 406 = \quad 2 \_ 8 + \_ 4 \_ = 429$$

2. Je compte de 1 en 1 à partir de  $\boxed{235}$  et jusqu'à  $\boxed{215}$ .

3. J'écris en lettres : 200, 268, 271.

du vendredi

1. Je pose et j'effectue ces opérations sur mon cahier d'essais.

$$124 + 268 + 275 = \quad 563 + 84 =$$

2. Je compte de 10 en 10 à partir de  $\boxed{254}$  et jusqu'à  $\boxed{294}$ .

3. J'écris en lettres : 246, 202, 299.

## Mes petits défis



du lundi

1. Je pose et j'effectue ces opérations sur mon cahier d'essais.

$$459 + 395 = \quad 59 - 34 =$$

2. Je compte de 5 en 5 à partir de  $\boxed{201}$  et jusqu'à  $\boxed{231}$ .

3. Je trace deux segments :  $[AB]$  de 7 cm et  $[CD]$  de 2 cm.

du mardi

1. Je pose et j'effectue ces opérations sur mon cahier d'essais.

$$248 + 67 = \quad 97 - 57 =$$

2. Je compte de 10 en 10 à partir de  $\boxed{257}$  et jusqu'à  $\boxed{187}$ .

3. Je trace 2 segments :  $[EF]$  de 5 cm et  $[GH]$  compris entre 7 et 8 cm.

du jeudi

1. Je pose et j'effectue ces opérations sur mon cahier d'essais.

$$35 + 168 + 64 = \quad 76 - 45 =$$

2. Je compte de 2 en 2 à partir de  $\boxed{266}$  et jusqu'à  $\boxed{286}$ .

3. J'écris en lettres : 265, 234, 287.

du vendredi

1. Je pose et j'effectue ces opérations sur mon cahier d'essais.

$$684 + 64 = \quad 99 - 88 =$$

2. Je compte de 1 en 1 à partir de  $\boxed{254}$  et jusqu'à  $\boxed{274}$ .

3. J'écris en lettres : 210, 259, 271.

## Mes petits défis



du lundi

1. Je pose et j'effectue ces opérations sur mon cahier d'essais.

$$459 + 395 = \quad 59 - 34 =$$

2. Je compte de 5 en 5 à partir de  $\boxed{201}$  et jusqu'à  $\boxed{231}$ .

3. Je trace deux segments :  $[AB]$  de 7 cm et  $[CD]$  de 2 cm.

du mardi

1. Je pose et j'effectue ces opérations sur mon cahier d'essais.

$$248 + 67 = \quad 97 - 57 =$$

2. Je compte de 10 en 10 à partir de  $\boxed{257}$  et jusqu'à  $\boxed{187}$ .

3. Je trace 2 segments :  $[EF]$  de 5 cm et  $[GH]$  compris entre 7 et 8 cm.

du jeudi

1. Je pose et j'effectue ces opérations sur mon cahier d'essais.

$$36 + 168 + 64 = \quad 76 - 45 =$$

2. Je compte de 2 en 2 à partir de  $\boxed{266}$  et jusqu'à  $\boxed{286}$ .

3. J'écris en lettres : 265, 234, 287.

du vendredi

1. Je pose et j'effectue ces opérations sur mon cahier d'essais.

$$684 + 64 = \quad 99 - 88 =$$

2. Je compte de 1 en 1 à partir de  $\boxed{254}$  et jusqu'à  $\boxed{274}$ .

3. J'écris en lettres : 210, 259, 271.

## Mes petits défis



du lundi

1. Je pose et j'effectue ces opérations sur mon cahier d'essais.

$$256 + 35 + 148 = \quad 178 - 56 =$$

2. Je compte de 10 en 10 à partir de  et jusqu'à .

3. Je range dans l'ordre croissant : 354, 458, 290, 159, 341.

du mardi

1. Je pose et j'effectue ces opérations sur mon cahier d'essais.

$$64 + 87 = \quad 853 - 340 =$$

2. Je compte de 2 en 2 à partir de  et jusqu'à .

3. Je range dans l'ordre décroissant : 56, 256, 321, 200, 481.

du jeudi

1. Je pose et j'effectue ces opérations sur mon cahier d'essais.

$$72 + 483 + 58 = \quad 56 - 26 =$$

2. Je compte de 1 en 1 à partir de  et jusqu'à .

3. J'écris en lettres : 125, 406, 362.

du vendredi

1. Je pose et j'effectue ces opérations sur mon cahier d'essais.

$$431 + 97 = \quad 456 - 141 =$$

2. Je compte de 2 en 2 à partir de  et jusqu'à .

3. J'écris en lettres : 324, 231, 111.

## Mes petits défis



du lundi

1. Je pose et j'effectue ces opérations sur mon cahier d'essais.

$$256 + 35 + 148 = \quad 178 - 56 =$$

2. Je compte de 10 en 10 à partir de  et jusqu'à .

3. Je range dans l'ordre croissant : 354, 458, 290, 159, 341.

du mardi

1. Je pose et j'effectue ces opérations sur mon cahier d'essais.

$$64 + 87 = \quad 853 - 340 =$$

2. Je compte de 2 en 2 à partir de  et jusqu'à .

3. Je range dans l'ordre décroissant : 56, 256, 321, 200, 481.

du jeudi

1. Je pose et j'effectue ces opérations sur mon cahier d'essais.

$$72 + 483 + 58 = \quad 56 - 26 =$$

2. Je compte de 1 en 1 à partir de  et jusqu'à .

3. J'écris en lettres : 125, 406, 362.

du vendredi

1. Je pose et j'effectue ces opérations sur mon cahier d'essais.

$$431 + 97 = \quad 456 - 141 =$$

2. Je compte de 2 en 2 à partir de  et jusqu'à .

3. J'écris en lettres : 324, 231, 111.



## Mes petits défis



du lundi

1. Je pose et j'effectue ces opérations sur mon cahier d'essais.

$$259 + 597 + 122 = \quad 485 - 355 =$$

2. Je compte de 1 en 1 à partir de  et jusqu'à .

3. Je range dans l'ordre croissant : 485, 385, 489, 158, 269.

du mardi

1. Je pose et j'effectue ces opérations sur mon cahier d'essais.

$$159 + 45 + 653 = \quad 86 - 35 =$$

2. Je compte de 10 en 10 à partir de  et jusqu'à .

3. Je range dans l'ordre décroissant : 268, 346, 240, 25, 448.

du jeudi

1. Je pose et j'effectue ces opérations sur mon cahier d'essais.

$$139 + 59 + 34 = \quad 486 - 150 =$$

2. Je compte de 2 en 2 à partir de  et jusqu'à .

3. J'écris en lettres : 400, 367, 97.

du vendredi

1. Je pose et j'effectue ces opérations sur mon cahier d'essais.

$$369 + 56 + 359 = \quad 598 - 482 =$$

2. Je compte de 5 en 5 à partir de  et jusqu'à .

3. J'écris en lettres : 402, 25, 250.

## Mes petits défis



du lundi

1. Je pose et j'effectue ces opérations sur mon cahier d'essais.

$$259 + 597 + 122 = \quad 485 - 355 =$$

2. Je compte de 1 en 1 à partir de  et jusqu'à .

3. Je range dans l'ordre croissant : 485, 385, 489, 158, 269.

du mardi

1. Je pose et j'effectue ces opérations sur mon cahier d'essais.

$$159 + 45 + 653 = \quad 86 - 35 =$$

2. Je compte de 10 en 10 à partir de  et jusqu'à .

3. Je range dans l'ordre décroissant : 268, 346, 240, 25, 448.

du jeudi

1. Je pose et j'effectue ces opérations sur mon cahier d'essais.

$$139 + 59 + 34 = \quad 486 - 150 =$$

2. Je compte de 2 en 2 à partir de  et jusqu'à .

3. J'écris en lettres : 400, 367, 97.

du vendredi

1. Je pose et j'effectue ces opérations sur mon cahier d'essais.

$$369 + 56 + 359 = \quad 598 - 482 =$$

2. Je compte de 5 en 5 à partir de  et jusqu'à .

3. J'écris en lettres : 402, 25, 250.

## Mes petits défis



du lundi

1. Je pose et j'effectue ces opérations sur mon cahier d'essais.

$$459 + 534 = \quad 82 - 35 =$$

2. Je compte de 100 en 100 à partir de  et jusqu'à .

3. Je range dans l'ordre croissant : 498, 268, 35, 399, 210.

du mardi

1. Je pose et j'effectue ces opérations sur mon cahier d'essais.

$$56 + 236 = \quad 62 - 47 =$$

2. Je compte de 2 en 2 à partir de  et jusqu'à .

3. Je range dans l'ordre décroissant : 256, 458, 125, 129, 436.

du jeudi

1. Je pose et j'effectue ces opérations sur mon cahier d'essais.

$$378 + 25 + 164 = \quad 359 - 260 =$$

2. Je compte de 1 en 1 à partir de  et jusqu'à .

3. Je complète :  $2000 \text{ m} = \dots \text{ km}$  /  $400 \text{ cm} = \dots \text{ m}$ .

du vendredi

1. Je pose et j'effectue ces opérations sur mon cahier d'essais.

$$852 + 269 = \quad 480 - 265 =$$

2. Je compte de 5 en 5 à partir de  et jusqu'à .

3. Je complète :  $5 \text{ km} = \dots \text{ m}$  /  $7 \text{ m} = \dots \text{ cm}$ .

## Mes petits défis



du lundi

1. Je pose et j'effectue ces opérations sur mon cahier d'essais.

$$459 + 534 = \quad 82 - 35 =$$

2. Je compte de 100 en 100 à partir de  et jusqu'à .

3. Je range dans l'ordre croissant : 498, 268, 35, 399, 210.

du mardi

1. Je pose et j'effectue ces opérations sur mon cahier d'essais.

$$56 + 236 = \quad 62 - 47 =$$

2. Je compte de 2 en 2 à partir de  et jusqu'à .

3. Je range dans l'ordre décroissant : 256, 458, 125, 129, 436.

du jeudi

1. Je pose et j'effectue ces opérations sur mon cahier d'essais.

$$378 + 25 + 164 = \quad 359 - 260 =$$

2. Je compte de 1 en 1 à partir de  et jusqu'à .

3. Je complète :  $2000 \text{ m} = \dots \text{ km}$  /  $400 \text{ cm} = \dots \text{ m}$ .

du vendredi

Je pose et j'effectue ces opérations sur mon cahier d'essais.

$$852 + 269 = \quad 480 - 265 =$$

2. Je compte de 5 en 5 à partir de  et jusqu'à .

3. Je complète :  $5 \text{ km} = \dots \text{ m}$  /  $7 \text{ m} = \dots \text{ cm}$ .



## Mes petits défis



du lundi

1. Je pose et j'effectue ces opérations sur mon cahier d'essais.

$$136 + 56 + 647 = \quad 684 - 351 =$$

2. Je compte de 5 en 5 à partir de **375** et jusqu'à **400**.

3. Je complète :  $3000 \text{ m} = \dots \text{ km}$  /  $400 \text{ cm} = \dots \text{ m}$ .

du mardi

1. Je pose et j'effectue ces opérations sur mon cahier d'essais.

$$631 + 45 = \quad 507 - 262 =$$

2. Je compte de 1 en 1 à partir de **412** et jusqu'à **392**.

3. Je complète :  $6 \text{ km} = \dots \text{ m}$  /  $3 \text{ m} = \dots \text{ cm}$ .

du jeudi

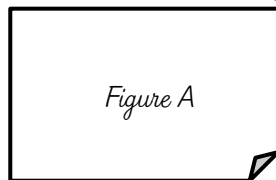
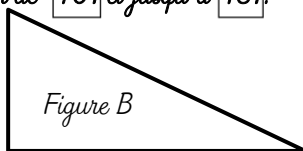
1. J'effectue ces opérations :  $359 + 868 =$      $159 - 67 =$

2. Je compte de 10 en 10 à partir de **401** et jusqu'à **481**.

3. Combien d'angles droits ?

Figure A :

Figure B :



du vendredi

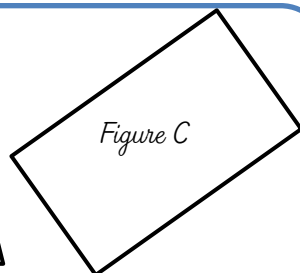
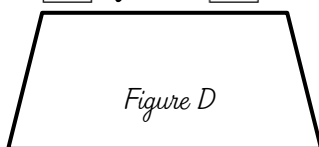
1. J'effectue ces opérations :  $954 + 258 =$      $236 - 67 =$

2. Je compte de 2 en 2 à partir de **492** et jusqu'à **508**.

3. Combien d'angles droits ?

Figure C :

Figure D :



## Mes petits défis



du lundi

1. Je pose et j'effectue ces opérations sur mon cahier d'essais.

$$136 + 56 + 647 = \quad 684 - 351 =$$

2. Je compte de 5 en 5 à partir de **375** et jusqu'à **400**.

3. Je complète :  $3000 \text{ m} = \dots \text{ km}$  /  $400 \text{ cm} = \dots \text{ m}$ .

du mardi

1. Je pose et j'effectue ces opérations sur mon cahier d'essais.

$$631 + 45 = \quad 507 - 262 =$$

2. Je compte de 1 en 1 à partir de **412** et jusqu'à **392**.

3. Je complète :  $6 \text{ km} = \dots \text{ m}$  /  $3 \text{ m} = \dots \text{ cm}$ .

du jeudi

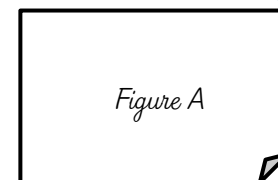
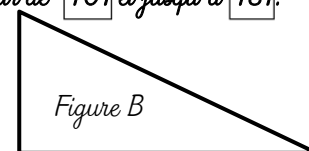
1. J'effectue ces opérations :  $359 + 868 =$      $159 - 67 =$

2. Je compte de 10 en 10 à partir de **401** et jusqu'à **481**.

3. Combien d'angles droits ?

Figure A :

Figure B :



du vendredi

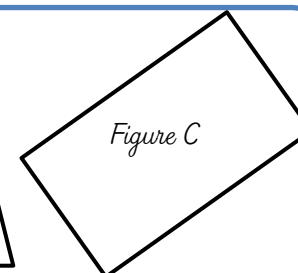
1. J'effectue ces opérations :  $954 + 258 =$      $236 - 67 =$

2. Je compte de 2 en 2 à partir de **492** et jusqu'à **508**.

3. Combien d'angles droits ?

Figure C :

Figure D :



## Mes petits défis

du lundi

1. Je pose et j'effectue ces opérations sur mon cahier d'essais.

$$598 + 625 = \quad 259 - 186 =$$

2. Je compte de 100 en 100 à partir de  $\boxed{75}$  et jusqu'à  $\boxed{675}$ .

3. Je trace un segment  $[CD]$  de 6 cm et je trace un angle droit en D.

du jeudi

1. J'effectue ces opérations :  $52 + 458 =$   $359 - 269 =$

2. Je compte de 5 en 5 à partir de  $\boxed{565}$  et jusqu'à  $\boxed{615}$ .

3. Combien d'angles droits ?

Figure A :

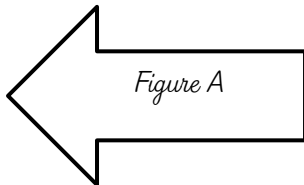


Figure A

Figure B :

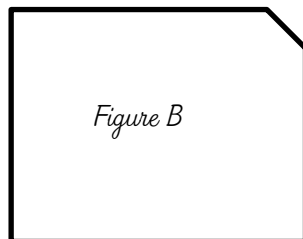


Figure B

4. Je trace un segment  $[EF]$  de 8 cm et je trace deux angles droits : un en E et l'autre en F.

du vendredi

1. J'effectue ces opérations :  $125 + 468 + 598 =$   $265 - 157 =$

2. Je compte de 10 en 10 à partir de  $\boxed{492}$  et jusqu'à  $\boxed{592}$ .

3. Je trace un segment  $[GH]$  de 5 cm et je trace un angle droit sur ce segment.

4. Je complète :  $5\text{ km} = \dots \text{ km} / 2 \text{ m} = \dots \text{ cm}$ .

## Mes petits défis

du lundi

1. Je pose et j'effectue ces opérations sur mon cahier d'essais.

$$598 + 625 = \quad 259 - 186 =$$

2. Je compte de 100 en 100 à partir de  $\boxed{75}$  et jusqu'à  $\boxed{675}$ .

3. Je trace un segment  $[CD]$  de 6 cm et je trace un angle droit en D.

du jeudi

1. J'effectue ces opérations :  $52 + 458 =$   $359 - 269 =$

2. Je compte de 5 en 5 à partir de  $\boxed{565}$  et jusqu'à  $\boxed{615}$ .

3. Combien d'angles droits ?

Figure A :




Figure A

Figure B :

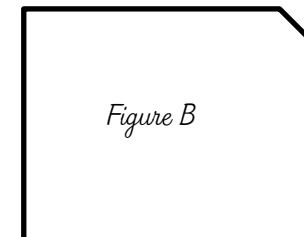


Figure B

4. Je trace un segment  $[EF]$  de 8 cm et je trace deux angles droits : un en E et l'autre en F.

du vendredi

1. J'effectue ces opérations :  $125 + 468 + 598 =$   $265 - 157 =$

2. Je compte de 10 en 10 à partir de  $\boxed{492}$  et jusqu'à  $\boxed{592}$ .

3. Je trace un segment  $[GH]$  de 5 cm et je trace un angle droit sur ce segment.

4. Je complète :  $5\text{ km} = \dots \text{ km} / 2 \text{ m} = \dots \text{ cm}$ .

## Mes petits défis



du lundi

1. Je pose et j'effectue ces opérations sur mon cahier d'essais.

$$258 - 169 = \quad 265 - 92 =$$

2. Je trace un triangle dont un côté mesure 4 cm et un autre 6 cm.

3. Je trace un carré de 5 carreaux de côté.

du mardi

1. Je pose et j'effectue ces opérations :  $598 - 359 =$   $75 \times 2 =$

2. Je trace un triangle dont un côté mesure 7 cm et un autre 5 cm.

3. Je trace un carré de 6 carreaux de côté et un rectangle dont un côté mesure 5 carreaux et un autre 2 carreaux.

du jeudi

1. Je pose et j'effectue ces opérations :  $346 - 329 =$   $354 \times 3 =$

2. Je trace un triangle dont un côté mesure 3 cm et un autre 3 cm.

3. Je trace un carré de 7 carreaux de côté et un rectangle dont un côté mesure 6 carreaux et un autre 5 carreaux.

du vendredi

1. Je pose et j'effectue ces opérations :  $456 - 367 =$   $126 \times 5 =$

2. Je trace un triangle dont un côté mesure 5 cm et un autre 4 cm

3. Je trace un carré de 8 carreaux de côté et un rectangle dont un côté mesure 9 carreaux et un autre 3 carreaux.

## Mes petits défis



du lundi

1. Je pose et j'effectue ces opérations sur mon cahier d'essais.

$$258 - 169 = \quad 265 - 92 =$$

2. Je trace un triangle dont un côté mesure 4 cm et un autre 6 cm.

3. Je trace un carré de 5 carreaux de côté.

du mardi

1. Je pose et j'effectue ces opérations :  $598 - 359 =$   $75 \times 2 =$

2. Je trace un triangle dont un côté mesure 7 cm et un autre 5 cm.

3. Je trace un carré de 6 carreaux de côté et un rectangle dont un côté mesure 5 carreaux et un autre 2 carreaux.

du jeudi

1. Je pose et j'effectue ces opérations :  $346 - 329 =$   $354 \times 3 =$

2. Je trace un triangle dont un côté mesure 3 cm et un autre 3 cm.

3. Je trace un carré de 7 carreaux de côté et un rectangle dont un côté mesure 6 carreaux et un autre 5 carreaux.

du vendredi

1. Je pose et j'effectue ces opérations :  $456 - 367 =$   $126 \times 5 =$

2. Je trace un triangle dont un côté mesure 5 cm et un autre 4 cm

3. Je trace un carré de 8 carreaux de côté et un rectangle dont un côté mesure 9 carreaux et un autre 3 carreaux.