




1	Carole a 9 cartes postales mais elle n'a que 3 timbres. <i>Combien lui manque-t-il de timbres ?</i>




2	Une tablette de chocolat coute 3 €. Madame Guichard achète 4 tablettes. <i>Combien doit-elle payer ?</i>



3	Dans un parking, il y a 6 rangées de 10 places. <i>Combien y a-t-il de places dans ce parking ?</i>



4	Dans sa tirelire, Micky n'a que des pièces de 2 €. En tout il a 8 €. <i>Combien a-t-il de pièces de 2 € ?</i>



3 étoiles : Une si l'opération ou le dessin sont adaptés, une si le résultat est juste, une si la phrase réponse est bien formulée
+ 1 cœur –bonus si l'orthographe est correcte.