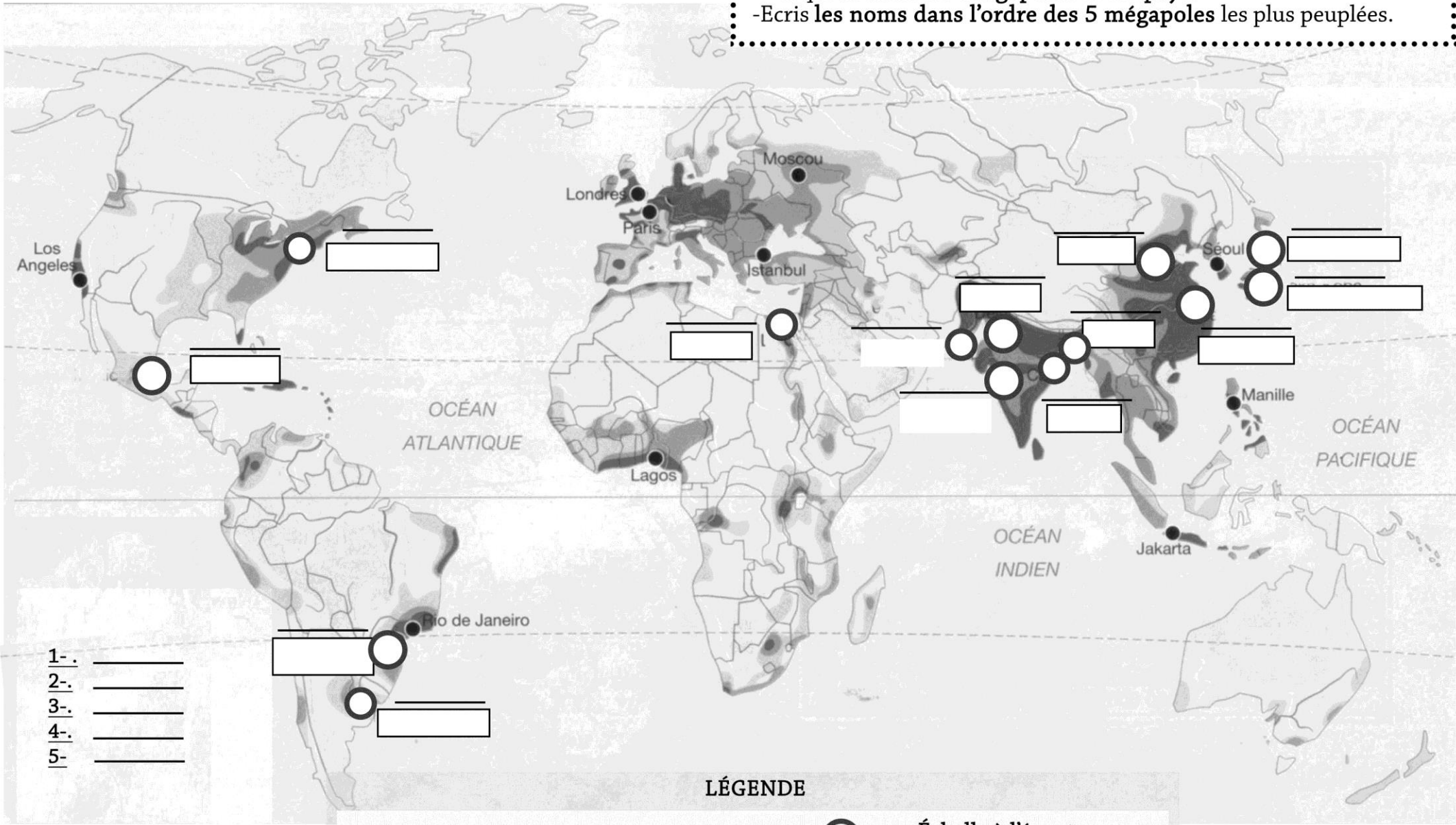




LES PLUS GRANDES MEGAPOLES DU MONDE

- Colorie en rouge les mégapoles de plus de 20 millions d'habitants.
- Colorie en jaune les mégapoles de 15 à 20 millions d'habitants.
- Indique le nom des mégapoles et des pays.
- Ecris les noms dans l'ordre des 5 mégapoles les plus peuplées.



- 1- _____
- 2- _____
- 3- _____
- 4- _____
- 5- _____

LÉGENDE

Mégapoles de 20 millions d'habitants et plus:  **Échelle à l'équateur:**
Mégapoles de 15 à 20 millions d'habitants :  **2500 km**
Autres mégapoles (à partir de 10 millions d'habitants): 