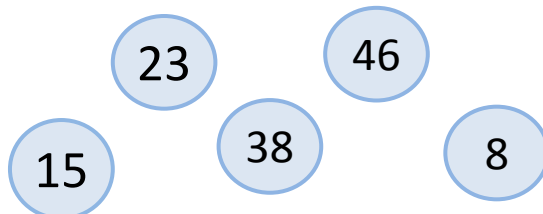
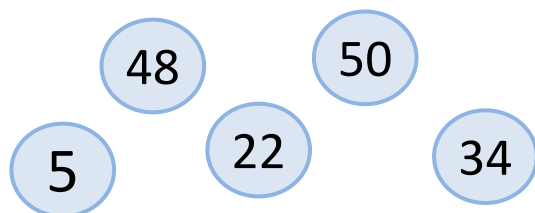


Ranger des nombres

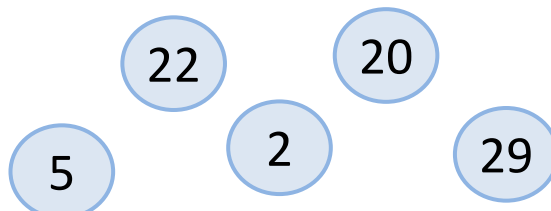
1 Ecris les nombres du plus petit au plus grand :



2 Ecris les nombres du plus grand au plus petit :



3 Ecris les nombres du plus grand au plus petit :



3 Ecris les nombres du plus petit au plus grand :

