



Découverte

Aujourd'hui, Théo et ses amis sont allés voir une comédie musicale dans la grande salle de spectacle « Le palais des Enfants ».  
Ils se demandent combien de spectateurs la salle peut accueillir.



Léana      Marc      Léandro

Plan de la salle



- 1) Trouve le nombre de places.
- 2) Qui a raison (Léana ou Marc) ?

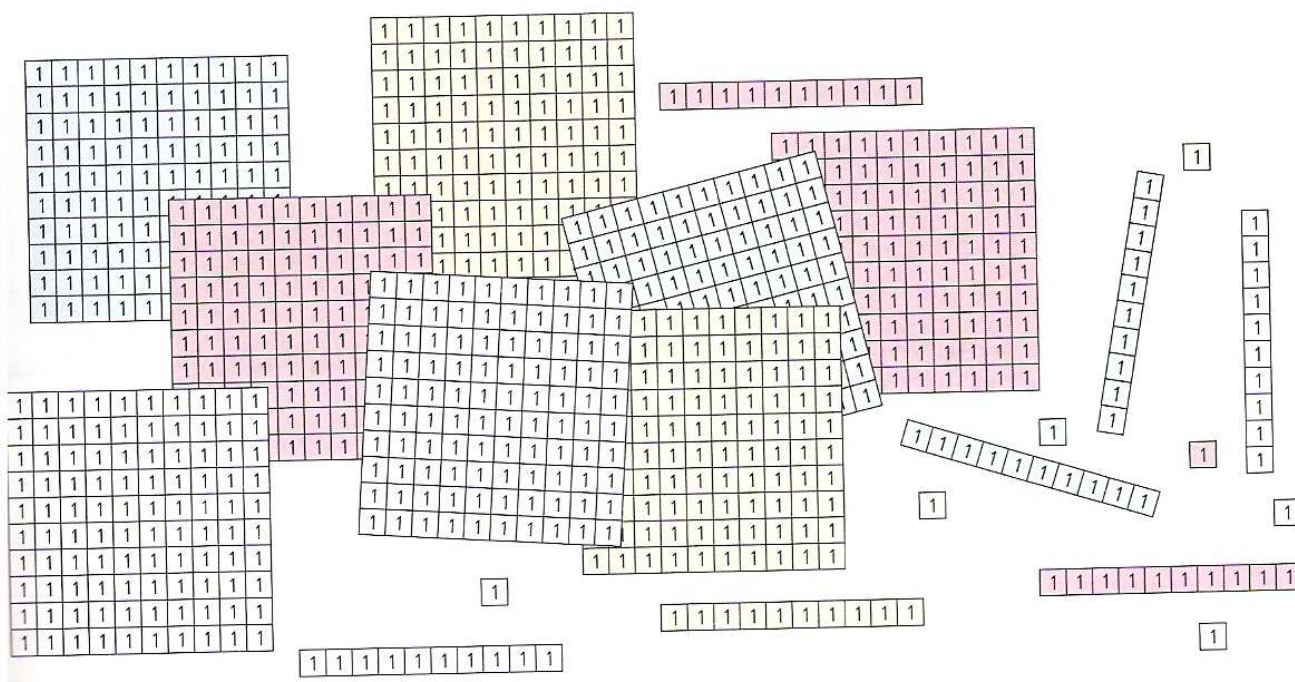
## Je m'entraîne

Pour la kermesse de l'école, il faut découper des jetons carrés dans des plaques quadrillées comme le modèle ci-contre.

Combien de jetons obtiendra-t-on avec le matériel ci-dessous ?

1	1	1	1	1	1	1	1	1	1
1	1	1	1	1	1	1	1	1	1
1	1	1	1	1	1	1	1	1	1
1	1	1	1	1	1	1	1	1	1
1	1	1	1	1	1	1	1	1	1
1	1	1	1	1	1	1	1	1	1
1	1	1	1	1	1	1	1	1	1
1	1	1	1	1	1	1	1	1	1
1	1	1	1	1	1	1	1	1	1
1	1	1	1	1	1	1	1	1	1

modèle



Mes calculs :

Ma phrase réponse :