

Mon problème du jour -33-



Zoé a un paquet de **16 images**.
Elle veut mettre **2 images** dans chaque enveloppe.



Combien d'enveloppes lui faut-il ?

Je cherche	Je calcule
------------	------------

Je réponds
Il lui faut enveloppes.



Mon problème du jour -35-




Dans l'album photo, il y avait **13 photos**.
Gribouille a **enlevé 5 photos**.



Combien reste-t-il de photos ?

Je cherche	Je calcule
------------	------------

Je réponds
Il



Mon problème du jour -34-




Zoé a déjà mis **6 photos** d'Arthur dans une enveloppe.
Elle veut en envoyer **10**.



Combien de photos doit-elle encore mettre dans l'enveloppe ?

Je cherche	Je calcule
------------	------------

Je réponds
Zoé doit mettre



Mon problème du jour -36-



Sur la boîte de craies, Arthur lit : « **18 craies** ».
Il ouvre la boîte et compte. Il **reste 10 craies**.



Combien de craies ont déjà été utilisées ?

Je cherche	Je calcule
------------	------------

Je réponds
..... craies ont déjà été utilisées.



Mon problème du jour -37-



Zoé a **3 enveloppes**.
Chaque enveloppe contient **5 photos**.



Combien Zoé a-t-il de photos ?

Je cherche	Je calcule
Je réponds Zoé	



Mon problème du jour -39-



Au supermarché, les gâteaux sont vendus par **paquets de 20**.
Zoé achète **3 paquets**.



Combien de gâteaux a-t-elle acheté ?

Je cherche	Je calcule
Je réponds Zoé	



Mon problème du jour -38-



Zoé a **3 enveloppes**.
Dans chacune des enveloppes, il y a **4 photos** de Gribouille.



Combien y a-t-il de photos en tout ?

Je cherche	Je calcule
Je réponds Il y a	



Mon problème du jour -40-



Une raquette de ping-pong coûte **8 euros**.
Arthur donne un billet de **10 euros** au marchand.



Que va faire le marchand ?

Je cherche	Je calcule
Je réponds Le marchand	



Mon problème du jour -41-



Zoé, Arthur et Gribouille veulent s'acheter chacun une paire de basket à **21 euros**.

Combien d'euros vont-ils payer en tout ?



Je cherche	Je calcule
Je réponds <i>Ils</i>	



Mon problème du jour -43-



Arthur, Zoé et Arthur veulent se **partager 27 euros**, Et avoir **autant d'euros chacun**.

Combien d'euros chacun aura-t-il ?



Je cherche	Je calcule
Je réponds <i>Chacun</i>	



Mon problème du jour -42-



Zoé a **23 euros** dans sa tirelire. Arthur en a **le double**.

Combien Arthur a-t-il d'euros ?



Je cherche	Je calcule
Je réponds <i>Arthur</i>	



Mon problème du jour -44-




Arthur a préparé **23 crêpes** pour la fête de l'école. Zoé en a préparé **36**.

Combien de crêpes ont-ils préparé en tout ?



Je cherche	Je calcule
Je réponds <i>Ils</i>	



Mon problème du jour -45-



Ce matin, Arthur avait **39 billes**.
Après la récréation, il ne lui en reste que **18**.



Combien de billes Arthur a-t-il perdu ?

Je cherche	Je calcule
------------	------------

Je réponds
Arthur



Mon problème du jour -47-



Après la pluie, Arthur a **ramassé 36 escargots**.
Zoé en a trouvé **32**.



Combien ont-ils trouvé d'escargots en tout ?

Je cherche	Je calcule
------------	------------

Je réponds
Ils



Mon problème du jour -46-



Dans la bibliothèque de Zoé, il y a **57 livres**.
25 de ces livres sont des bandes dessinées.



Si elle enlève les bandes dessinées, combien reste-t-il de livres ?

Je cherche	Je calcule
------------	------------

Je réponds
Il



Mon problème du jour -48-



Zoé a collé ses photos dans son album.
Elle a collé **10 photos sur chacune des 5 premières pages**
et **3 photos** sur la dernière page.



Combien Zoé a-t-elle collé de photos ?

Je cherche	Je calcule
------------	------------

Je réponds
Zoé

