

Prénom : _____

Date : _____

Evaluation CE1 - Géométrie
Octobre 2012

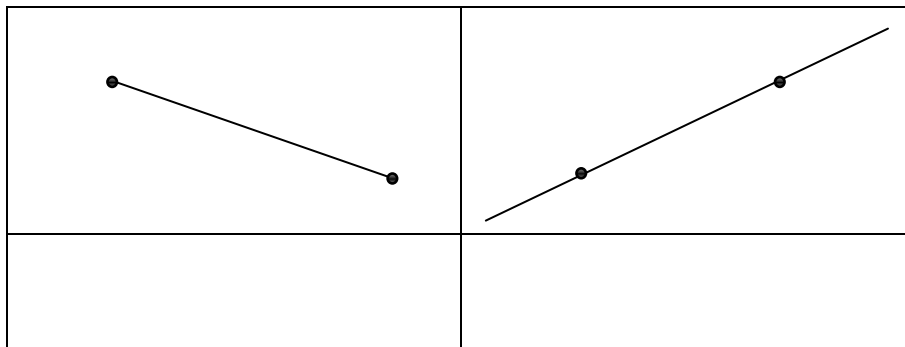
Je sais reconnaître un segment et une droite.
Je sais tracer des segments et des droites passant par des points donnés.
Je sais reconnaître des points alignés.
Je sais tracer des points alignés.

NOTE SUR 10 : /10

MOYENNE CLASSE : /10

1- Ecris dans le cadre si c'est un segment ou une droite.

/2



2- Trace la droite qui passe par les points A et B.

/1,5



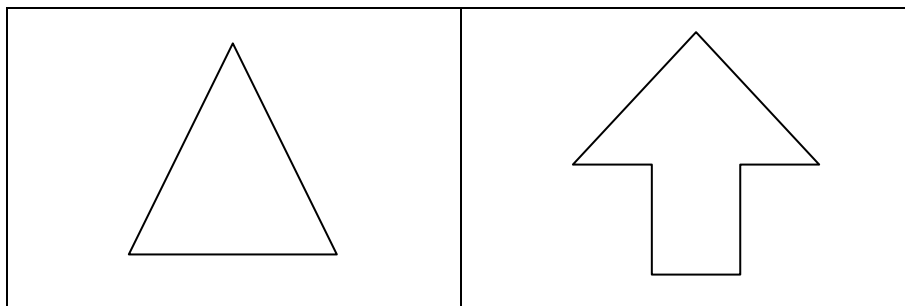
3- Trace le segment qui passe par C et D.

/1,5



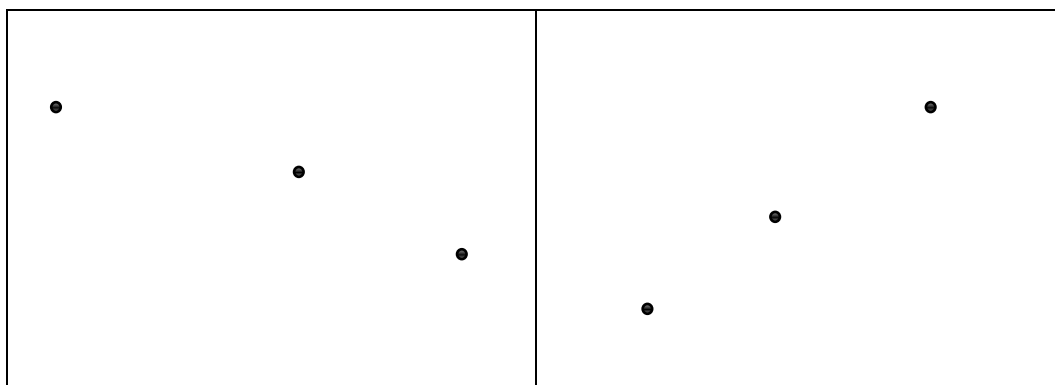
4- Compte le nombre de segments dans chaque figure puis écris-le.

/2



5- Entoure la figure où les points sont alignés puis trace la droite qui passe par A, B et C

/1



6- Dessine 3 points D, E et F qui sont alignés.

/2