

Défi calcul mental n°20






Compétence travaillée : Diviser un nombre à deux chiffres par un nombre à un chiffre (sans reste).

...../ 30 points

1/ Ecris seulement le résultat.

2/ Problème : _____

3/ Calcule le plus rapidement possible.

<input type="checkbox"/>		<input type="checkbox"/>		<input type="checkbox"/>	
--------------------------	---	--------------------------	---	--------------------------	---

$16 : 2 = \dots\dots$ $12 : 3 = \dots\dots$ $36 : 4 = \dots\dots$ $35 : 7 = \dots\dots$ $81 : 9 = \dots\dots$

$42 : 7 = \dots\dots$ $16 : 8 = \dots\dots$ $30 : 5 = \dots\dots$ $24 : 8 = \dots\dots$ $72 : 8 = \dots\dots$

Défi calcul mental n°20






Compétence travaillée : Diviser un nombre à deux chiffres par un nombre à un chiffre (sans reste).

...../ 30 points

1/ Ecris seulement le résultat.

2/ Problème : _____

3/ Calcule le plus rapidement possible.

<input type="checkbox"/>		<input type="checkbox"/>		<input type="checkbox"/>	
--------------------------	---	--------------------------	---	--------------------------	---

$16 : 2 = \dots\dots$ $12 : 3 = \dots\dots$ $36 : 4 = \dots\dots$ $35 : 7 = \dots\dots$ $81 : 9 = \dots\dots$

$42 : 7 = \dots\dots$ $16 : 8 = \dots\dots$ $30 : 5 = \dots\dots$ $24 : 8 = \dots\dots$ $72 : 8 = \dots\dots$