

# CHASSE AU TRÉSOR N°3

Cliquer sur chaque étape du programme de construction

Sur [AB] vers l'Est, trace le segment [AE] = 4,25 cm.

Sur [AD] vers le sud, trace le segment [AF] = 5,9 cm.

Trace le rectangle EAFG

Sur [DA] vers le nord, trace le segment [DH] = 6,4 cm.

Sur [DC] vers l'Est, trace le segment [DI] = 8 cm.

Trace le rectangle HDIJ

Sur [BC] vers le sud, trace le segment [BL] = 2,9 cm.

Trace le segment [GI] puis le segment [LD].

Ces deux segments se coupent en R.

Carte vierge



# CHASSE AU TRÉSOR N°3

Cliquer sur chaque étape du programme de construction

Sur [AB] vers l'Est, trace le segment [AE] = 4,25 cm.

Sur [AD] vers le sud, trace le segment [AF] = 5,9 cm.

Trace le rectangle EAFG

Sur [DA] vers le nord, trace le segment [DH] = 6,4 cm.

Sur [DC] vers l'Est, trace le segment [DI] = 8 cm.

Trace le rectangle HDIJ

Sur [BC] vers le sud, trace le segment [BL] = 2,9 cm.

Trace le segment [GI] puis le segment [LD].

Ces deux segments se coupent en R.

Carte vierge



# CHASSE AU TRÉSOR N°3

Cliquer sur chaque étape du programme de construction

Sur [AB] vers l'Est, trace le segment [AE] = 4,25 cm.

Sur [AD] vers le sud, trace le segment [AF] = 5,9 cm.

Trace le rectangle EAFG

Sur [DA] vers le nord, trace le segment [DH] = 6,4 cm.

Sur [DC] vers l'Est, trace le segment [DI] = 8 cm.

Trace le rectangle HDIJ

Sur [BC] vers le sud, trace le segment [BL] = 2,9 cm.

Trace le segment [GI] puis le segment [LD].

Ces deux segments se coupent en R.

Carte vierge



# CHASSE AU TRÉSOR N°3

Cliquer sur chaque étape du programme de construction

Sur [AB] vers l'Est, trace le segment [AE] = 4,25 cm.

Sur [AD] vers le sud, trace le segment [AF] = 5,9 cm.

Trace le rectangle EAFG

Sur [DA] vers le nord, trace le segment [DH] = 6,4 cm.

Sur [DC] vers l'Est, trace le segment [DI] = 8 cm.

Trace le rectangle HDIJ

Sur [BC] vers le sud, trace le segment [BL] = 2,9 cm.

Trace le segment [GI] puis le segment [LD].

Ces deux segments se coupent en R.

Carte vierge



# CHASSE AU TRÉSOR N°3

Cliquer sur chaque étape du programme de construction

Sur [AB] vers l'Est, trace le segment [AE] = 4,25 cm.

Sur [AD] vers le sud, trace le segment [AF] = 5,9 cm.

Trace le rectangle EAFG

Sur [DA] vers le nord, trace le segment [DH] = 6,4 cm.

Sur [DC] vers l'Est, trace le segment [DI] = 8 cm.

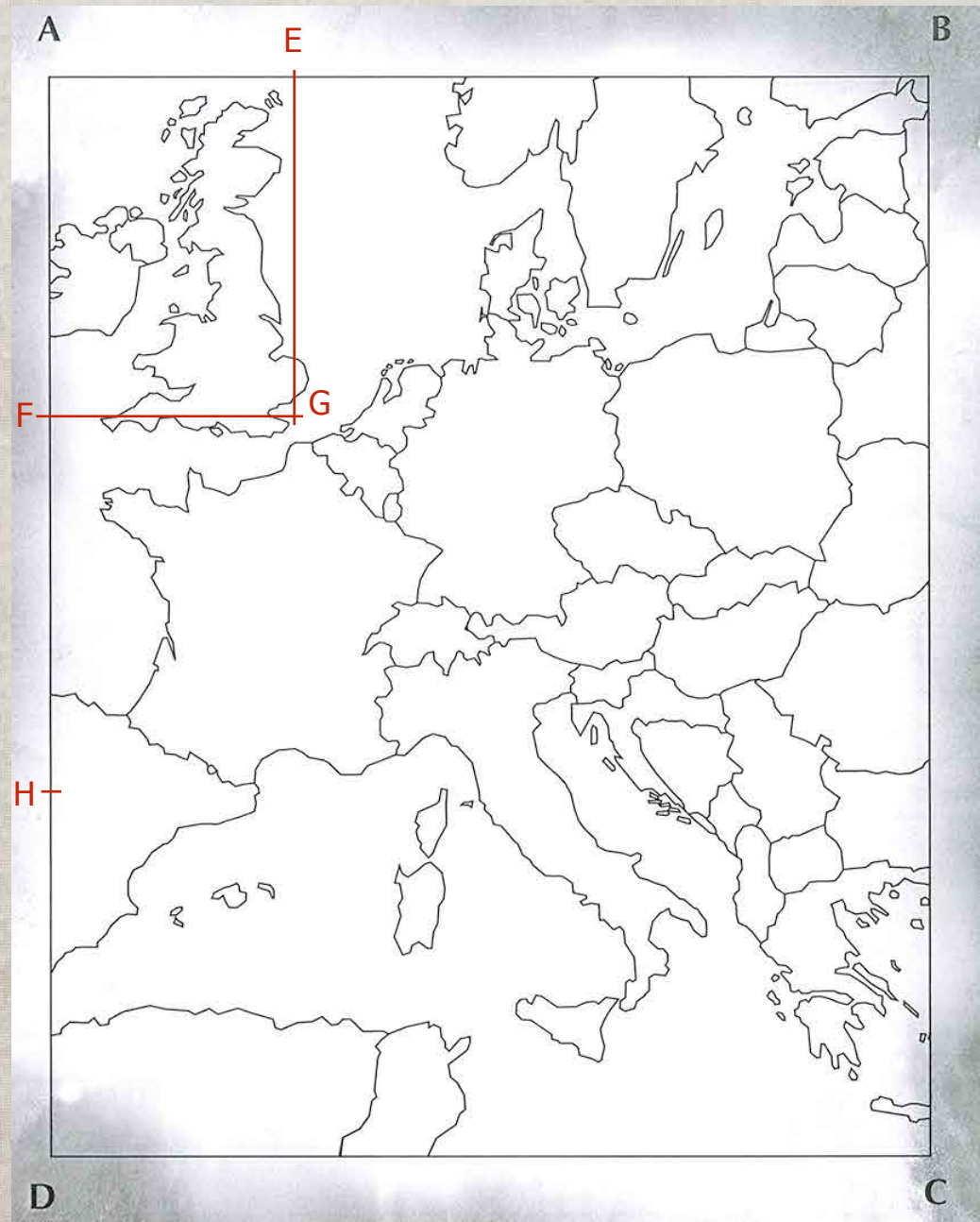
Trace le rectangle HDIJ

Sur [BC] vers le sud, trace le segment [BL] = 2,9 cm.

Trace le segment [GI] puis le segment [LD].

Ces deux segments se coupent en R.

Carte vierge



# CHASSE AU TRÉSOR N°3

Cliquer sur chaque étape du programme de construction

Sur [AB] vers l'Est, trace le segment [AE] = 4,25 cm.

Sur [AD] vers le sud, trace le segment [AF] = 5,9 cm.

Trace le rectangle EAFG

Sur [DA] vers le nord, trace le segment [DH] = 6,4 cm.

Sur [DC] vers l'Est, trace le segment [DI] = 8 cm.

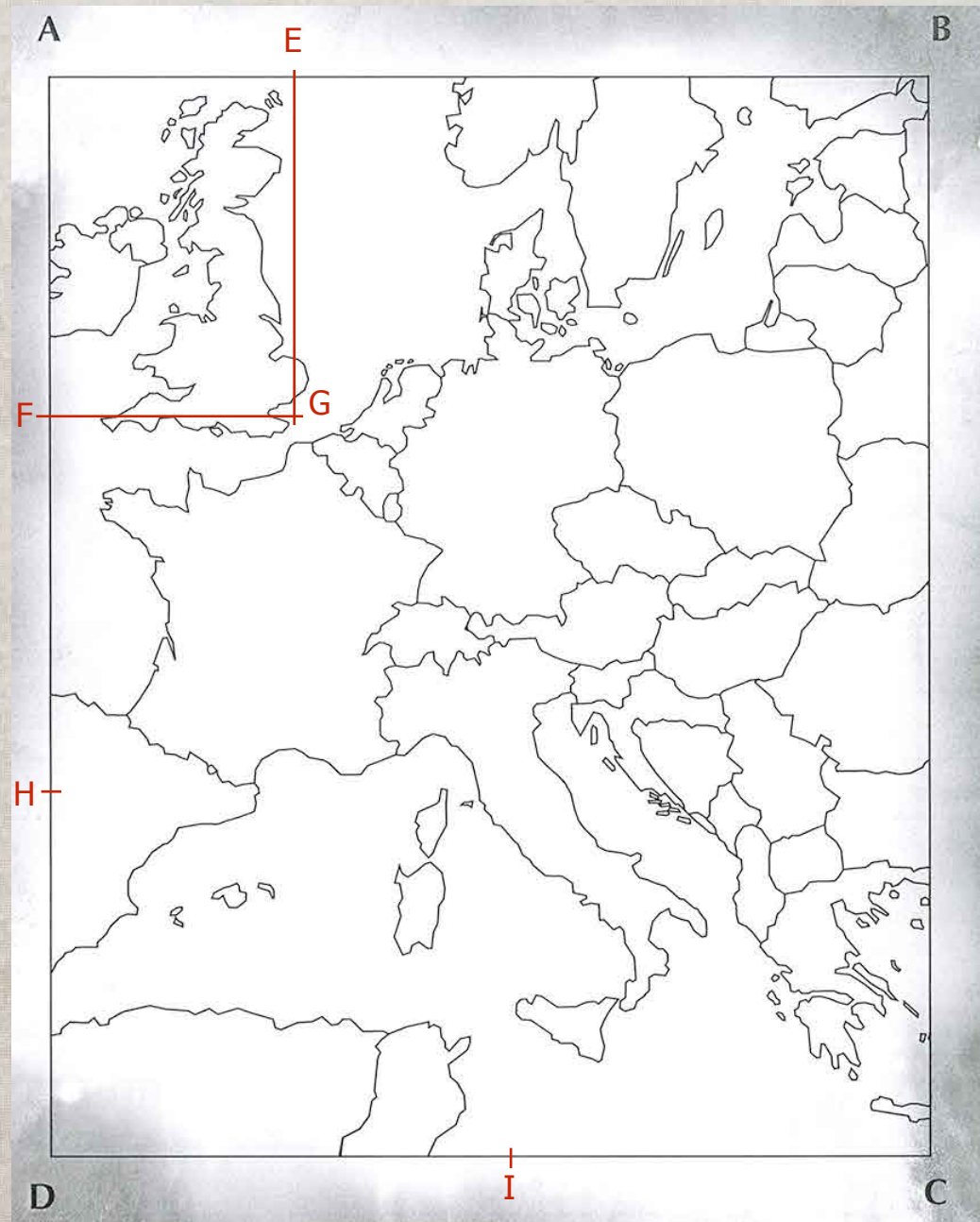
Trace le rectangle HDIJ

Sur [BC] vers le sud, trace le segment [BL] = 2,9 cm.

Trace le segment [GI] puis le segment [LD].

Ces deux segments se coupent en R.

Carte vierge



# CHASSE AU TRÉSOR N°3

Cliquer sur chaque étape du programme de construction

Sur [AB] vers l'Est, trace le segment [AE] = 4,25 cm.

Sur [AD] vers le sud, trace le segment [AF] = 5,9 cm.

Trace le rectangle EAFG

Sur [DA] vers le nord, trace le segment [DH] = 6,4 cm.

Sur [DC] vers l'Est, trace le segment [DI] = 8 cm.

Trace le rectangle HDIJ

Sur [BC] vers le sud, trace le segment [BJ] = 2,9 cm.

Trace le segment [GI] puis le segment [LD].

Ces deux segments se coupent en R.

Carte vierge



# CHASSE AU TRÉSOR N°3

Cliquer sur chaque étape du programme de construction

Sur [AB] vers l'Est, trace le segment [AE] = 4,25 cm.

Sur [AD] vers le sud, trace le segment [AF] = 5,9 cm.

Trace le rectangle EAFG

Sur [DA] vers le nord, trace le segment [DH] = 6,4 cm.

Sur [DC] vers l'Est, trace le segment [DI] = 8 cm.

Trace le rectangle HDIJ

Sur [BC] vers le sud, trace le segment [BL] = 2,9 cm.

Trace le segment [GI] puis le segment [LD].

Ces deux segments se coupent en R.

Carte vierge





# CHASSE AU TRÉSOR N°3

Cliquer sur chaque étape du programme de construction

Sur [AB] vers l'Est, trace le segment [AE] = 4,25 cm.

Sur [AD] vers le sud, trace le segment [AF] = 5,9 cm.

Trace le rectangle EAFG

Sur [DA] vers le nord, trace le segment [DH] = 6,4 cm.

Sur [DC] vers l'Est, trace le segment [DI] = 8 cm.

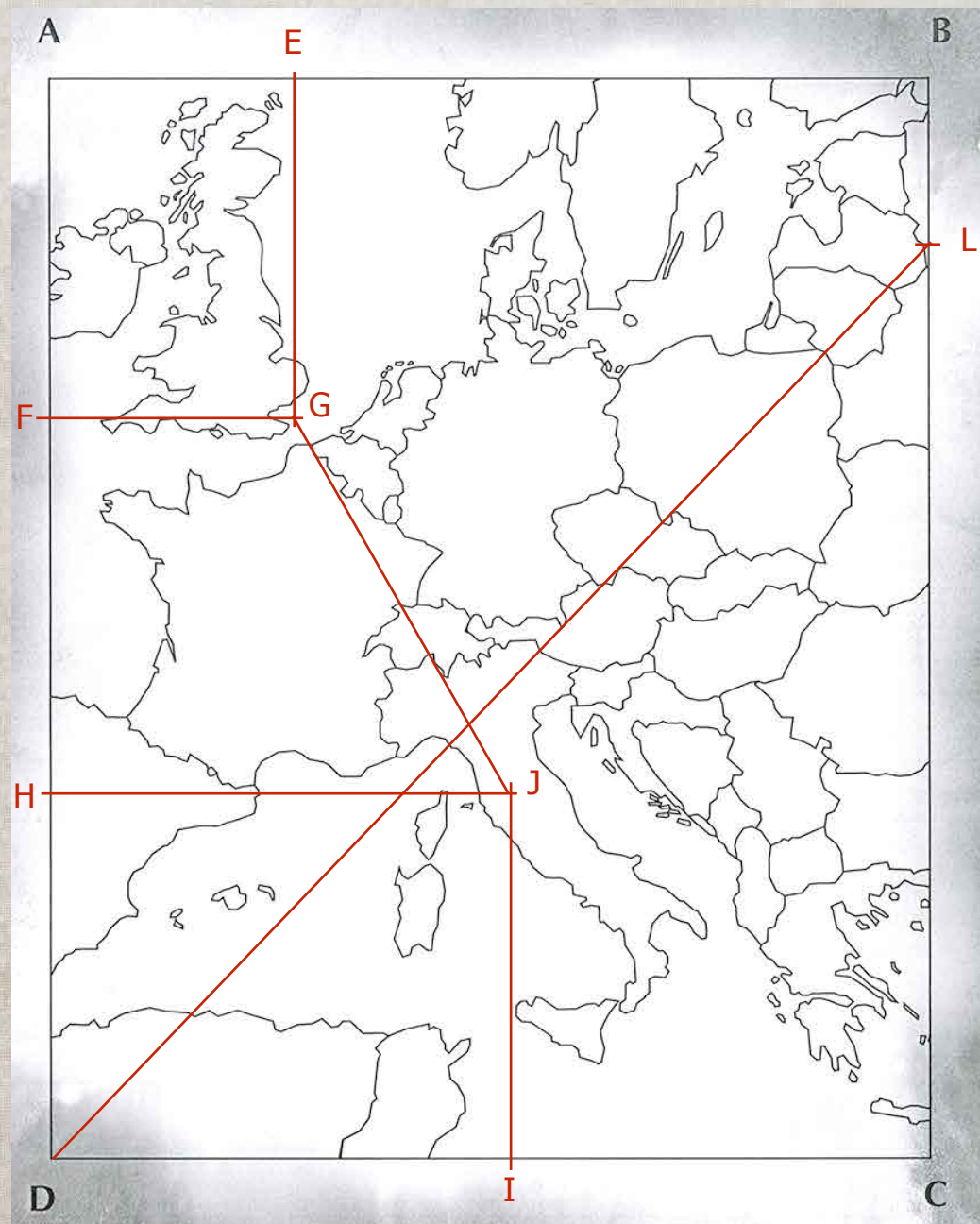
Trace le rectangle HDIJ

Sur [BC] vers le sud, trace le segment [BL] = 2,9 cm.

Trace le segment [GI] puis le segment [LD].

Ces deux segments se coupent en R.

Carte vierge



# CHASSE AU TRÉSOR N°3

Cliquer sur chaque étape du programme de construction

Sur [AB] vers l'Est, trace le segment [AE] = 4,25 cm.

Sur [AD] vers le sud, trace le segment [AF] = 5,9 cm.

Trace le rectangle EAFG

Sur [DA] vers le nord, trace le segment [DH] = 6,4 cm.

Sur [DC] vers l'Est, trace le segment [DI] = 8 cm.

Trace le rectangle HDIJ

Sur [BC] vers le sud, trace le segment [BL] = 2,9 cm.

Trace le segment [GI] puis le segment [LD].

Ces deux segments se coupent en R.

Carte vierge

**LE TRÉSOR SE TROUVE EN ITALIE**

