

$$\frac{1}{8}$$

$$\frac{2}{8}$$

$$\frac{3}{8}$$

$$\frac{4}{8}$$

$$\frac{5}{8}$$

$$\frac{6}{8}$$

$$\frac{7}{8}$$

$$\frac{8}{8}$$

$$\frac{1}{4}$$

$$\frac{2}{4}$$

$$\frac{3}{4}$$

$$\frac{4}{4}$$

$$\frac{1}{2}$$

$$\frac{2}{2}$$

4

→ Numéro de l'étape




8

→ Nom de l'escargot

Où se trouve l'escargot « huitièmes » ?  
A la quatrième étape !

# L'escargot « DEMIS »

Je partage mon trajet en DEUX.



Etape 0


Etape 1

Etape 2



# L'escargot « HUITIEMES »

Je partage mon trajet en HUIT.



Etape 0


Etape 4

Etape 8

--	--	--	--	--	--	--	--

# L'escargot « QUARTS »

Je partage mon trajet en QUATRE.



Etape 0



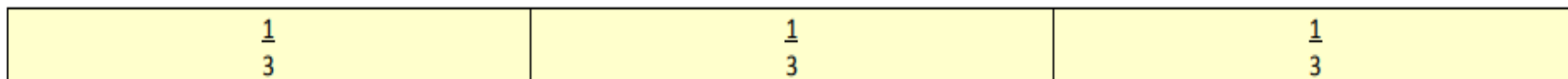

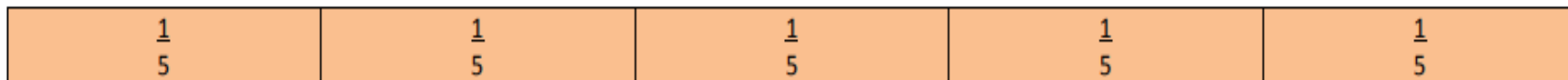

Etape 1

Etape 2

Etape 3

Etape 4

--	--	--	--





Trouve d'autres fractions équivalentes.

--	--	--	--	--	--	--	--	--	--

--	--	--	--	--	--	--	--	--

--	--	--	--	--	--	--

--	--	--	--	--

--	--	--	--

--	--	--

--	--

--