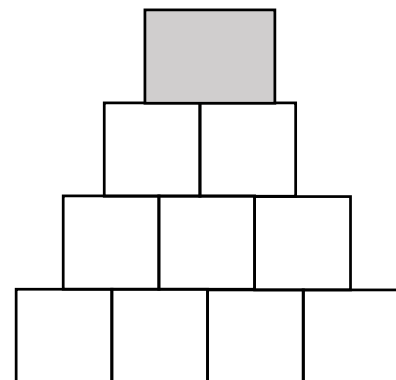
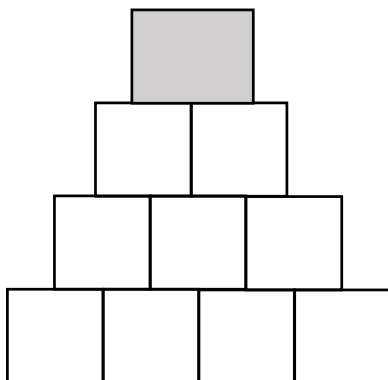
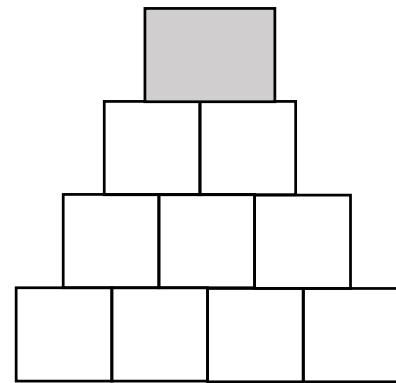
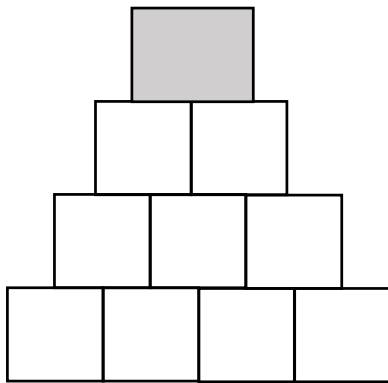
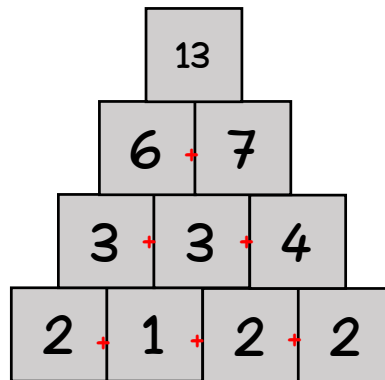


# MISSION N°5 : PYRAMIDE FINALE



En partant du bas de la pyramide, notez dans chaque pyramide les 4 codes que vous avez obtenus.  
Puis additionnez chaque chiffre à son voisin comme dans l'exemple.



Trouvez le code final en ne gardant que le chiffre des dizaines de chaque nombre grisé.

Code final :

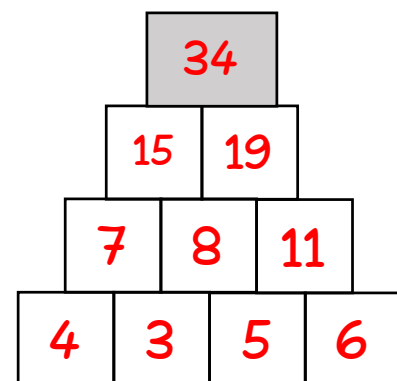
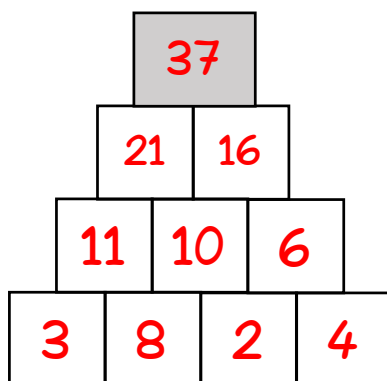
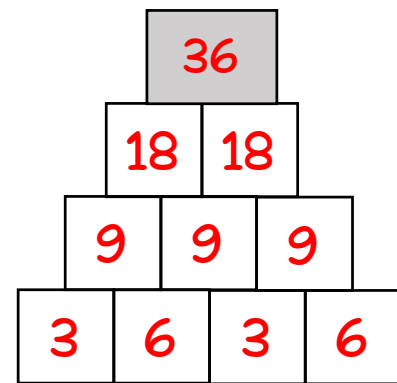
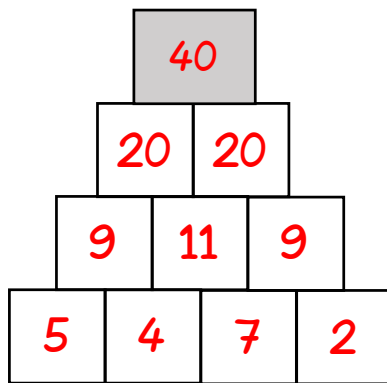
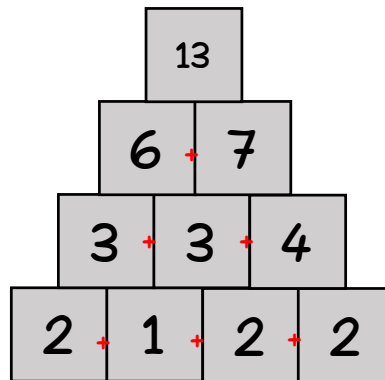
--	--	--	--



# MISSION N°5 : PYRAMIDE FINALE



En partant du bas de la pyramide, notez dans chaque pyramide les 4 codes que vous avez obtenus.  
Puis additionnez chaque chiffre à son voisin comme dans l'exemple.



Trouvez le code final en ne gardant que le chiffre des dizaines de chaque nombre grisé.

Code final :

4
---

3
---

3
---

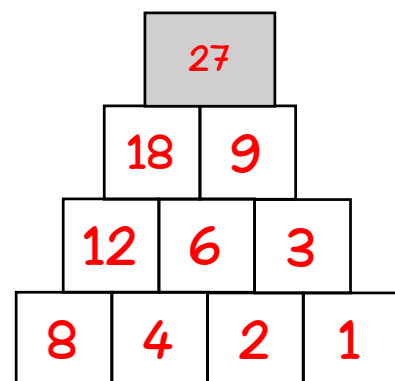
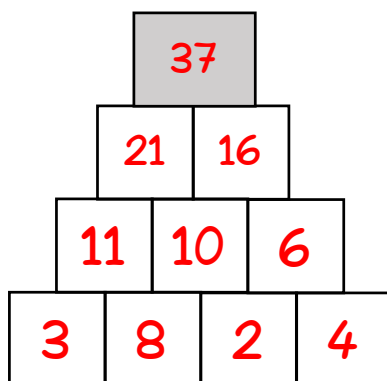
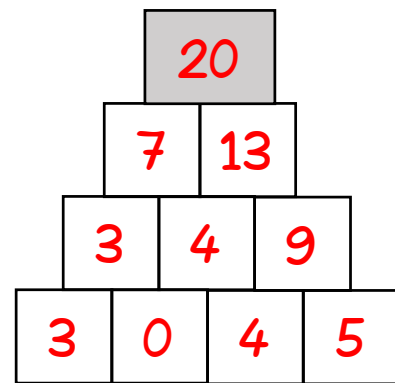
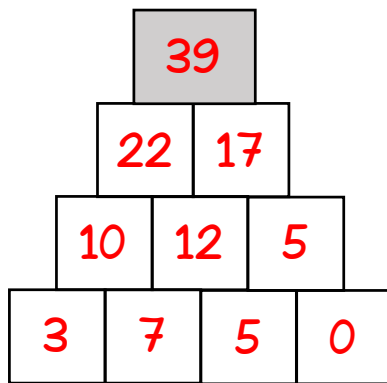
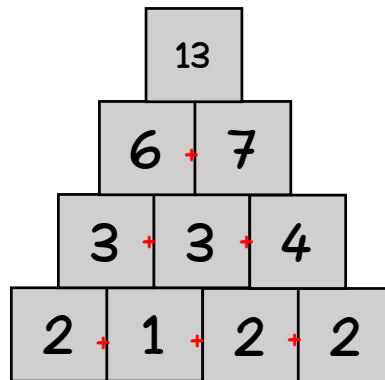
3
---



# MISSION N°5 : PYRAMIDE FINALE



En partant du bas de la pyramide, notez dans chaque pyramide les 4 codes que vous avez obtenus.  
Puis additionnez chaque chiffre à son voisin comme dans l'exemple.



Trouvez le code final en ne gardant que le chiffre des dizaines de chaque nombre grisé.

Code final :

3

2

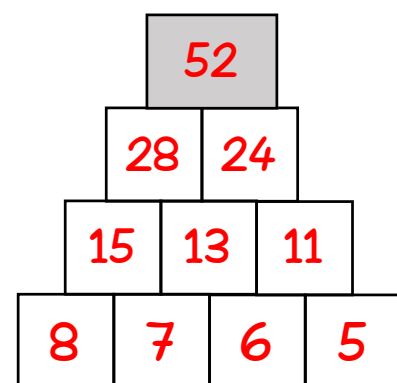
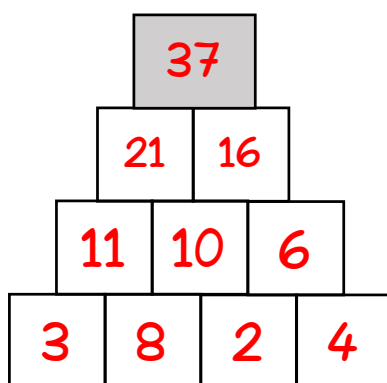
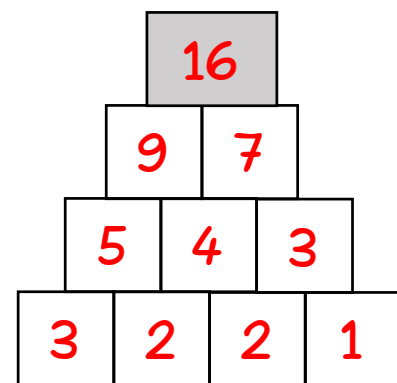
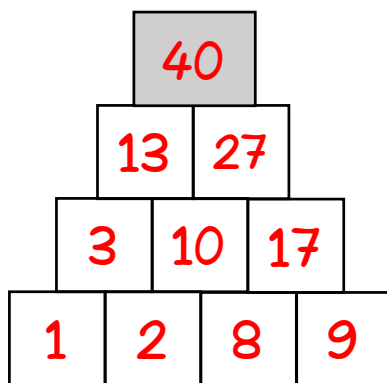
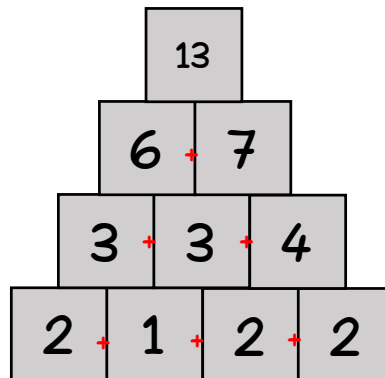
3

2

# MISSION N°5 : PYRAMIDE FINALE



En partant du bas de la pyramide, notez dans chaque pyramide les 4 codes que vous avez obtenus.  
Puis additionnez chaque chiffre à son voisin comme dans l'exemple.



Trouvez le code final en ne gardant que le chiffre des dizaines de chaque nombre grisé.

Code final :

4

1

3

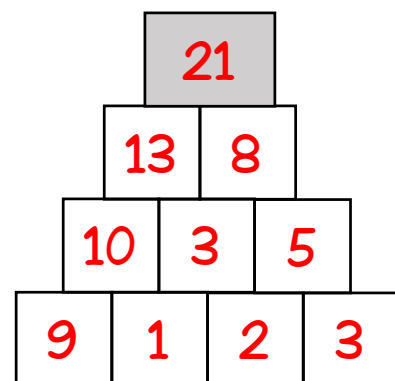
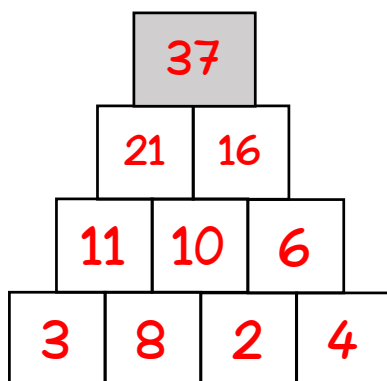
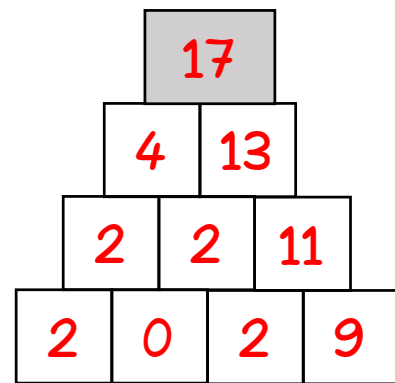
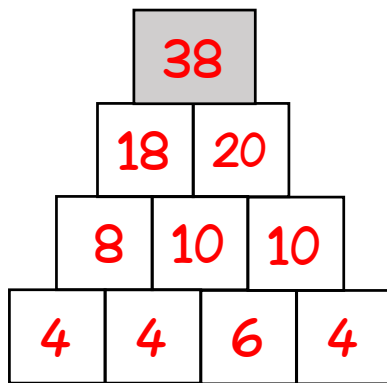
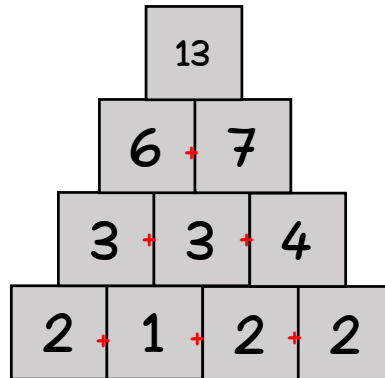
5



# MISSION N°5 : PYRAMIDE FINALE



En partant du bas de la pyramide, notez dans chaque pyramide les 4 codes que vous avez obtenus.  
Puis additionnez chaque chiffre à son voisin comme dans l'exemple.



Trouvez le code final en ne gardant que le chiffre des dizaines de chaque nombre grisé.

Code final :

3

1

3

2