

N : Nord

S : Sud

O : Ouest

E : Est

❶ Repère la France : dans quelle partie de l'Europe se trouve-t-elle ?

---



---

❷ L'océan Atlantique est-il situé à l'est ou à l'ouest de la France ?

---

Doc 1 : Rose des vents à quatre directions.

❸ La mer Méditerranée se trouve-t-elle au nord ou au sud de la France ?

---

❹ Repère Paris et Moscou. Où se trouve Moscou par rapport à Paris ?

---



Doc 2 : Carte de l'Europe.

*Se repérer sur une carte*

Pour localiser un lieu A par rapport à un lieu B, il faut :

- Repérer les lieux A et B sur la carte ;
- Trouver le nord en s'aidant de la flèche qui indique cette direction ;
- Regarder la rose des vents qui donne les trois autres directions et les repérer sur la carte car elles ne sont pas indiquées par des flèches ;
- Utiliser ces repères (nord, sud, est, ouest) pour situer le lieu A par rapport au lieu B.



**Doc 4** : Une boussole.

⑤ Observe la carte au trésor. Où se trouvent la Baie de la Mort ? le Rocher noir ? la Côte des Trépassés ?

---



---



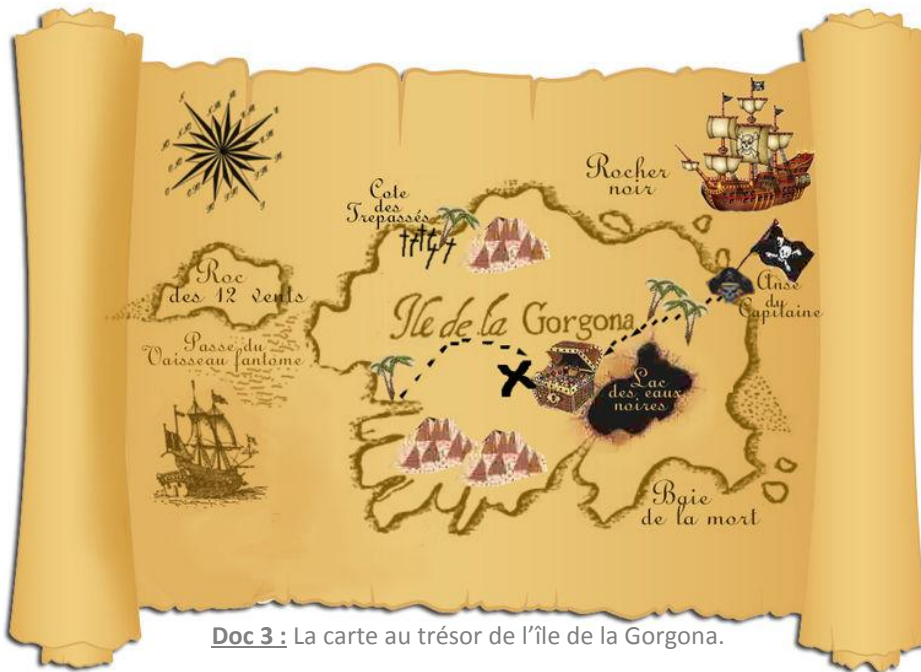
---

⑥ Si tu arrives par la mer à bord du bateau dessiné sur la carte, dans quelle partie de l'île vas-tu arriver ?

---



---



**Doc 3** : La carte au trésor de l'île de la Gorgona.

⑦ Repère le coffre au trésor. La carte indique le chemin à suivre pour l'atteindre. La clé du coffre se trouve à « l'Anse du Capitaine ». Rédige un texte pour décrire ton itinéraire : fais attention à bien nommer les lieux par lesquels tu passes et les directions que tu dois suivre pour y arriver. Aide-toi de la rose des vents (doc 1).

---



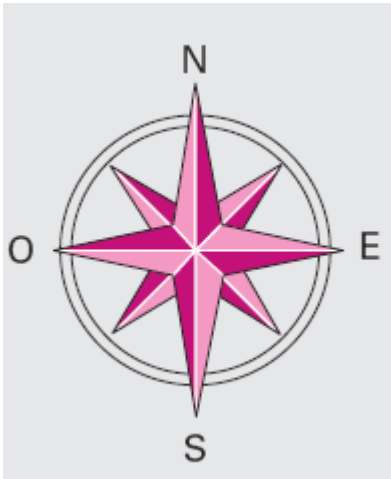
---



---



---



N : Nord

S : Sud

O : Ouest

E : Est

❶ Repère la France : dans quelle partie de l'Europe se trouve-t-elle ?

*La France se trouve à l'ouest de l'Europe, c'est-à-dire en Europe occidentale.*

❷ L'océan Atlantique est-il situé à l'est ou à l'ouest de la France ?

*L'océan Atlantique est situé à l'ouest de la France.*

Doc 1 : Rose des vents à quatre directions.

❸ La mer Méditerranée se trouve-t-elle au nord ou au sud de la France ?

*La mer Méditerranée se trouve au sud de la France.*

❹ Repère Paris et Moscou. Où se trouve Moscou par rapport à Paris ?

*Moscou se situe à l'est de Paris. Cette ville est située en Europe de l'Est.*



Doc 2 : Carte de l'Europe.

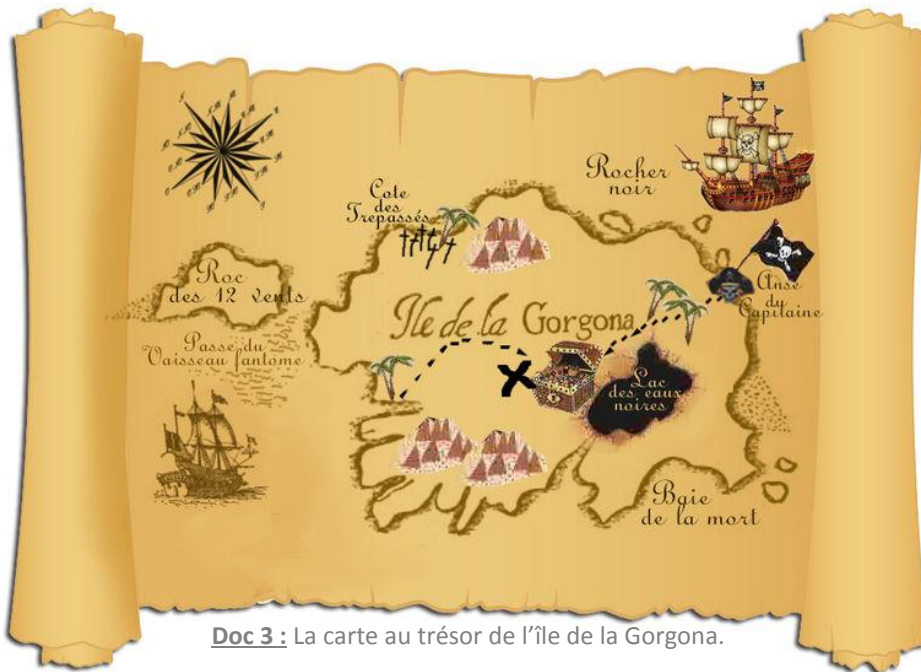
*Se repérer sur une carte*

Pour localiser un lieu A par rapport à un lieu B, il faut :

- Repérer les lieux A et B sur la carte ;
- Trouver le nord en s'aidant de la flèche qui indique cette direction ;
- Regarder la rose des vents qui donne les trois autres directions et les repérer sur la carte car elles ne sont pas indiquées par des flèches ;
- Utiliser ces repères (nord, sud, est, ouest) pour situer le lieu A par rapport au lieu B.



**Doc 4** : Une boussole.



**Doc 3** : La carte au trésor de l'île de la Gorgona.

⑤ Observe la carte au trésor. Où se trouvent la Baie de la Mort ? le Rocher noir ? la Côte des Trépassés ?

*La Baie de la Mort se situe au sud de l'île.*

*Le Rocher noir se situe au nord de l'île.*

*La Côte des Trépassés est au nord-ouest.*

⑥ Si tu arrives par la mer à bord du bateau dessiné sur la carte, dans quelle partie de l'île vas-tu arriver ?

*Si l'on arrive en bateau, on arrive au nord-est de l'île.*

⑦ Repère le coffre au trésor. La carte indique le chemin à suivre pour l'atteindre. La clé du coffre se trouve à « l'Anse du Capitaine ». Rédige un texte pour décrire ton itinéraire : fais attention à bien nommer les lieux par lesquels tu passes et les directions que tu dois suivre pour y arriver. Aide-toi de la rose des vents (doc 1).

---



---



---



---



---

Porienter sur une carte

Ef. paragraphe « Se repérer sur une carte »

Porienter sur une carte

Ef. paragraphe « Se repérer sur une carte »

Porienter sur une carte

Ef. paragraphe « Se repérer sur une carte »

Porienter sur une carte

Ef. paragraphe « Se repérer sur une carte »

Porienter sur une carte

Ef. paragraphe « Se repérer sur une carte »

Porienter sur une carte

Ef. paragraphe « Se repérer sur une carte »