

Prénom: _____

Signature des parents

Mon programme:     

Bilan du plan de travail:

- Programme tenu
- Programme non tenu
- Programme dépassé

Commentaire: _____

ORTHOGRAPHE



Ecris une phrase avec chacun des mots suivants:

escargot:

fabriquer:

ORTHOGRAPHE



Ecris un adjectif de la même famille que les noms suivants:

magicien: _____ mécanicien: _____
politicien: _____ technicien: _____

Écris un verbe de la même famille que les noms suivants:

bloc: _____ choc: _____
parc: _____ trafic: _____
pic: _____ fabrication : _____

ORTHOGRAPHE



Remets en ordre les lettres pour former des mots contenant le phonème [ɔ]:

T L M O P
E G N S

B N O J A
M

N E T M N
O

O T E R R
N M

VOCABULAIRE



Trouve le mot générique pour chaque liste de mots:

- gilet – polo – jupe – chaussettes: _____
- dictionnaire – bande dessinée – roman – documentaire: _____
- jongleur – acrobate – chapiteau – dompteur – clown : _____

VOCABULAIRE



Barre l'intrus de chaque liste:

- truelle – marteau – rideau – tournevis
- perceuse – ponceuse – rabot – cuillère
- vis – écrou – crevette – joint
- chêne – pin – hêtre – fougère – châtaignier
- chien – chat – lapin – guêpe – canari
- chaise – armoire – table – orange - lampe

VOCABULAIRE



Range chaque liste de groupes de lettres dans l'ordre alphabétique:

mi – me – pa – lo – mu: _____
bre – bul – bac – but – bal: _____

NUMERATION



Écris les nombres en chiffres:

quatre-cent-trente-cinq: _____ quatre-cent-quatre-vingt-treize: _____
six-cent-quarante-neuf: _____ huit-cent-soixante-neuf: _____
huit-cent-soixante-trois: _____ neuf-cent-quatre-vingt-douze: _____
cinq-cent-treize: _____ six-cent-neuf: _____

NUMERATION



Écris les nombres en lettres:

254:

443:

NUMERATION



Écris le nombre décomposé:

$800 + 50 + 9 =$ _____ $200 + 30 + 4 =$ _____ $300 + 70 + 6 =$ _____


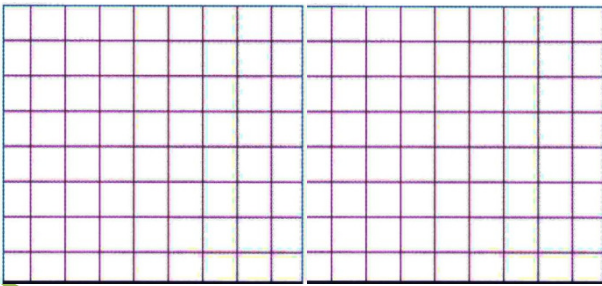
Décompose les nombres suivants:

$487 =$ _____ $873 =$ _____ $664 =$ _____

PROBLEME



La salle de spectacle peut accueillir 651 spectateurs. Pour le prochain concert, 438 places sont déjà vendues. Combien de places sont encore disponibles?



CALCUL




Calcule les additions suivantes:

$\begin{array}{r} 347 \\ + 88 \\ \hline \end{array}$	$\begin{array}{r} 104 \\ + 198 \\ \hline \end{array}$	$\begin{array}{r} 946 \\ + 37 \\ \hline \end{array}$	$\begin{array}{r} 528 \\ + 395 \\ \hline \end{array}$	$\begin{array}{r} 476 \\ + 428 \\ \hline \end{array}$	$\begin{array}{r} 749 \\ + 73 \\ \hline \end{array}$
--	---	--	---	---	--

GEOMETRIE



Continue la frise:



LECTURE



Tu peux prendre un livre dans le carton.

GEOMETRIE



Tu peux prendre le fichier de reproduction sur quadrillage et faire une photocopie.

DETENTE



Tu peux prendre le fichier de mandalas et faire une photocopie.