


LA FRISE CHRONOLOGIQUE

Date : _____

A Lire la frise chronologique



1 Observe la frise chronologique ci-dessus puis colorie les bonnes réponses.

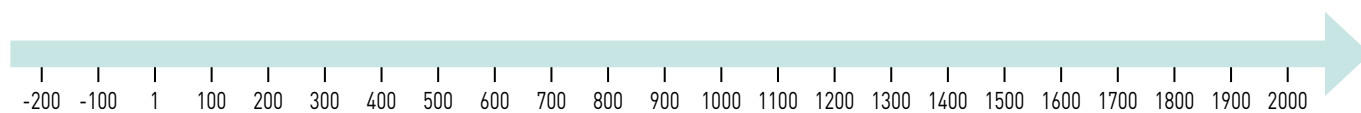
- a. La guerre de Cent Ans a commencé en .
- b. Le baptême de Clovis a eu lieu la guerre de Cent Ans.
- c. La prise de la Bastille a eu lieu la guerre de Cent Ans.
- d. Le roi le plus ancien sur cette frise est .

2 Relie chaque événement à sa date.

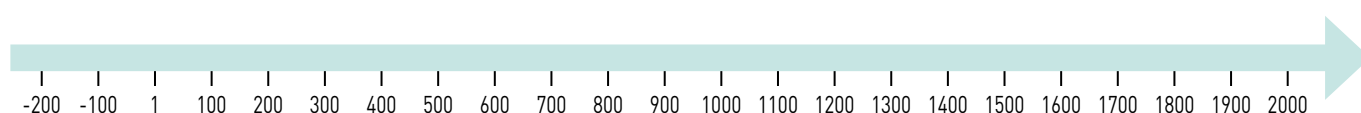
- | | |
|----------------------------|-------------|
| le baptême de Clovis ● | ● 1789 |
| la prise de la Bastille ● | ● 987 |
| Hugues Capet devient roi ● | ● 496 |
| la guerre de Cent Ans ● | ● 1337-1453 |

B Écrire les dates sur la frise

3 Sur la frise chronologique, entoure la date du début de notre calendrier.

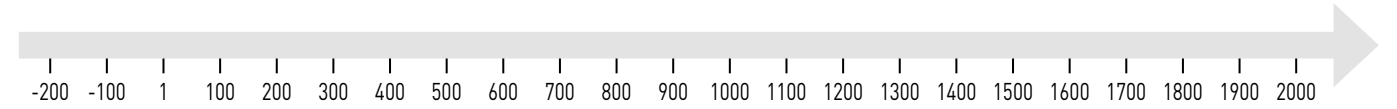


4 Sur la frise chronologique, dessine un point et écris au-dessus chacune des dates suivantes : 1848, 632, 1125, 800, 1515 et 125.



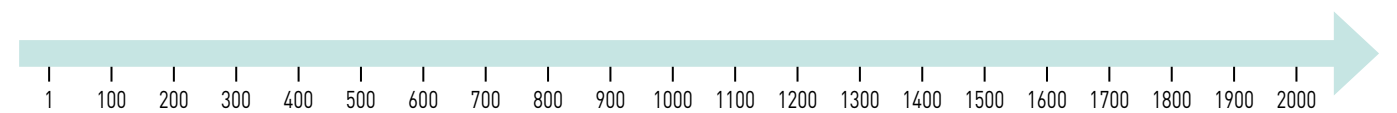
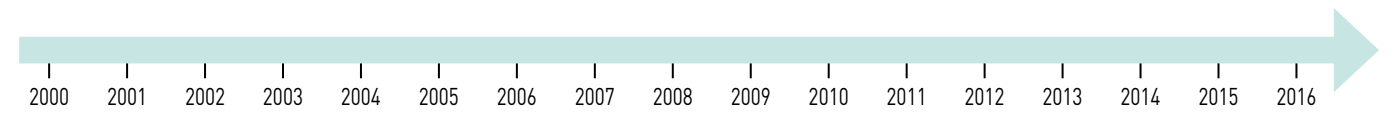
C Placer les périodes sur la frise

5 Sur la frise chronologique, colorie en rouge la période du Moyen Âge (d'environ 500 à 1500).



D Utiliser des frises à différentes échelles

6 Sur chacune de ces frises, indique ta naissance par un point.



E Comprendre la frise chronologique

7 Réponds aux questions en faisant une phrase à chaque fois.

- a. Que représente la frise chronologique ? _____

- b. Sur une frise chronologique, de quel côté se trouve le passé ? _____

- c. Pourquoi les frises chronologiques se terminent-elles à droite par une flèche ? _____

JE RETIENS

→ La frise _____ représente le temps qui passe. Le passé se trouve à _____. À droite, la frise se termine par une _____ pour indiquer que le temps n'est pas terminé. Sur une frise chronologique, on peut situer dans le temps des dates ou des _____.