




Joueur 1




Joueur 2




JOUER 3




JOUER 4







JEU COLLECTIF



Pizza pour jeu collectif





Pions et pizzas pour jeu individuel

lire les fractions



représenter les fractions



comparer les fractions



le chat recule!



comparer les fractions



lire les fractions



représenter les fractions



comparer les fractions



# La course aux pizzas!

représenter les fractions



lire les fractions



lire les fractions



le chat recule!



comparer les fractions



représenter les fractions



représenter les fractions



lire les fractions



comparer les fractions



le chat recule!



comparer les fractions

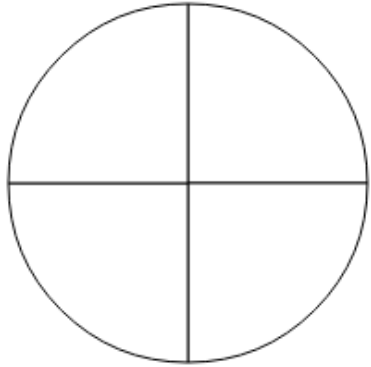
lire les fractions



Représenter les fractions

1

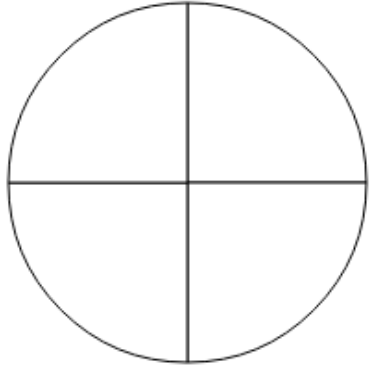
Représente la fraction  $3/4$



Représenter les fractions

2

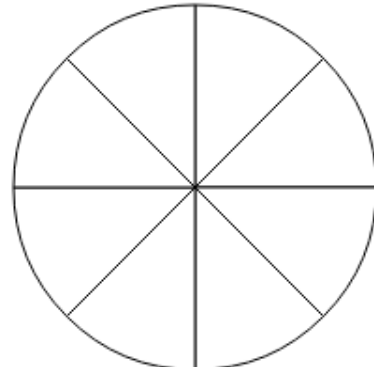
Représente la fraction  $1/2$



Représenter les fractions

3

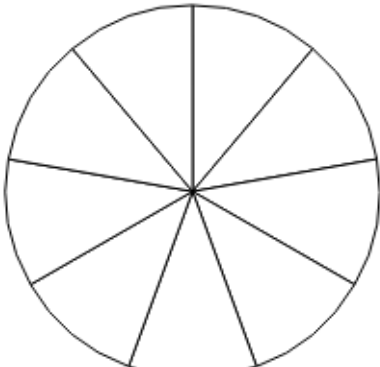
Représente la fraction  $1/4$



Représenter les fractions

4

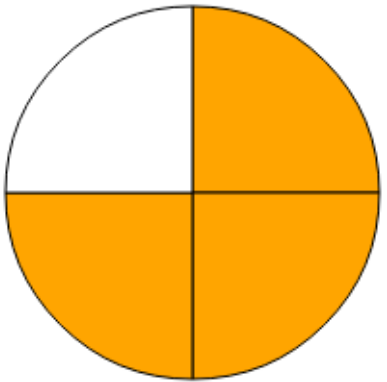
Représente la fraction  $2/3$



Représenter les fractions - correction

1

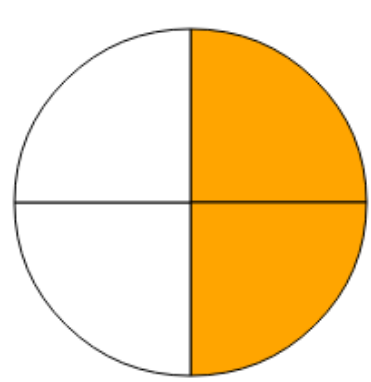
Représente la fraction  $3/4$



Représenter les fractions - correction

2

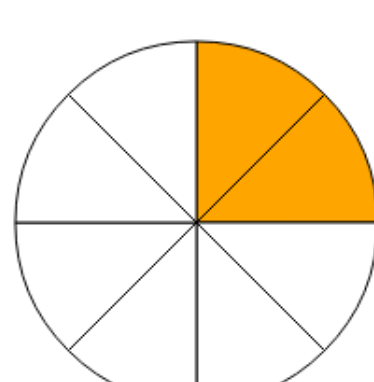
Représente la fraction  $1/2$



Représenter les fractions - correction

3

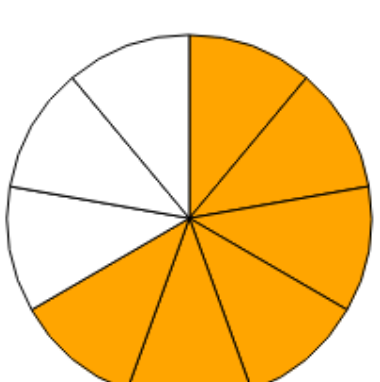
Représente la fraction  $1/4$



Représenter les fractions - correction

4

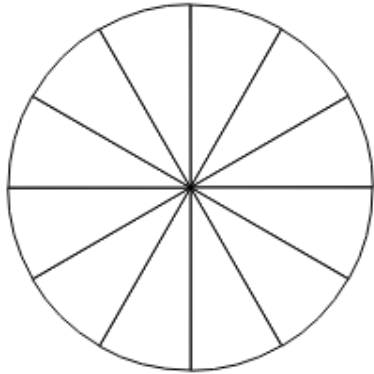
Représente la fraction  $2/3$



Représenter les fractions

5


Représente la fraction  $1/3$



Représenter les fractions

6

Représente la fraction  $3/4$



Représenter les fractions

7

Représente la fraction  $3/10$



Représenter les fractions

8

Représente la fraction  $1/2$



Représenter les fractions - correction

5


Représente la fraction  $1/3$



Représenter les fractions - correction

6


Représente la fraction  $3/4$



Représenter les fractions - correction

7


Représente la fraction  $3/10$



Représenter les fractions - correction

8


Représente la fraction  $1/2$



Représenter les fractions

9


Représente la fraction  $1/4$



Représenter les fractions

10

Représente la fraction  $2/5$



Représenter les fractions

11

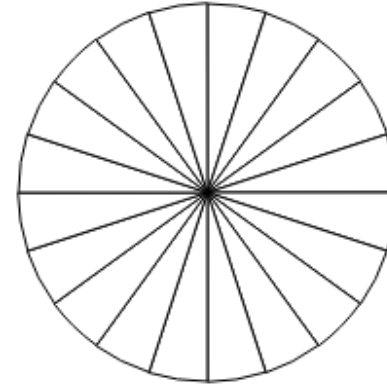
Représente la fraction  $3/5$



Représenter les fractions

12

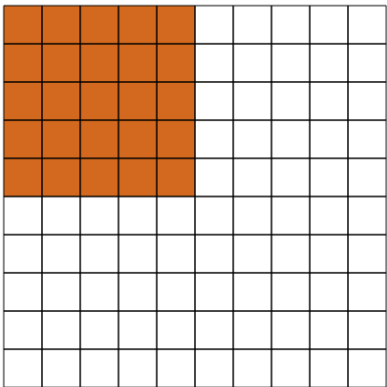
Représente la fraction  $3/10$



Représenter les fractions - correction

9

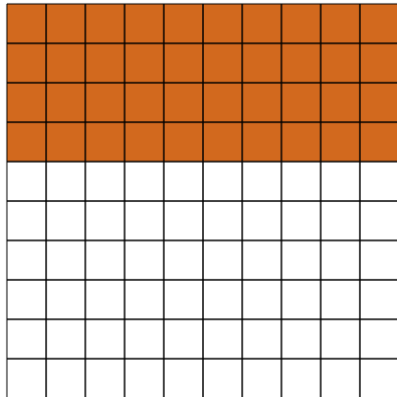
Représente la fraction  $1/4$



Représenter les fractions - correction

10


Représente la fraction  $2/5$



Représenter les fractions - correction

11

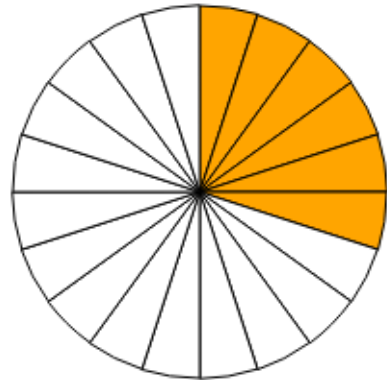
Représente la fraction  $3/5$



Représenter les fractions - correction

12

Représente la fraction  $3/10$

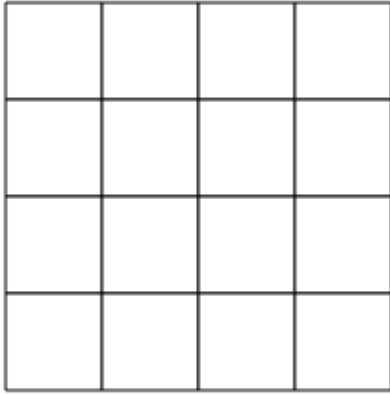




Représenter les fractions

13

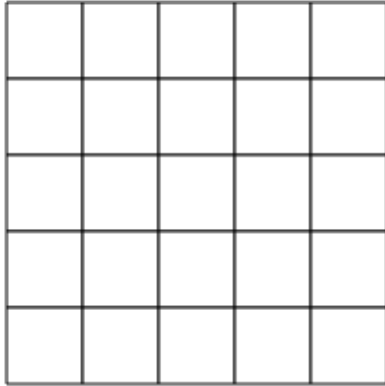
Représente la fraction  $1/2$



Représenter les fractions

14

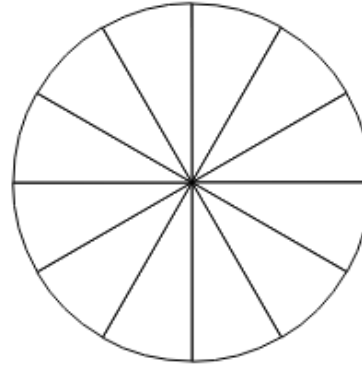
Représente la fraction  $4/5$



Représenter les fractions

15

Représente la fraction  $2/3$



Représenter les fractions

16


Représente la fraction  $1/3$



Représenter les fractions - correction

13

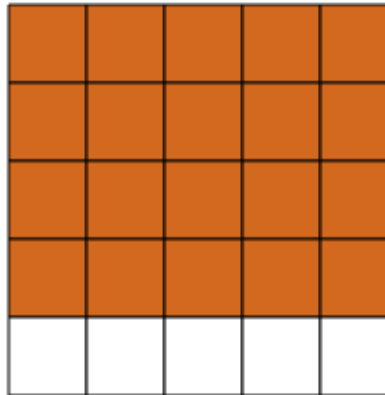
Représente la fraction  $1/2$



Représenter les fractions - correction

14

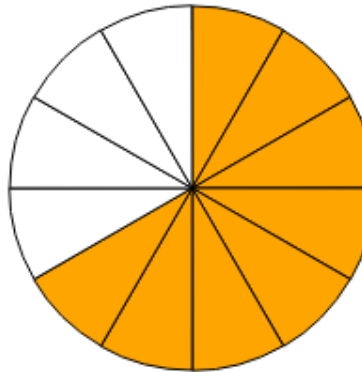
Représente la fraction  $4/5$



Représenter les fractions - correction

15


Représente la fraction  $2/3$



Représenter les fractions - correction

16

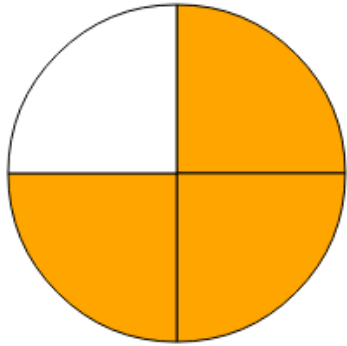
Représente la fraction  $1/3$



lire les fractions

1

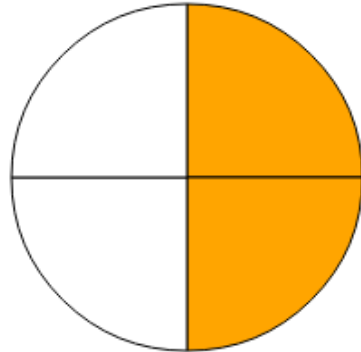
Quelle fraction représente la partie colorée?



lire les fractions

2

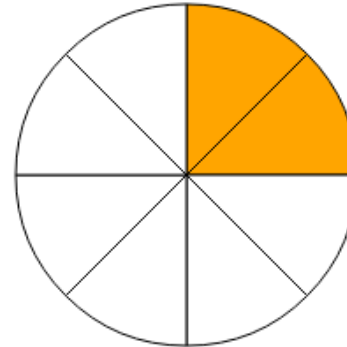
Quelle fraction représente la partie colorée?



lire les fractions

3

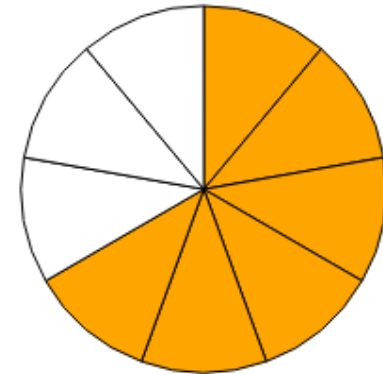
Quelle fraction représente la partie colorée?



lire les fractions

4

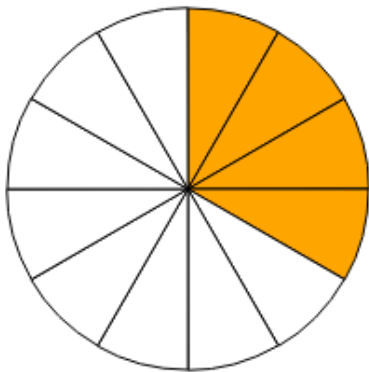
Quelle fraction représente la partie colorée?



lire les fractions

5


Quelle fraction représente la partie colorée?



lire les fractions

6

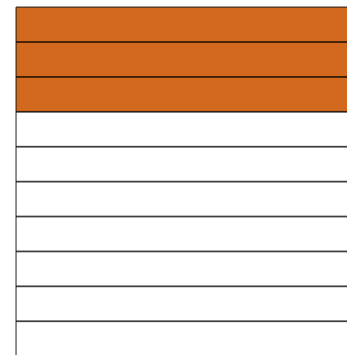
Quelle fraction représente la partie colorée?



lire les fractions

7


Quelle fraction représente la partie colorée?



lire les fractions

8

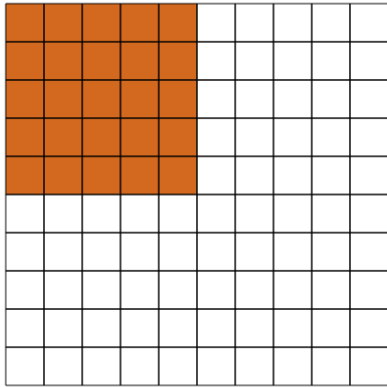
Quelle fraction représente la partie colorée?



lire les fractions

9


Quelle fraction représente la partie colorée?



lire les fractions

10


Quelle fraction représente la partie colorée?



lire les fractions

11

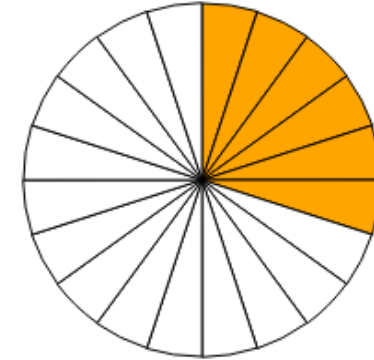
Quelle fraction représente la partie colorée?



lire les fractions

12

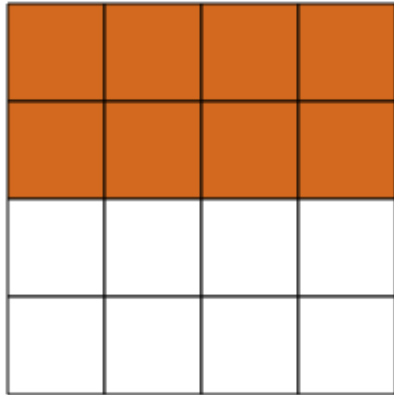
Quelle fraction représente la partie colorée?



lire les fractions

13

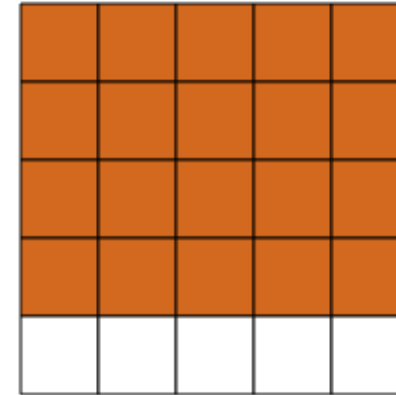
Quelle fraction représente la partie colorée?



lire les fractions

14

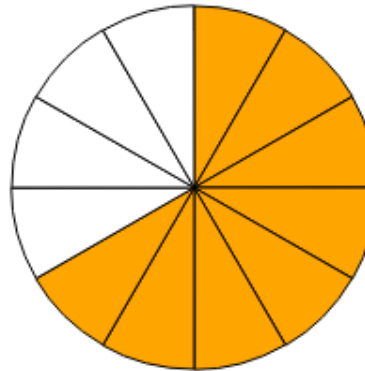
Quelle fraction représente la partie colorée?



lire les fractions

15


Quelle fraction représente la partie colorée?



lire les fractions

16

Quelle fraction représente la partie colorée?



**lire les fractions - correction**

- 1)  $3/4$
- 2)  $1/2$  ou  $2/4$
- 3)  $1/4$  ou  $2/8$
- 4)  $2/3$  ou  $6/9$
- 5)  $4/12$  ou  $1/3$
- 6)  $3/4$
- 7)  $3/10$
- 8)  $5/10$  ou  $1/2$
- 9)  $1/4$  ou  $25/100$
- 10)  $4/10$  ou  $40/100$  ou  $2/5$
- 11)  $6/10$  ou  $3/5$
- 12)  $3/10$  ou  $6/20$

**lire les fractions - correction**

- 13)  $1/2$  ou  $2/4$  ou  $8/16$
- 14)  $20/25$  ou  $4/5$
- 15)  $2/3$  ou  $4/6$  ou  $8/12$
- 16)  $1/3$  ou  $3/9$

**comPARER les fractions - correction**

- 1)  $3/4$
- 2)  $8/3$
- 3)  $2/3$
- 4)  $5/10$
- 5)  $3/4$
- 6)  $4/2$
- 7)  $6/8$
- 8)  $35/100$
- 9)  $3/5$
- 10)  $7/6$
- 11)  $8/5$
- 12)  $3/8$
- 13)  $6/7$
- 14)  $3/2$
- 15)  $1/2$
- 16)  $6/10$

**comPARER les fractions**

1

Quelle est la plus grande fraction ?

$1/4$  ou  $3/4$

**comPARER les fractions**

2

Quelle est la plus grande fraction ?

$8/3$  ou  $8/5$

**comPARER les fractions**

3

Quelle est la plus grande fraction ?

$2/3$  ou  $2/5$

**comPARER les fractions**

4

Quelle est la plus grande fraction ?

$4/10$  ou  $5/10$

**comPARER les  
fractiOns**

5

Quelle est la plus grande  
fraction ?

$3/4$  ou  $5/8$

**comPARER les  
fractiOns**

6

Quelle est la plus grande  
fraction ?

$4/2$  ou  $5/2$

**comPARER les  
fractiOns**

7

Quelle est la plus grande  
fraction ?

$6/8$  ou  $1/4$

**comPARER les  
fractiOns**

8

Quelle est la plus grande  
fraction ?

$3/10$  ou  $35/100$

**comPARER les  
fractiOns**

9

Quelle est la plus grande  
fraction ?

$3/5$  ou  $5/10$

**comPARER les  
fractiOns**

10

Quelle est la plus grande  
fraction ?

$5/6$  ou  $7/6$

**comPARER les  
fractiOns**

11

Quelle est la plus grande  
fraction ?

$8/5$  ou  $8/9$

**comPARER les  
fractiOns**

12

Quelle est la plus grande  
fraction ?

$3/10$  ou  $3/8$

comPARER les  
fractions

13

Quelle est la plus grande  
fraction ?

$5/7$  ou  $6/7$

comPARER les  
fractions

14

Quelle est la plus grande  
fraction ?

$5/2$  ou  $3/2$

comPARER les  
fractions

15

Quelle est la plus grande  
fraction ?

$25/100$  ou  $1/2$

comPARER les  
fractions

16

Quelle est la plus grande  
fraction ?

$6/10$  ou  $1/2$