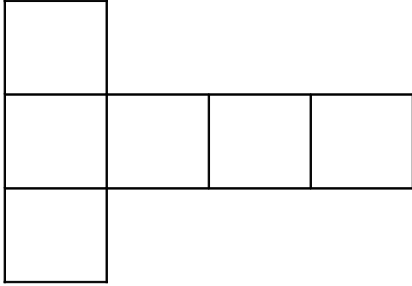
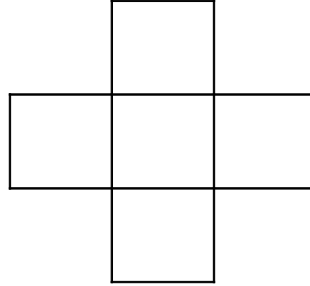


Patrons du cube - Fiche 1 - Groupe 1

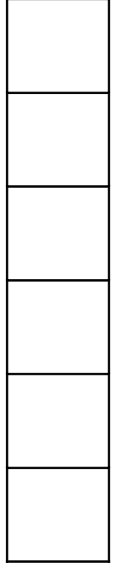
Consigne : Sur cette feuille, vous voyez des assemblages de carrés. Vous devez indiquer si ce sont des patrons du cube, c'est-à-dire si en les pliant et en collant les faces on obtient un cube. Vous n'avez pas le droit de les découper. Écrivez vos arguments sous chaque figure.



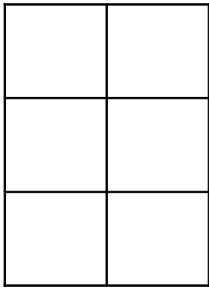
oui non



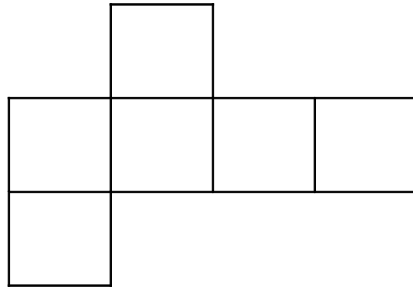
oui non



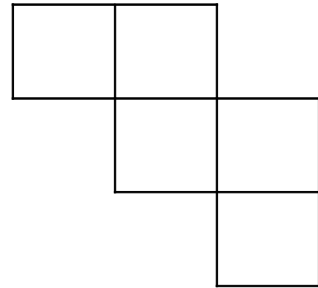
oui non



oui non



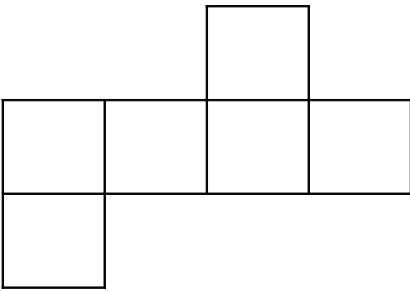
oui non



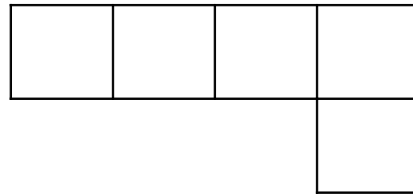
oui non

Patrons du cube - Fiche 1 - Groupe 2

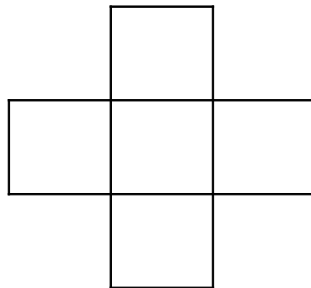
Consigne : Sur cette feuille, vous voyez des assemblages de carrés. Vous devez indiquer si ce sont des patrons du cube, c'est-à-dire si en les pliant et en collant les faces on obtient un cube. Vous n'avez pas le droit de les découper. Écrivez vos arguments sous chaque figure.




oui non



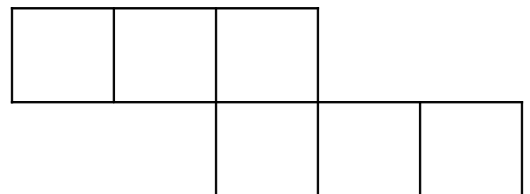
oui non




oui non



oui non



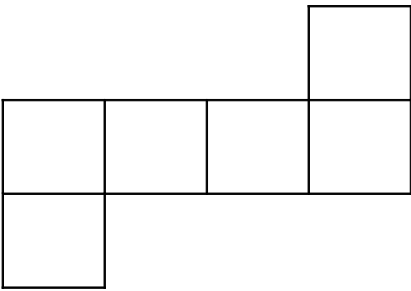
oui non



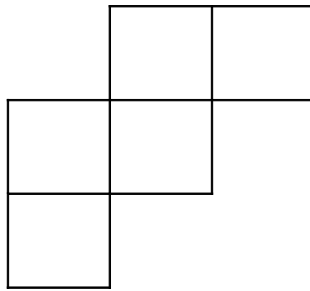
oui non

Patrons du cube - Fiche 1 - Groupe 3

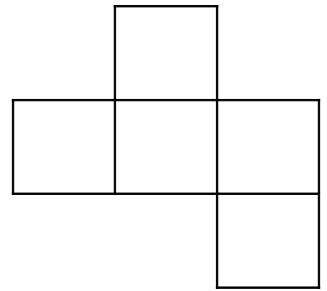
Consigne : Sur cette feuille, vous voyez des assemblages de carrés. Vous devez indiquer si ce sont des patrons du cube, c'est-à-dire si en les pliant et en collant les faces on obtient un cube. Vous n'avez pas le droit de les découper. Écrivez vos arguments sous chaque figure.



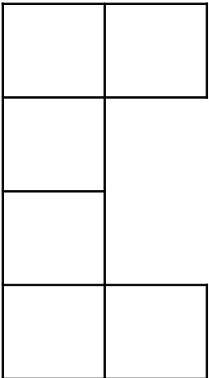
oui non



oui non




oui non



oui non



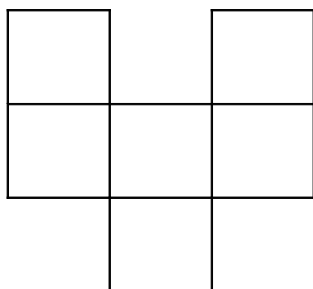
oui non



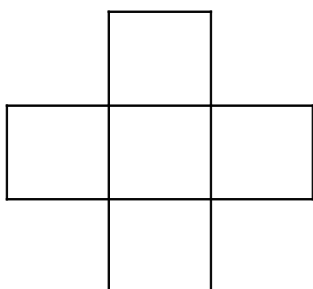
oui non

Patrons du cube - Fiche 1 - Groupe 4

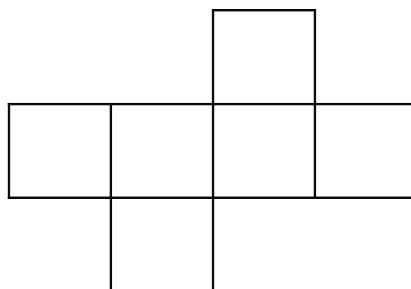
Consigne : Sur cette feuille, vous voyez des assemblages de carrés. Vous devez indiquer si ce sont des patrons du cube, c'est-à-dire si en les pliant et en collant les faces on obtient un cube. Vous n'avez pas le droit de les découper. Écrivez vos arguments sous chaque figure.



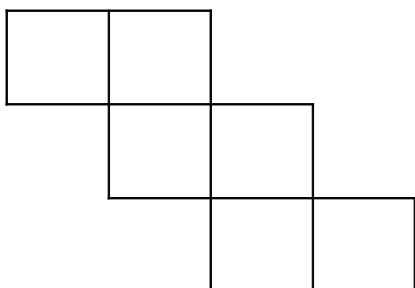
oui non



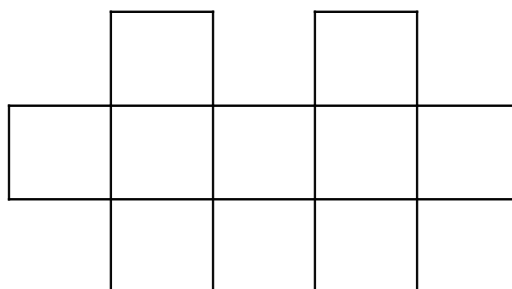
oui non



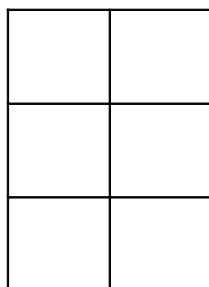
oui non



oui non



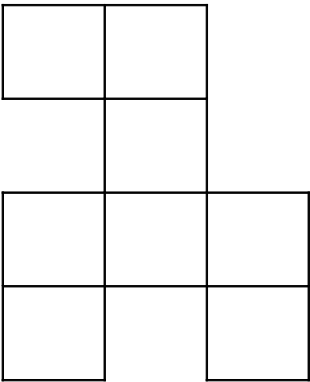
oui non



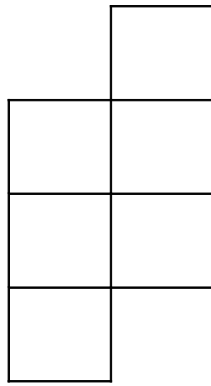
oui non

Patrons du cube - Fiche 1 - Groupe 5

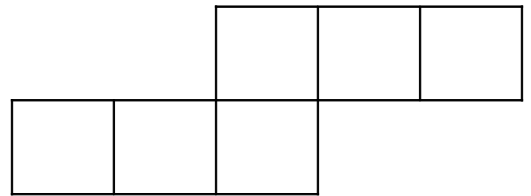
Consigne : Sur cette feuille, vous voyez des assemblages de carrés. Vous devez indiquer si ce sont des patrons du cube, c'est-à-dire si en les pliant et en collant les faces on obtient un cube. Vous n'avez pas le droit de les découper. Écrivez vos arguments sous chaque figure.




oui non



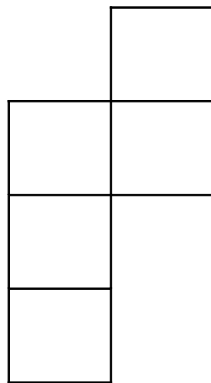
oui non




oui non



oui non



oui non



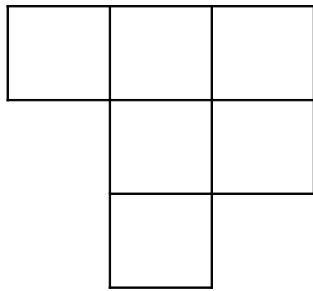
oui non

Patrons du cube - Fiche 1 - Groupe 6

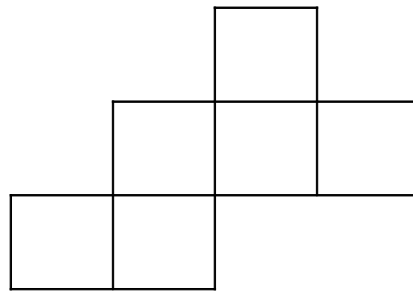
Consigne : Sur cette feuille, vous voyez des assemblages de carrés. Vous devez indiquer si ce sont des patrons du cube, c'est-à-dire si en les pliant et en collant les faces on obtient un cube. Vous n'avez pas le droit de les découper. Écrivez vos arguments sous chaque figure.



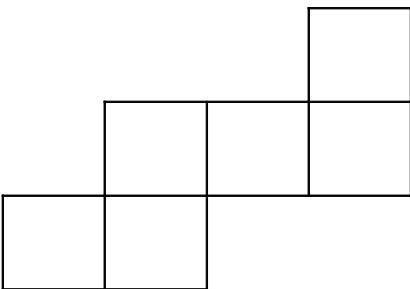
oui non



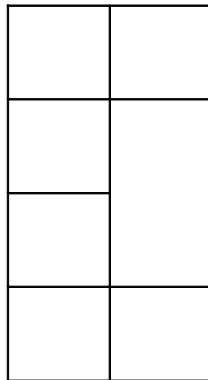
oui non




oui non



oui non




oui non



oui non

Patrons du cube - Fiche 2 - binomes

Consigne : Sur ce quadrillage, tracez le maximum de patrons du cube possibles, à partir des exemples que vous avez vus. Une fois tracés, vous pourrez les découper pour élaborer notre collection de classe.



Patrons du cube - Fiche 3

Consigne : Colorie les patrons du cube complets et corrects, et termine les patrons incomplets.

