

Bilan de fin de CE2

Livret d'Histoire, Géographie,
Sciences et Instruction civique


Nom : _____

Prénom : _____

/ 20

Grandes périodes historiques

A Complète les étiquettes



Nom de la période

Nom de la période

Évènement ?

1

Périodes historiques

La Préhistoire

B La Préhistoire commence quand l'homme apparaît sur la Terre.

VRAI - FAUX

Les hommes n'ont pas pu rencontrer de dinosaures.

VRAI - FAUX

Au début, les hommes étaient sédentaires. Peu à peu, ils sont devenus nomades.

VRAI - FAUX

Au Paléolithique, les hommes savaient fabriquer des outils en pierre polie.

VRAI - FAUX

Lascaux est célèbre parce qu'on y a trouvé des traces des tout premiers habitants de la France.

VRAI - FAUX

2

Préhistoire : caractéristiques

C Réponds aux questions.

1. Comment s'appelle la phase de la Préhistoire au cours de laquelle les hommes ont commencé à polir des pierres ?

2. Cite trois progrès cette phase de la Préhistoire :

D Réponds aux questions

1. Quelles sont les 3 catégories de la société gauloise ?

2. Quel est le nom du grand chef Gaulois qui a réussi à battre César à Gergovie ?

3. En quelle année a eu lieu la bataille d'Alésia ?

4. Que s'est-il passé à Alésia ?

E Réponds aux questions.

1. Quelle langue parlaient les Romains ?

2. **Vrai ou faux ?**

Enfin, grâce aux Romains, la vie des Gaulois est devenue plus confortable.

Vrai - Faux

Dans les villes romaines, les routes étaient en terre et les maisons en bois.

Vrai – Faux

Pour se laver ou se détendre les Romains allaient aux Thermes.

Vrai – Faux

Au premier siècle de notre ère, Jules César prêcha une religion de fraternité : le Christianisme.

Vrai - Faux

Compter les années et les siècles

F Réponds aux questions

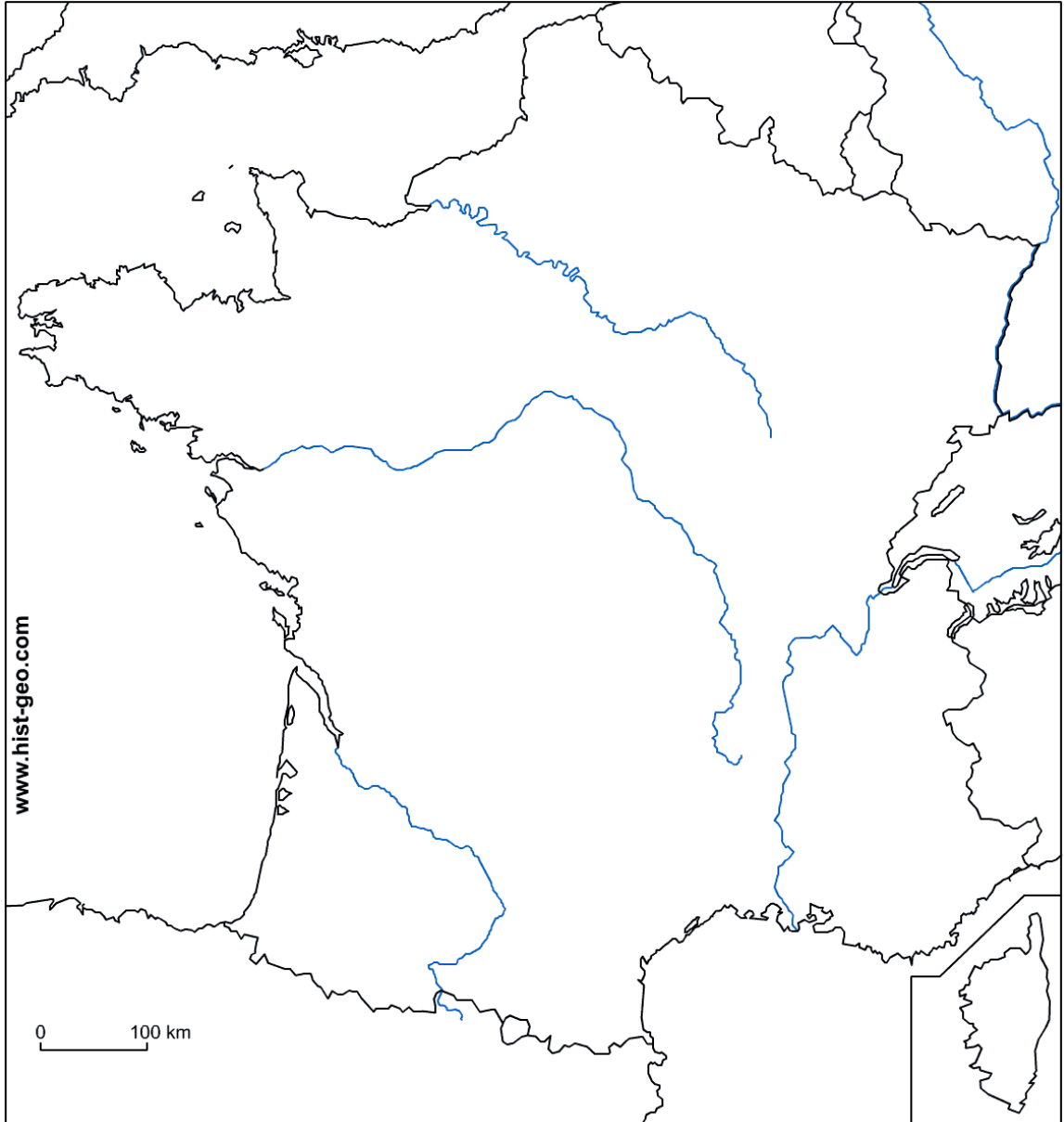
Combien y a-t-il d'années dans un siècle ?

Comment écrit-on 24 en chiffres romains ?

A quel siècle se situe la date de 1654 ?

G Sur cette carte...

1. Trace en rouge les contours de la France
2. Repasse les 4 grands fleuves en bleu et indique leurs noms.
3. Fais une croix pour montrer où tu habites



7

Contours France

8

Fleuves

9

Repérer sa ville

H Réponds aux questions :

Écris le nom de la ville de l'école : _____

Comment s'appelle notre département ? _____

Comment s'appelle notre région ? _____

Quels sont les 6 départements de notre région ? _____

10

ville, départe-
ment, région

11

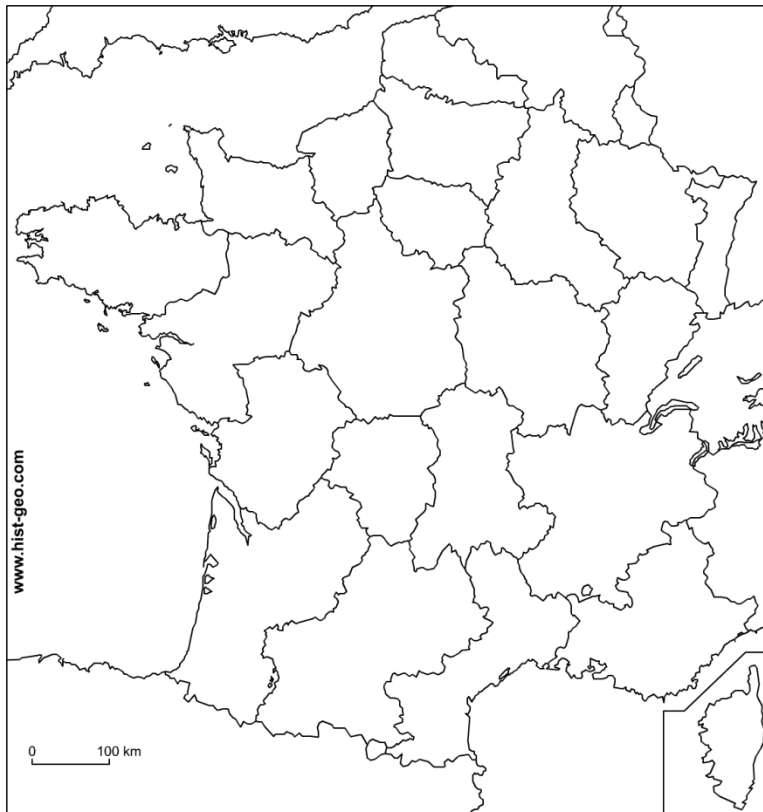
départements de
la région

Situer la région

12

Situer la région

I Colorie notre région sur cette carte



J Réponds aux questions :

Que devient l'eau en dessous de 0 °C ? _____

Peut-on voir la vapeur d'eau ? _____

Vrai ou faux ? La graine a besoin de terre pour germer _____

Vrai ou faux ? La graine a besoin d'eau pour germer _____

Vrai ou faux ? Si la graine n'a pas de lumière, la plante pousse très vite au début, mais elle est toute jaune. _____

Quelles sont les 8 planètes du système solaire ? _____

Combien de temps met la Terre pour faire un tour sur elle-même ? _____

Comment s'appelle le satellite naturel de la Terre ? _____

Quelle est la différence entre une planète et une étoile ? _____

13 Les états de l'eau

14 La germination

15 Système solaire 1

16 Système solaire 2

K Réponds aux questions :

Quel est la date de la fête nationale ? _____

En quelle année a eu lieu la Révolution française ? _____

Comment s'appelle l'hymne national ? _____

Quelle est la devise de la France ? _____

Quelles sont les couleurs du drapeau français ? _____

Que représente cette statue
que l'on trouve dans les mairies ? _____

Quel animal de basse-cour est aussi un symbole de la
République française ? _____



17 Symboles
République 1

18 Symboles
République 2

19 Symboles
République 3

20 Symboles
République 4