



LES 8 DÉFIS DE LA RENTRÉE


Les petits soldats

	1	2	3	4	5	6
A						
B		3			3	
C						
D		3		4		
E						
F		2				1

Sachant que :

- un soldat ne peut pas être en contact avec un autre, même par la diagonale ;
- les chiffres indiquent le nombre de soldats situés dans les cases qui les entourent.

Trouveras-tu les 9 soldats de plomb que j'ai cachés dans cette grille ?



Complète la grille en dessinant les soldats qu'il reste à placer !

Pour t'aider, Lapinot a déjà dessiné deux soldats : cases C3 et E5.



Le chiffre 3 est inscrit en case B2.

Cela signifie donc qu'il y a 3 soldats autour de cette case.



Quel chiffre trouves-tu en F6 ?

Q'est-ce que cela signifie ?




Relis la consigne : deux soldats peuvent-ils se toucher ?

Par conséquent, tu peux barrer toutes les cases qui entourent E5 car elles ne peuvent pas contenir de soldat. Faire de même autour de C3.



Commence par dessiner les soldats autour de la case D4.



Aide-moi à les couler !

Bataille navale

Agathe et moi-même jouons à la bataille navale.

Agathe a caché dans sa grille un bateau de 4 cases et un autre de 3 cases.

Une case colorée représente une partie du bateau.

Une croix signifie que la case est vide.

À l'aide de ce qu'a répondu Agathe aux questions de Lapinot, dessine ses bateaux dans la grille. Les cases D3 et C4 sont déjà remplies.

D3 rien - C4 touché - C5 rien - F4 touché - F5 rien - F3 rien - B4 rien - D4 touché - E4 touché - E2 touché - F2 rien - C2 touché - D2 touché - E5 rien.

	A	B	C	D	E	F
1						
2						
3				X		
4						
5						
6						

À l'aide des renseignements obtenus par Mathilde, coule maintenant les bateaux dissimulés par Lapinot.

A5 rien - C5 touché - E4 rien - B1 rien - A3 rien - D3 rien - C3 touché - C2 rien - F4 rien - D1 touché - C4 touché - C6 touché - F1 touché - E1 touché - B5 rien.

	A	B	C	D	E	F
1						
2						
3						
4						
5						
6						

PETITS SOLDATS ET
BATAILLE NAVALE