



Grandeurs et mesures : Les angles

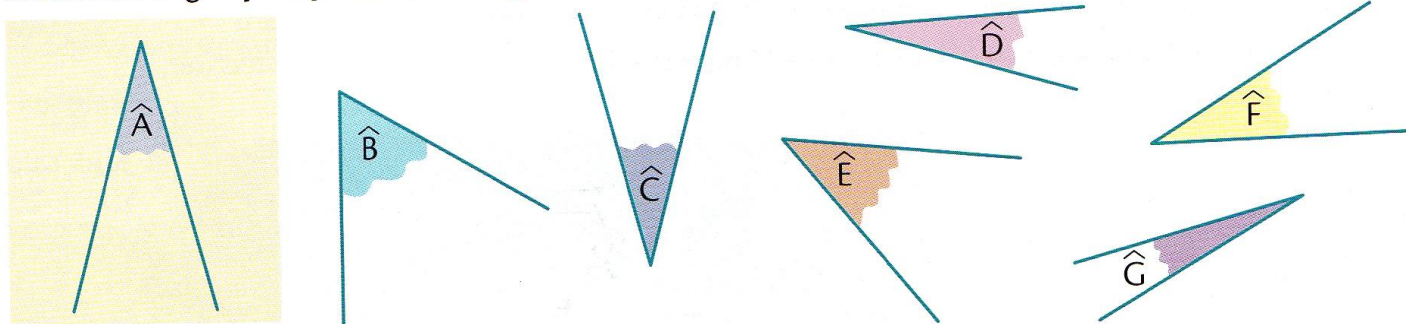
Comparer des angles

CM2

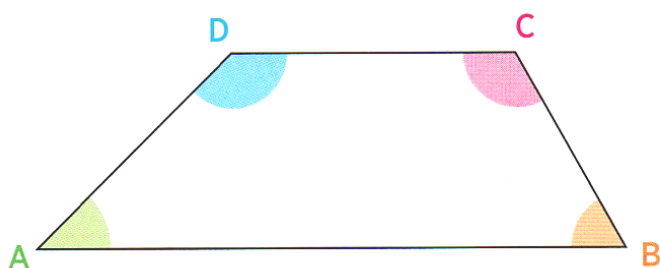
Fiche d'exercices n°7

Leçon 3

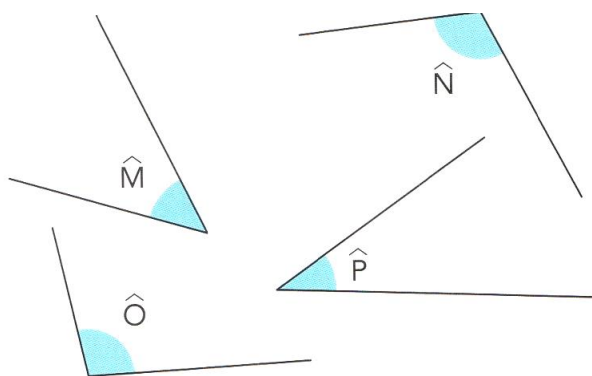
➔ **Exercice 1** : Aide-toi du papier calque pour comparer les angles avec l'angle \hat{A} .
 Trouve les angles plus petits que \hat{A} , égaux à \hat{A} et plus grands que \hat{A}



➔ **Exercice 2** : Compare et range les angles du polygone du plus petit au plus grand.



➔ **Exercice 3** : Range ces angles du plus petit au plus grand.



➔ **Exercice 3** : Décalle le gabarit d'angle, puis retrouve les angles de la figure qui ont la même mesure que le gabarit.

