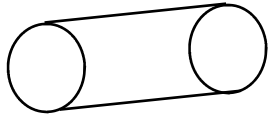
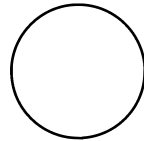


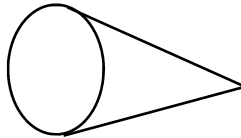
Ceux qui roulent :



Le cylindre

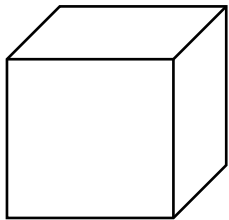


La boule
La sphère

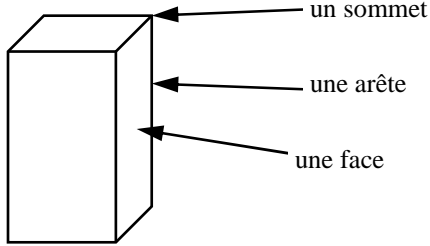


Le cône

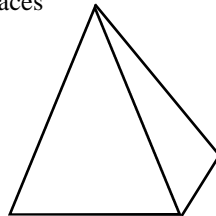
Ceux qui ne roulent pas :



Le cube a des faces carrées



Le pavé droit ou parallélépipède rectangle a des faces rectangulaires

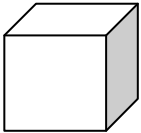
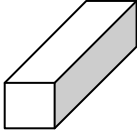
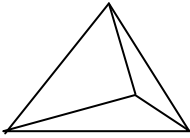
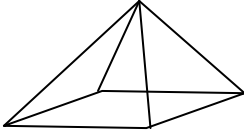
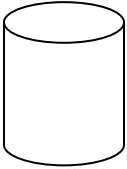


La pyramide a des faces triangulaires

Le cube et le pavé ont :

- 6 faces (se rappeler les faces du dé)
- 8 sommets
- 12 arêtes

Cache les réponses dans le tableau et retrouve-les

	Forme des faces	Nombre de faces	Nombre de sommets	Nombre d'arêtes
 un cube	carrés	6	8	12
 un pavé	des rectangles (parfois des carrés)	6	8	12
 une pyramide	des triangles	4	4	6
 une pyramide à base carrée	4 triangles 1 carré	5	5	8
 un cylindre	2 disques + 1 face pas plate	3	0	2