


## CALCUL MENTAL

Énoncer des décompositions du type :  
 $30 + 2$ , 3 dizaines et 8 unités.




Manipulation  
 Guide p. 120


- 1 Avec la baguette de Gigi, Archi a mélangé tous les objets ! Pour l'aider à les ranger, entoure en rouge les cubes, en bleu les pavés, en vert les boules, en noir les pyramides et en jaune les cônes.



- 2 Barre les solides qui ne sont pas des cubes ou des pavés.



- 3 Colorie en rouge les cubes, en bleu les pavés, en vert la boule, en noir le cône et en jaune la pyramide.



- 4 Il y avait 15 cubes dans le sac du maître. Lali lui donne 4 cubes.  
 Combien de cubes y aura-t-il dans le sac ?

.....

Il y aura ..... cubes dans le sac.

