


matériel pour les fiches 9 et 10



Fiche 9 et 10

FAÇES PROPOSÉES



Fiche 11

ÉTIQUETTES À COLLER

LE CÔNE

LA SPHÈRE

LE CUBE

LA PYRAMIDE


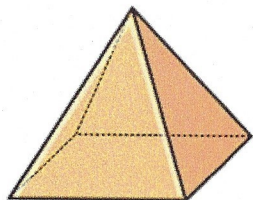
LE PAVÉ
DROIT

LE CYLINDRE


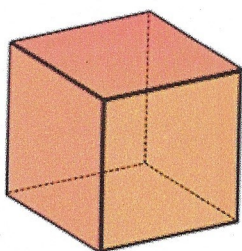
C2 Les solides

Maths
Fiche n°9

1 Découpe et colle toutes les faces du solide. Complète le tableau.



Nombre de faces ■	Nombre d'arêtes —	Nombre de sommets ×


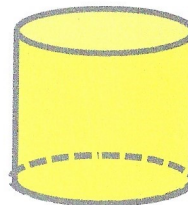


Nombre de faces ■	Nombre d'arêtes —	Nombre de sommets ×


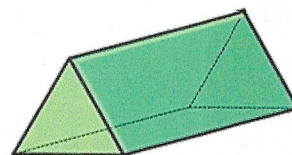
C2 Les solides

Maths
Fiche n°10

2 Découpe et colle toutes les faces du solide. Complète le tableau.



Nombre de faces ■	Nombre d'arêtes —	Nombre de sommets ×




Nombre de faces ■	Nombre d'arêtes —	Nombre de sommets ×

CE2

Les solides

Maths
Fiche n°11

1 Nomme les solides que tu connais.



CE2

Les solides

Maths
Fiche n°12

1 Entoure la ou les bonnes réponses.

▲ Je n'ai pas de sommet.

LE CÔNE

LA SPHÈRE

LE CUBE

LA PYRAMIDE

LE PAVÉ
DROIT

LE CYLINDRE

▲ J'ai un seul sommet.

LE CÔNE

LA SPHÈRE

LE CUBE

LA PYRAMIDE

LE PAVÉ
DROIT

LE CYLINDRE

▲ J'ai au moins une face qui est un cercle.

LE CÔNE

LA SPHÈRE

LE CUBE

LA PYRAMIDE

LE PAVÉ
DROIT

LE CYLINDRE

▲ J'ai 6 faces.

LE CÔNE

LA SPHÈRE

LE CUBE

LA PYRAMIDE

LE PAVÉ
DROIT

LE CYLINDRE