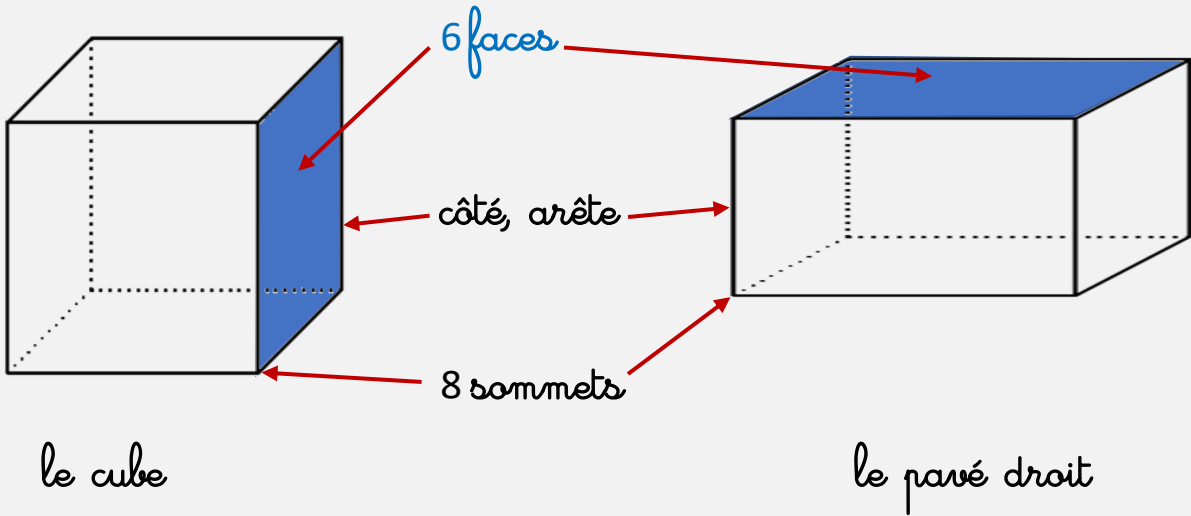


1. Il existe de nombreux **solides**. En voici 2.



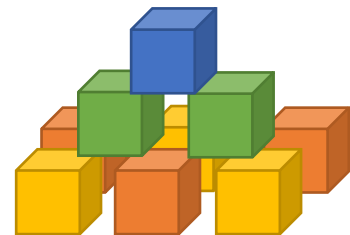
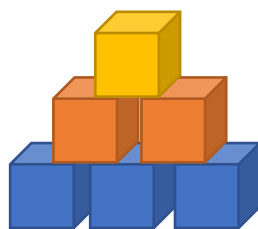
2.  **Classe les objets**



Les objets qui ont la forme d'un cube : \_\_\_\_\_ / \_\_\_\_\_ / \_\_\_\_\_ / \_\_\_\_\_

Les objets qui ont la forme d'un pavé : \_\_\_\_\_ / \_\_\_\_\_ / \_\_\_\_\_ / \_\_\_\_\_

3.  **Compte le nombre de cubes nécessaire pour réaliser ces constructions.**



Il faut \_\_\_\_\_ cubes

Il faut \_\_\_\_\_ cubes

Il faut \_\_\_\_\_ cubes