

Prénom : \_\_\_\_\_

Date : \_\_\_\_\_

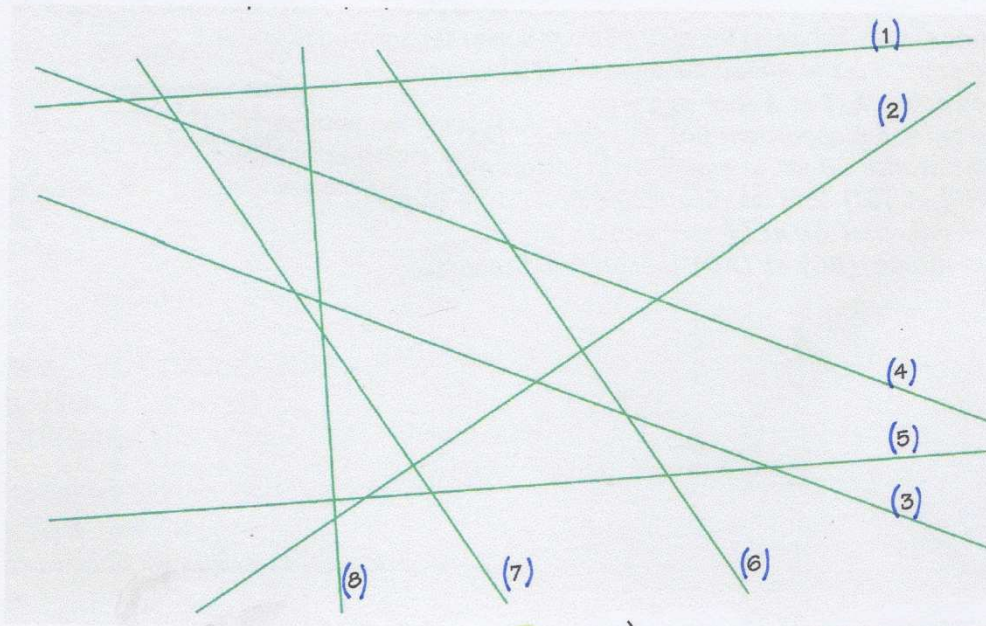


# Géométrie : Les droites parallèles et perpendiculaires

CM2

Fiche d'exercices n° 2

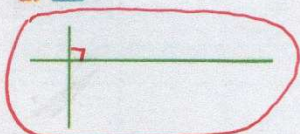
**Exercice 1 :** Trouve les droites perpendiculaires entre elles.



(1)  $\perp$  (8)  
(2)  $\perp$  (6)  
(2)  $\perp$  (7)  
(5)  $\perp$  (6)

**Exercice 2 :** Trouve les droites perpendiculaires entre elles.


a. \*



b. \*



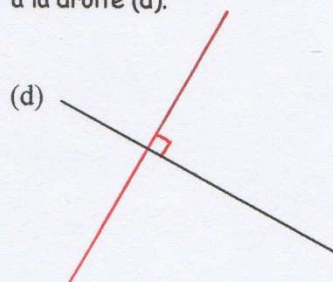
c. \*\*



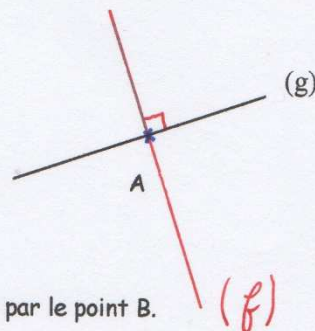
d. \*\*



**Exercice 3 :** Trace une droite perpendiculaire à la droite (d).



**Exercice 4 :** Trace une droite (f) perpendiculaire à la droite (g) passant par le point A.



**Exercice 5 :** Trace une droite (h) perpendiculaire à la droite (x) passant par le point B.

