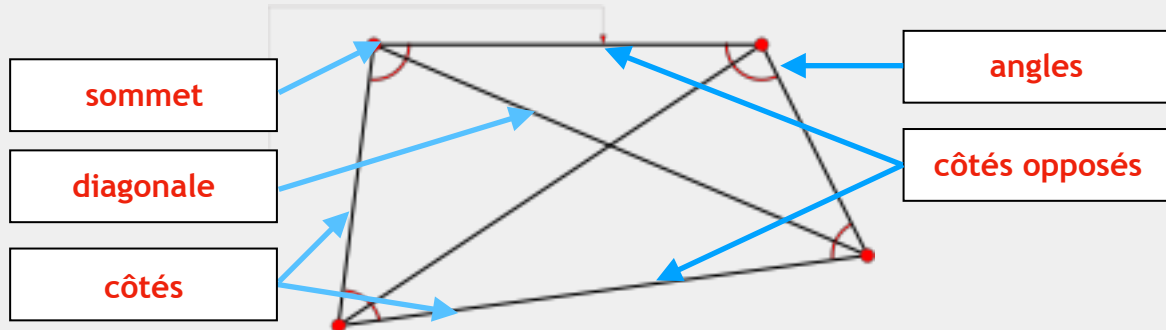




- MC1. J'utilise le vocabulaire parallèle et perpendiculaire à bon escient.
- MC2. J'utilise le vocabulaire lié aux figures planes

1


Les quadrilatères ont 4 **côtés**, 4 **sommets**, 2 **diagonales**, 4 **angles**.



2 Un quadrilatère est un polygone qui a 4 côtés.

• Il existe cinq familles de quadrilatères:

	1° Les carrés	2° Les rectangles	3° Les losanges	4° Les parallélogrammes
Angles droits	4	4	0	0
Côtés opposés égaux	4	2 par 2	4	2 par 2
Côtés opposés parallèles	4	4	4	4
5° Les trapèzes	Trapèze rectangle	Trapèzes	Trapèze isocèle	



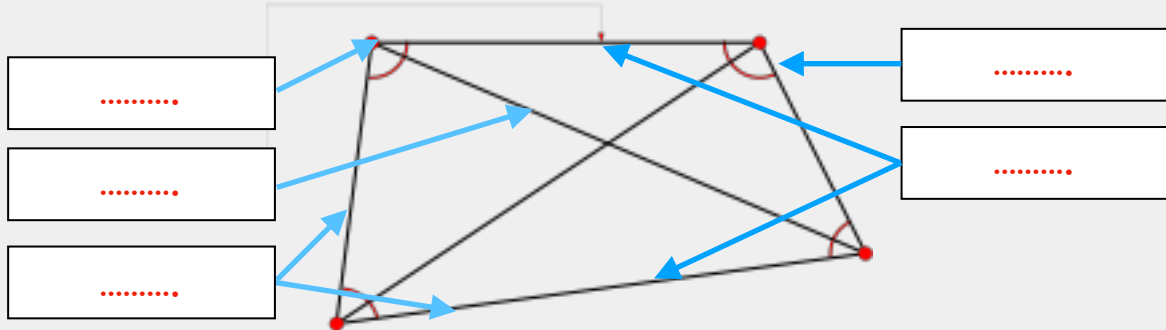
Nom: \_\_\_\_\_



- MC1. J'utilise le vocabulaire parallèle et perpendiculaire à bon escient.
- MC2. J'utilise le vocabulaire lié aux figures planes

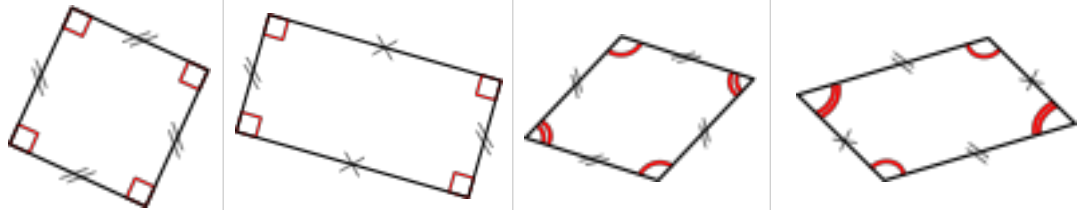
1

Les quadrilatères ont 4 ....., 4 ....., 2 ....., 4 .....




2 Un quadrilatère est un polygone qui a 4 côtés.

• Il existe cinq familles de quadrilatères:



	1° Les carrés	2° Les rectangles	3° Les losanges	4° Les parallélogrammes
Angles droits	.....	.....	.....	.....
Côtés opposés égaux	.....	.....	.....	.....
Côtés opposés parallèles	.....	.....	.....	.....
5° .....	Trapèze rectangle	Trapèzes	Trapèze isocèle	



Nom:




- MC1. J'utilise le vocabulaire parallèle et perpendiculaire à bon escient.
- MC2. J'utilise le vocabulaire lié aux figures planes

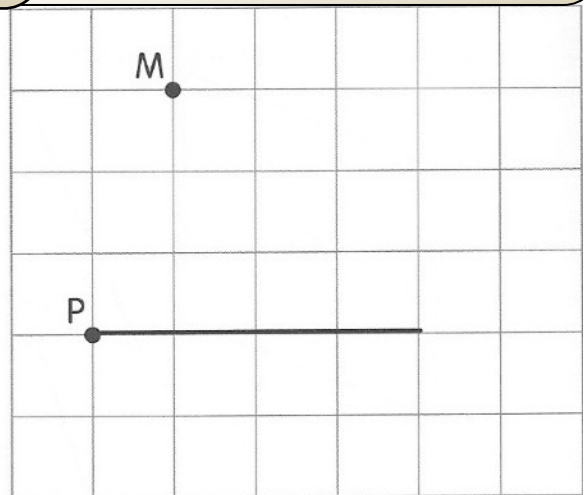
1 Complète le tableau

	parallélogramme	losange	carré	rectangle
Les diagonales sont-elles égales?				
Les angles formés par les côtés consécutifs sont-ils égaux?				
Les côtés opposés sont-ils égaux?				
Les côtés opposés sont-ils parallèles?				


2 Trace le losange IJKL



3 Trace le parallélogramme MNOP



4 Trace un carré ABCD de 6cm de côté



5 Trace le parallélogramme PQRS de 4cm de large et 7cm de long



Nom:



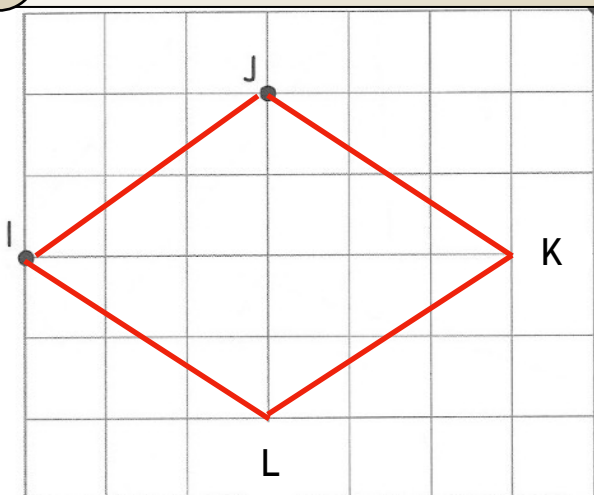
MC1. J'utilise le vocabulaire parallèle et perpendiculaire à bon escient.

MC2. J'utilise le vocabulaire lié aux figures planes

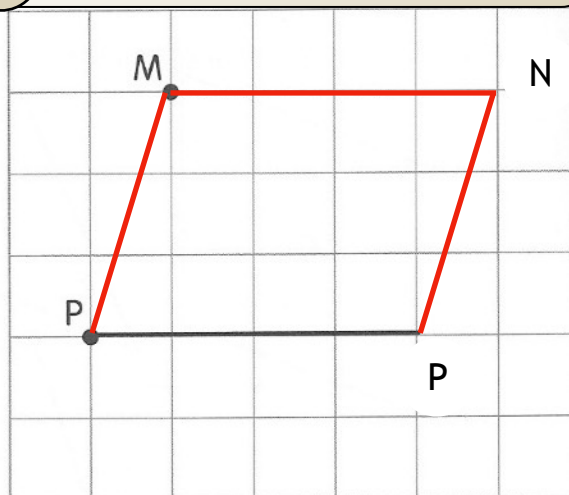
1 Complète le tableau

	parallélogramme	losange	carré	rectangle
Les diagonales sont-elles égales?				
Les angles formés par les côtés consécutifs sont-ils droit?				
Les côtés opposés sont-ils égaux?				
Les côtés opposés sont-ils parallèles?				

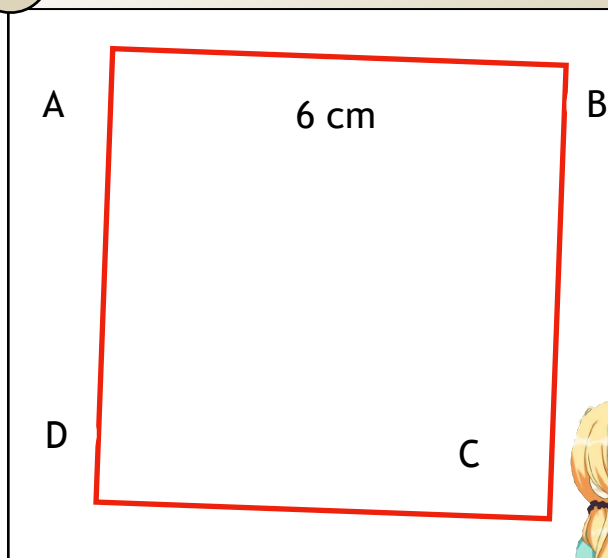
2 Trace le losange IJKL



3 Trace le parallélogramme MNOP



4 Trace un carré ABCD de 6cm de côté



5 Trace le parallélogramme PQRS de 3cm de large et 6cm de long

