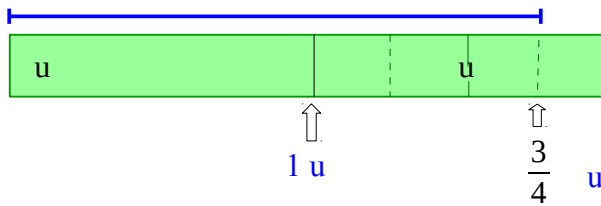





Comment utiliser des fractions pour mesurer ?

On peut mesurer une longueur supérieure à l'unité en ajoutant un nombre entier et une fraction.



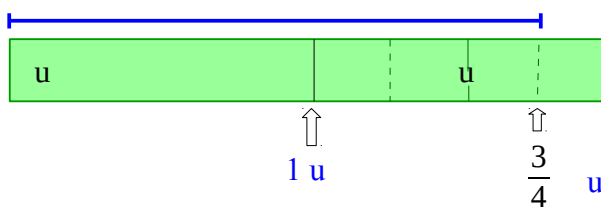
Le segment bleu mesure 1 unité plus $\frac{3}{4}$ de l'unité.

On écrit : AB mesure $1u + \frac{3}{4} u$.



Comment utiliser des fractions pour mesurer ?

On peut mesurer une longueur supérieure à l'unité en ajoutant un nombre entier et une fraction.



Le segment bleu mesure 1 unité plus $\frac{3}{4}$ de l'unité.

On écrit : AB mesure $1u + \frac{3}{4} u$.