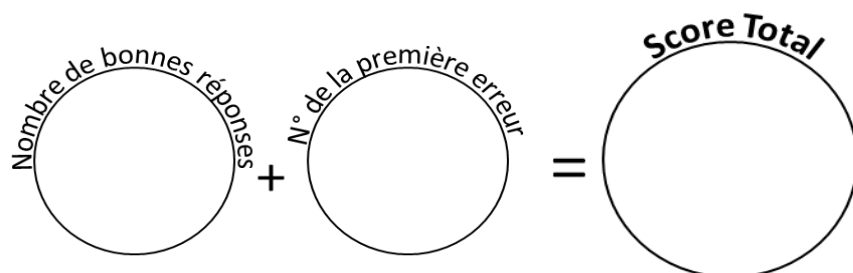


49 calculs en 5 minutes
(série 937)
Ceinture noire

Réponses
Ceinture noire
série 937

1	7,5 pour aller à 8 : _____	26	9 x 25 = _____	0,5	225
2	66,22 pour aller à 67 : _____	27	10 x 75 = _____	0,78	750
3	37,63 : 10 = _____	28	60 : 4 = _____	3,763	15
4	15 x 50 = _____	29	61,8 pour aller à 62 : _____	750	0,2
5	6 x 25 = _____	30	13,75 pour aller à 14 : _____	150	0,25
6	11 x 75 = _____	31	81,77 : 10 = _____	825	8,177
7	24 : 4 = _____	32	13 x 50 = _____	6	650
8	94,9 pour aller à 95 : _____	33	30 x 25 = _____	0,1	750
9	1,93 pour aller à 2 : _____	34	4 x 75 = _____	0,07	300
10	54,32 : 10 = _____	35	24 : 4 = _____	5,432	6
11	34 x 50 = _____	36	1,6 pour aller à 2 : _____	1700	0,4
12	25 x 25 = _____	37	11,82 pour aller à 12 : _____	625	0,18
13	13 x 75 = _____	38	78,31 : 10 = _____	975	7,831
14	72 : 4 = _____	39	2 x 50 = _____	18	100
15	51,8 pour aller à 52 : _____	40	21 x 25 = _____	0,2	525
16	80,59 pour aller à 81 : _____	41	3 x 75 = _____	0,41	225
17	63,11 : 10 = _____	42	28 : 4 = _____	6,311	7
18	11 x 50 = _____	43	44,7 pour aller à 45 : _____	550	0,3
19	21 x 25 = _____	44	47,04 pour aller à 48 : _____	525	0,96
20	8 x 75 = _____	45	91,99 : 10 = _____	600	9,199
21	84 : 4 = _____	46	2 x 50 = _____	21	100
22	46,9 pour aller à 47 : _____	47	33 x 25 = _____	0,1	825
23	70,84 pour aller à 71 : _____	48	16 x 75 = _____	0,16	1200
24	60,32 : 10 = _____	49	28 : 4 = _____	6,032	7
25	13 x 50 = _____			650	

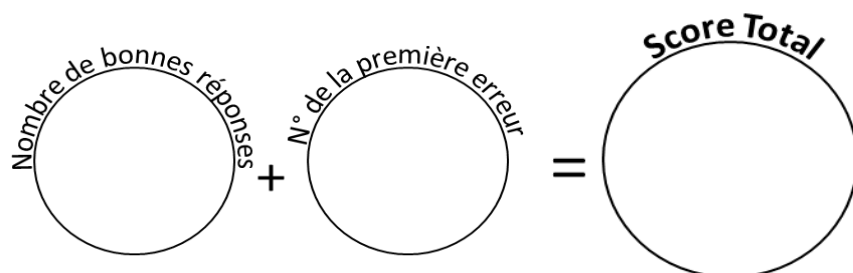


Reporte ton score sur ton graphique !

49 calculs en 5 minutes
(série 151)
Ceinture noire

Réponses
Ceinture noire
série 151

1	22,8 pour aller à 23 : _____	26	22 x 25 = _____	0,2	550
2	45,01 pour aller à 46 : _____	27	4 x 75 = _____	0,99	300
3	43,51 : 10 = _____	28	96 : 4 = _____	4,351	24
4	3 x 50 = _____	29	52,5 pour aller à 53 : _____	150	0,5
5	25 x 25 = _____	30	47,79 pour aller à 48 : _____	625	0,21
6	5 x 75 = _____	31	53,98 : 10 = _____	375	5,398
7	60 : 4 = _____	32	8 x 50 = _____	15	400
8	84,9 pour aller à 85 : _____	33	16 x 25 = _____	0,1	400
9	78,42 pour aller à 79 : _____	34	10 x 75 = _____	0,58	750
10	60,71 : 10 = _____	35	60 : 4 = _____	6,071	15
11	18 x 50 = _____	36	65,5 pour aller à 66 : _____	900	0,5
12	24 x 25 = _____	37	71,18 pour aller à 72 : _____	600	0,82
13	5 x 75 = _____	38	3,63 : 10 = _____	375	0,363
14	52 : 4 = _____	39	17 x 50 = _____	13	850
15	85,8 pour aller à 86 : _____	40	16 x 25 = _____	0,2	400
16	65,68 pour aller à 66 : _____	41	18 x 75 = _____	0,32	1350
17	59,19 : 10 = _____	42	56 : 4 = _____	5,919	14
18	11 x 50 = _____	43	71,8 pour aller à 72 : _____	550	0,2
19	25 x 25 = _____	44	42,25 pour aller à 43 : _____	625	0,75
20	12 x 75 = _____	45	41,19 : 10 = _____	900	4,119
21	72 : 4 = _____	46	9 x 50 = _____	18	450
22	95,3 pour aller à 96 : _____	47	10 x 25 = _____	0,7	250
23	68,68 pour aller à 69 : _____	48	11 x 75 = _____	0,32	825
24	28,45 : 10 = _____	49	72 : 4 = _____	2,845	18
25	32 x 50 = _____			1600	

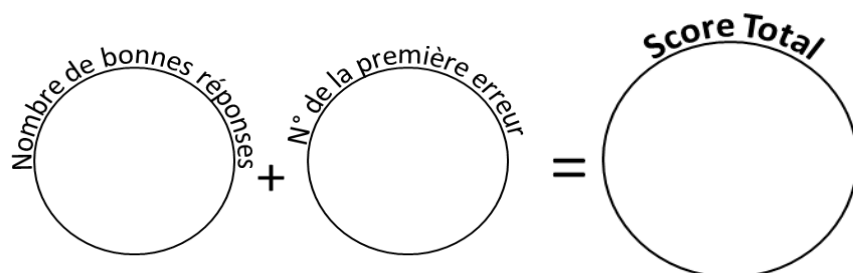


Reporte ton score sur ton graphique !

49 calculs en 5 minutes
(série 88)
Ceinture noire

Réponses
Ceinture noire
série 88

1	18,6 pour aller à 19 : _____	26	$10 \times 25 =$ _____	0,4	250
2	4,18 pour aller à 5 : _____	27	$1 \times 75 =$ _____	0,82	75
3	$27,26 : 10 =$ _____	28	$68 : 4 =$ _____	2,726	17
4	$20 \times 50 =$ _____	29	74,1 pour aller à 75 : _____	1000	0,9
5	$40 \times 25 =$ _____	30	58,1 pour aller à 59 : _____	1000	0,9
6	$17 \times 75 =$ _____	31	$39,06 : 10 =$ _____	1275	3,906
7	$40 : 4 =$ _____	32	$22 \times 50 =$ _____	10	1100
8	43,5 pour aller à 44 : _____	33	$38 \times 25 =$ _____	0,5	950
9	83,4 pour aller à 84 : _____	34	$19 \times 75 =$ _____	0,6	1425
10	$25,84 : 10 =$ _____	35	$52 : 4 =$ _____	2,584	13
11	$33 \times 50 =$ _____	36	80,9 pour aller à 81 : _____	1650	0,1
12	$32 \times 25 =$ _____	37	31,44 pour aller à 32 : _____	800	0,56
13	$20 \times 75 =$ _____	38	$18,69 : 10 =$ _____	1500	1,869
14	$100 : 4 =$ _____	39	$9 \times 50 =$ _____	25	450
15	38,8 pour aller à 39 : _____	40	$2 \times 25 =$ _____	0,2	50
16	48,51 pour aller à 49 : _____	41	$11 \times 75 =$ _____	0,49	825
17	$99,01 : 10 =$ _____	42	$72 : 4 =$ _____	9,901	18
18	$38 \times 50 =$ _____	43	35,4 pour aller à 36 : _____	1900	0,6
19	$5 \times 25 =$ _____	44	1,59 pour aller à 2 : _____	125	0,41
20	$9 \times 75 =$ _____	45	$23,09 : 10 =$ _____	675	2,309
21	$40 : 4 =$ _____	46	$12 \times 50 =$ _____	10	600
22	70,7 pour aller à 71 : _____	47	$6 \times 25 =$ _____	0,3	150
23	50,35 pour aller à 51 : _____	48	$17 \times 75 =$ _____	0,65	1275
24	$4,39 : 10 =$ _____	49	$48 : 4 =$ _____	0,439	12
25	$38 \times 50 =$ _____			1900	

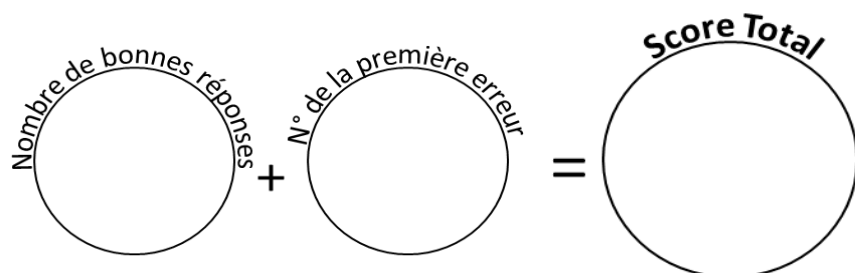


Reporte ton score sur ton graphique !

49 calculs en 5 minutes
(série 340)
Ceinture noire

Réponses
Ceinture noire
série 340

1	32,1 pour aller à 33 : _____	26	$1 \times 25 =$ _____	0,9	25
2	16,99 pour aller à 17 : _____	27	$13 \times 75 =$ _____	0,01	975
3	$95,13 : 10 =$ _____	28	$24 : 4 =$ _____	9,513	6
4	$33 \times 50 =$ _____	29	99,4 pour aller à 100 : _____	1650	0,6
5	$18 \times 25 =$ _____	30	32,22 pour aller à 33 : _____	450	0,78
6	$5 \times 75 =$ _____	31	$55,82 : 10 =$ _____	375	5,582
7	$64 : 4 =$ _____	32	$32 \times 50 =$ _____	16	1600
8	90,8 pour aller à 91 : _____	33	$4 \times 25 =$ _____	0,2	100
9	48,68 pour aller à 49 : _____	34	$6 \times 75 =$ _____	0,32	450
10	$51,72 : 10 =$ _____	35	$88 : 4 =$ _____	5,172	22
11	$35 \times 50 =$ _____	36	32,3 pour aller à 33 : _____	1750	0,7
12	$34 \times 25 =$ _____	37	6,1 pour aller à 7 : _____	850	0,9
13	$12 \times 75 =$ _____	38	$97,73 : 10 =$ _____	900	9,773
14	$64 : 4 =$ _____	39	$28 \times 50 =$ _____	16	1400
15	82,2 pour aller à 83 : _____	40	$4 \times 25 =$ _____	0,8	100
16	49,98 pour aller à 50 : _____	41	$8 \times 75 =$ _____	0,02	600
17	$88,22 : 10 =$ _____	42	$84 : 4 =$ _____	8,822	21
18	$25 \times 50 =$ _____	43	15,2 pour aller à 16 : _____	1250	0,8
19	$26 \times 25 =$ _____	44	76,2 pour aller à 77 : _____	650	0,8
20	$19 \times 75 =$ _____	45	$25,66 : 10 =$ _____	1425	2,566
21	$52 : 4 =$ _____	46	$37 \times 50 =$ _____	13	1850
22	34,8 pour aller à 35 : _____	47	$12 \times 25 =$ _____	0,2	300
23	71,77 pour aller à 72 : _____	48	$17 \times 75 =$ _____	0,23	1275
24	$42,33 : 10 =$ _____	49	$32 : 4 =$ _____	4,233	8
25	$19 \times 50 =$ _____			950	

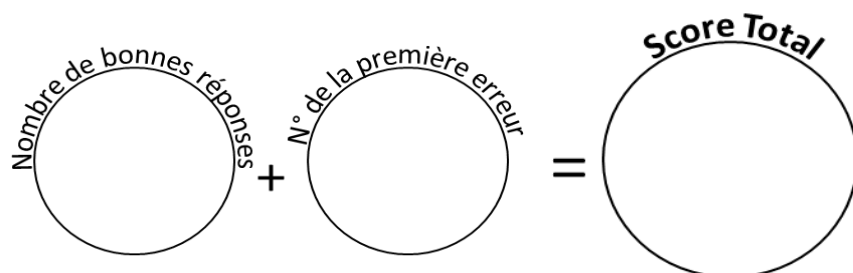


Reporte ton score sur ton graphique !

49 calculs en 5 minutes
(série 882)
Ceinture noire

Réponses
Ceinture noire
série 882

1	78,6 pour aller à 79 : _____	26	6 x 25 = _____	0,4	150
2	80,41 pour aller à 81 : _____	27	8 x 75 = _____	0,59	600
3	11,05 : 10 = _____	28	60 : 4 = _____	1,105	15
4	12 x 50 = _____	29	68,7 pour aller à 69 : _____	600	0,3
5	25 x 25 = _____	30	69,09 pour aller à 70 : _____	625	0,91
6	9 x 75 = _____	31	93,67 : 10 = _____	675	9,367
7	96 : 4 = _____	32	25 x 50 = _____	24	1250
8	34,5 pour aller à 35 : _____	33	35 x 25 = _____	0,5	875
9	64,8 pour aller à 65 : _____	34	7 x 75 = _____	0,2	525
10	93,5 : 10 = _____	35	80 : 4 = _____	9,35	20
11	16 x 50 = _____	36	94,5 pour aller à 95 : _____	800	0,5
12	21 x 25 = _____	37	91,3 pour aller à 92 : _____	525	0,7
13	9 x 75 = _____	38	71,62 : 10 = _____	675	7,162
14	64 : 4 = _____	39	7 x 50 = _____	16	350
15	1,8 pour aller à 2 : _____	40	15 x 25 = _____	0,2	375
16	71,6 pour aller à 72 : _____	41	16 x 75 = _____	0,4	1200
17	33,19 : 10 = _____	42	24 : 4 = _____	3,319	6
18	36 x 50 = _____	43	32,8 pour aller à 33 : _____	1800	0,2
19	40 x 25 = _____	44	37,02 pour aller à 38 : _____	1000	0,98
20	6 x 75 = _____	45	63,05 : 10 = _____	450	6,305
21	24 : 4 = _____	46	16 x 50 = _____	6	800
22	22,5 pour aller à 23 : _____	47	28 x 25 = _____	0,5	700
23	27,04 pour aller à 28 : _____	48	20 x 75 = _____	0,96	1500
24	20,04 : 10 = _____	49	80 : 4 = _____	2,004	20
25	22 x 50 = _____			1100	

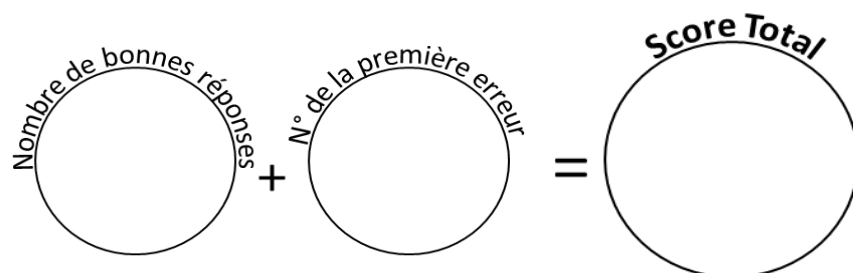


Reporte ton score sur ton graphique !

49 calculs en 5 minutes
(série 450)
Ceinture noire

Réponses
Ceinture noire
série 450

1	15,9 pour aller à 16 : _____	26	32 x 25 = _____	0,1	800
2	96,6 pour aller à 97 : _____	27	3 x 75 = _____	0,4	225
3	51,67 : 10 = _____	28	52 : 4 = _____	5,167	13
4	14 x 50 = _____	29	26,4 pour aller à 27 : _____	700	0,6
5	21 x 25 = _____	30	27,2 pour aller à 28 : _____	525	0,8
6	4 x 75 = _____	31	90,96 : 10 = _____	300	9,096
7	52 : 4 = _____	32	3 x 50 = _____	13	150
8	3,1 pour aller à 4 : _____	33	18 x 25 = _____	0,9	450
9	86,46 pour aller à 87 : _____	34	18 x 75 = _____	0,54	1350
10	16,35 : 10 = _____	35	68 : 4 = _____	1,635	17
11	19 x 50 = _____	36	59,9 pour aller à 60 : _____	950	0,1
12	40 x 25 = _____	37	20,17 pour aller à 21 : _____	1000	0,83
13	8 x 75 = _____	38	9,07 : 10 = _____	600	0,907
14	52 : 4 = _____	39	18 x 50 = _____	13	900
15	27,3 pour aller à 28 : _____	40	37 x 25 = _____	0,7	925
16	4,77 pour aller à 5 : _____	41	9 x 75 = _____	0,23	675
17	4,39 : 10 = _____	42	56 : 4 = _____	0,439	14
18	19 x 50 = _____	43	41,7 pour aller à 42 : _____	950	0,3
19	11 x 25 = _____	44	72,37 pour aller à 73 : _____	275	0,63
20	10 x 75 = _____	45	72,9 : 10 = _____	750	7,29
21	72 : 4 = _____	46	40 x 50 = _____	18	2000
22	81,5 pour aller à 82 : _____	47	27 x 25 = _____	0,5	675
23	72,32 pour aller à 73 : _____	48	5 x 75 = _____	0,68	375
24	91,17 : 10 = _____	49	52 : 4 = _____	9,117	13
25	19 x 50 = _____			950	



Reporte ton score sur ton graphique !