

La distance parcourue lors d'un marathon est :


- a. 4 km
- b. 42 km
- c. 4 m



Réponse : b

Au saut à la perche, un athlète saute :

- a. 6 km
- b. 60 m
- c. 6 m



Réponse : c

2 000 cm est une longueur égale à :


- a. 20 m
- b. 2 km
- c. 2 m



Réponse : a

2 000 mm est une longueur égale à :

- a. 2 km
- b. 20 cm
- c. 2 m



Réponse : c

1 500 m est une longueur :


- a. Inférieure à 1 km
- b. Supérieure à 1 km
- c. Egale à 10 km



Réponse : b

10 000 m est une longueur égale à :

- a. 10 km
- b. 1 km
- c. 100 km



Réponse : a

400 cm est une longueur égale à :


- a. 4 m
- b. 4 km
- c. 4 000 mm



Réponses : a et c

500 mm est une longueur égale à :

- a. 5 km
- b. 5 m
- c. 50 cm



Réponse : c