

A  AR  ECA  NA

Objectif : lire l'heure et la demi heure.

**Ecris l'heure indiquée par chaque horloge.**



.....



.....



.....



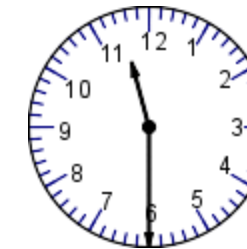
.....



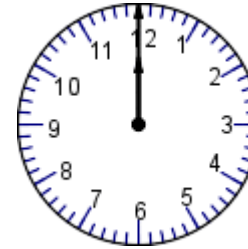
.....



.....



.....



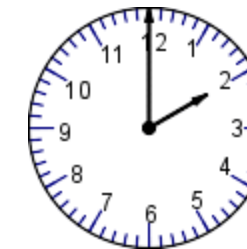
.....



.....



.....



.....

A  AR  ECA  NA

Objectif : lire une heure et demi.

**Ecris l'heure indiquée par chaque horloge.**



.....



.....



.....



.....



.....



.....



.....



.....



.....



.....



.....

A  AR  ECA  NA 

Objectif : lire une heure exacte.

**Ecris l'heure indiquée par chaque horloge.**



.....



.....



.....



.....



.....



.....



.....



.....



.....



.....



.....