

Calculs avec dizaines, unités




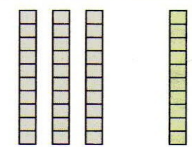
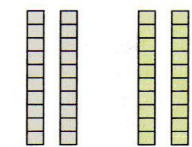
1 **Relie** les écritures d'un même nombre.


- 3 dizaines et 5 unités ●
- 1 dizaine et 9 unités ●
- 18 unités ●
- 3 unités et 6 dizaines ●

- 19
- 63
- 35
- 10 + 8
- 18



2 **a. Observe et complète.**

 4 d 40	 3 d + 1 d 30 + _____ = _____	 2 d + _____ d _____ + _____ = _____
--	--	--



**b. Calcule.**

- |                   |                   |                             |
|-------------------|-------------------|-----------------------------|
| $30 + 10 = \dots$ | $40 + 10 = \dots$ | $10 + 10 + 10 = \dots$      |
| $10 + 10 = \dots$ | $20 + 10 = \dots$ | $20 + 10 + 10 = \dots$      |
| $10 + 40 = \dots$ | $30 + 20 = \dots$ | $10 + 10 + 10 + 20 = \dots$ |

3 **Relie** les différentes écritures d'un même nombre, comme dans l'exemple.

- |                 |                   |            |
|-----------------|-------------------|------------|
| $20 + 10 + 4$ ● | ● cinquante et un | ● $30 + 4$ |
| $40 + 10 + 1$ ● | ● trente-quatre   | ● $40 + 5$ |
| $20 + 30 + 3$ ● | ● quarante-cinq   | ● $50 + 3$ |
| $20 + 20 + 5$ ● | ● cinquante-trois | ● $50 + 1$ |

4 Comme dans l'exemple, **place** 4 pions pour obtenir le résultat indiqué. **Complète.**

