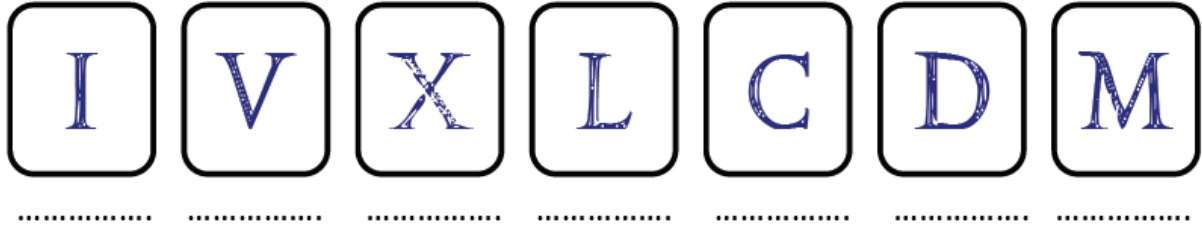


# Les chiffres romains : rappel

Dans la numération romain, il existe ..... signes différents.



A. Dans la numération romaine, il n'y a .....

B. On ..... les signes si ceux de ..... sont .....

XXIII =

XVII =

C. On n'écrit ..... chiffres identiques à la suite :

3 =                    mais pas 4 = IIII                    en effet 4 =

D. On ..... les chiffres qui sont à ..... d'un plus .....

X = 10    et    IX =

V = 5    et    IV =

D = 500    et    CD =

E. Tous les chiffres écrits entre 2 autres ..... sont .....  
de celui de .....


XIX = 10 + (10 - 1) = 19

et IX = 10 - 1 = 9




# Les chiffres romains : exercices


1. Dessine les aiguilles à l'heure indiquée



**8 h 00**



**15 h 15**



**18h25**

2. Transcris en chiffre arabe.

Chapitre XXII : .....

Le XV<sup>ème</sup> siècle : .....

Napoléon III : .....

Louis XVIII : .....

Mohammed VI : .....

La VIII<sup>ème</sup> avenue : .....

Henri IV : .....

Louis XVIII : .....

Le XIX<sup>ème</sup> siècle : .....

Star Wars VII : .....

Final Fantasy XV : .....

MMXIX : .....

MCMXCIX : .....

3. Ecris les nombres suivants en chiffres romains.

27 : .....

310 : .....

1005 : .....

315 : .....

4. Relie comme il convient.

564	•	•	CCCXCIX
335	•	•	CXLIX
1625	•	•	MCCLVI
149	•	•	MDCXXV
399	•	•	DLXIV
2346	•	•	MMCCCXLVI
1256	•	•	MMDCCCLVI
545	•	•	CCCXXXV
2756	•	•	DXLV