

Prénom : _____

Date : _____

CM2

Evaluation de géographie

Leçons G1, G2

Soin, présentation



Appréciation

Compétences évaluées

Connaître quelques aspects de la géographie de la Terre :

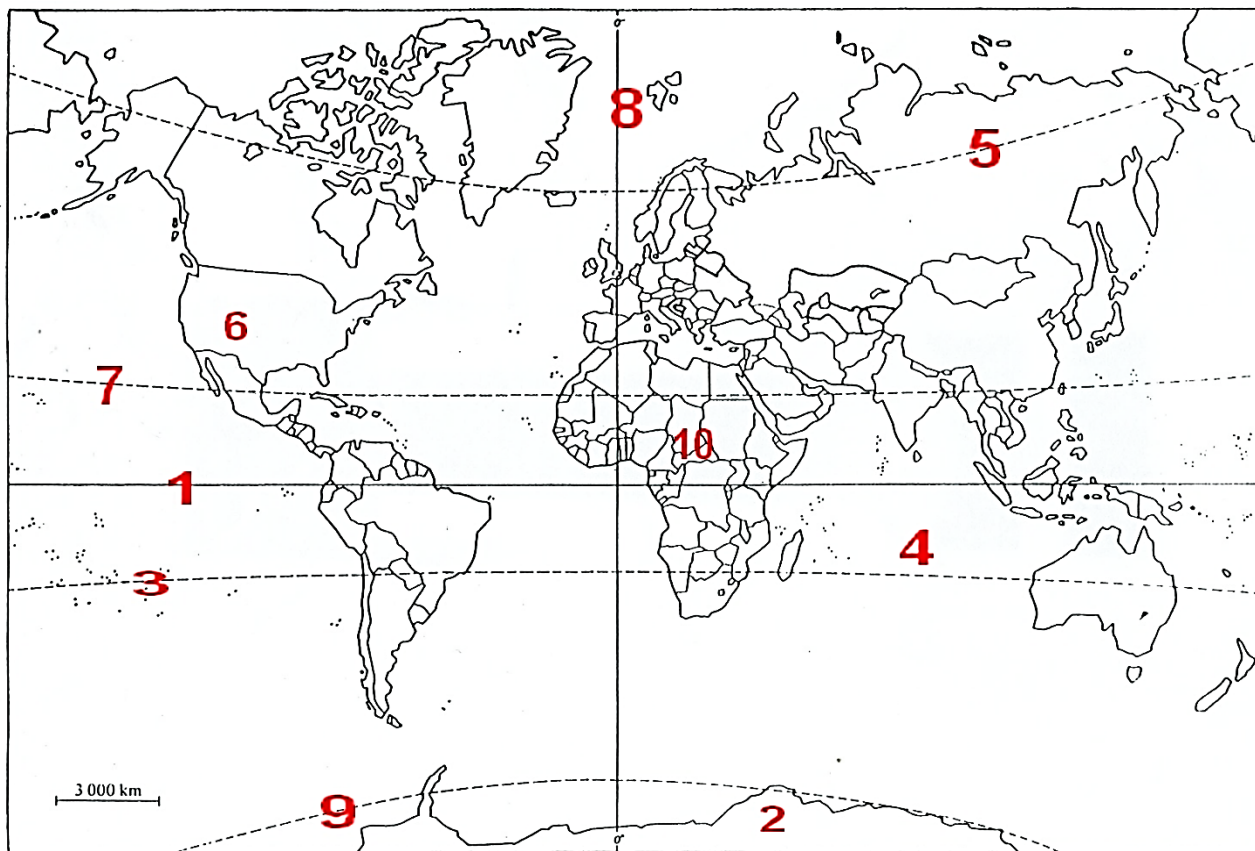
* Repères : lignes imaginaires

* Les zones climatiques

1	acquis
2	à renforcer
3	en cours d'acquisition
4	non acquis

Signature des parents

1 Complète la légende ci-dessous pour chaque numéro :



1 : une ligne imaginaire : _____

2 : un continent : _____

3 : une ligne imaginaire : _____

4 : un océan : _____

5 : une ligne imaginaire : _____

6 : un continent : _____

7 : une ligne imaginaire : _____

8 : une ligne imaginaire : _____

9 : une ligne imaginaire : _____

10 : un continent : _____

2 Donne la définition l'équateur :

Se repérer sur la Terre

3 Complète les degrés manquants (latitude et longitude) sur le blog ci-dessous. Une radio a capté ces 2 messages. Localise les deux bateaux en détresse en les dessinant.

Message 1 :

Moteur en panne STOP
Bateau à la dérive STOP
SOS. SOS.

Position :

10° longitude Est
30° latitude Sud

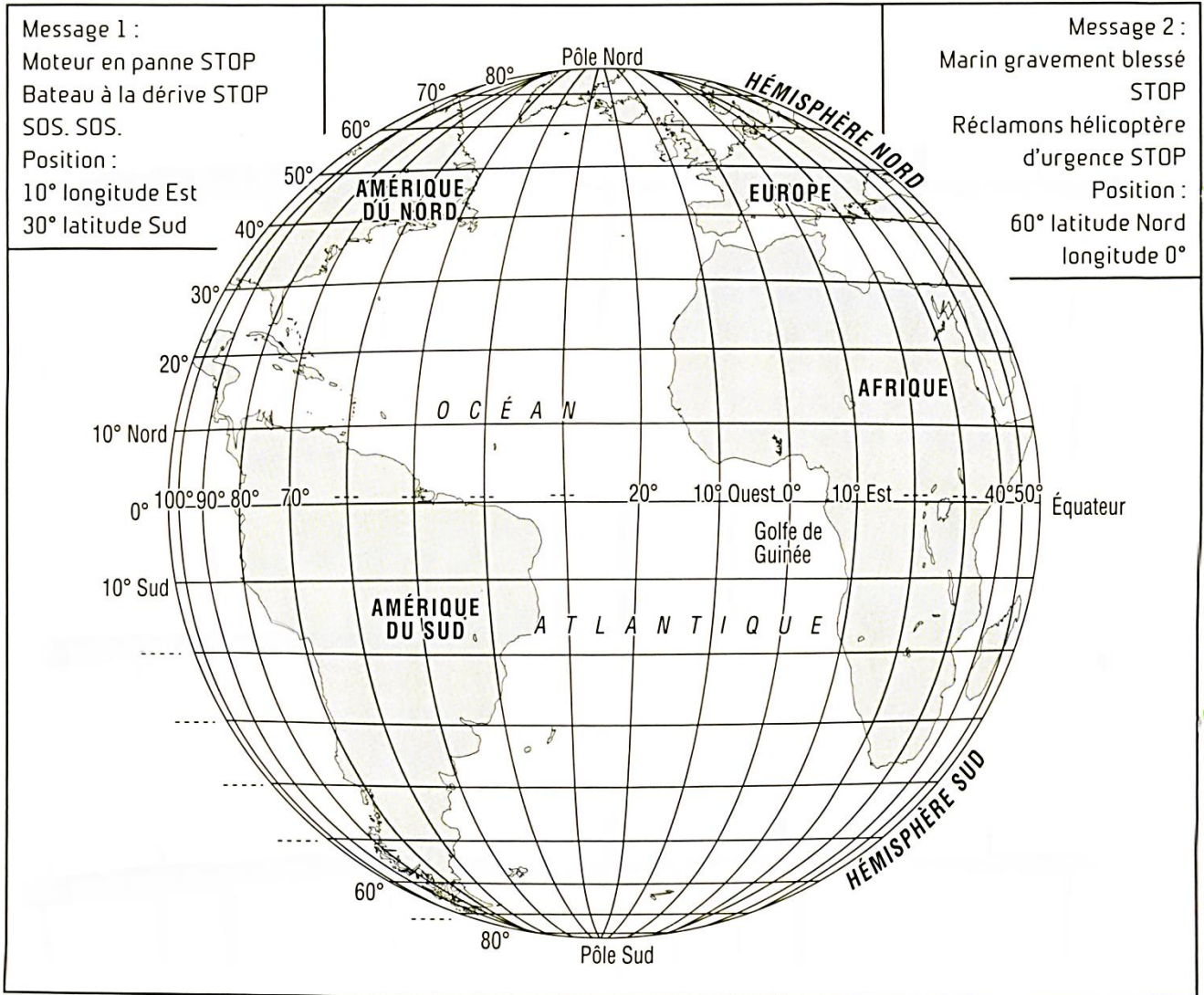
Message 2 :

Marin gravement blessé
STOP

Réclamons hélicoptère
d'urgence STOP

Position :

60° latitude Nord
longitude 0°

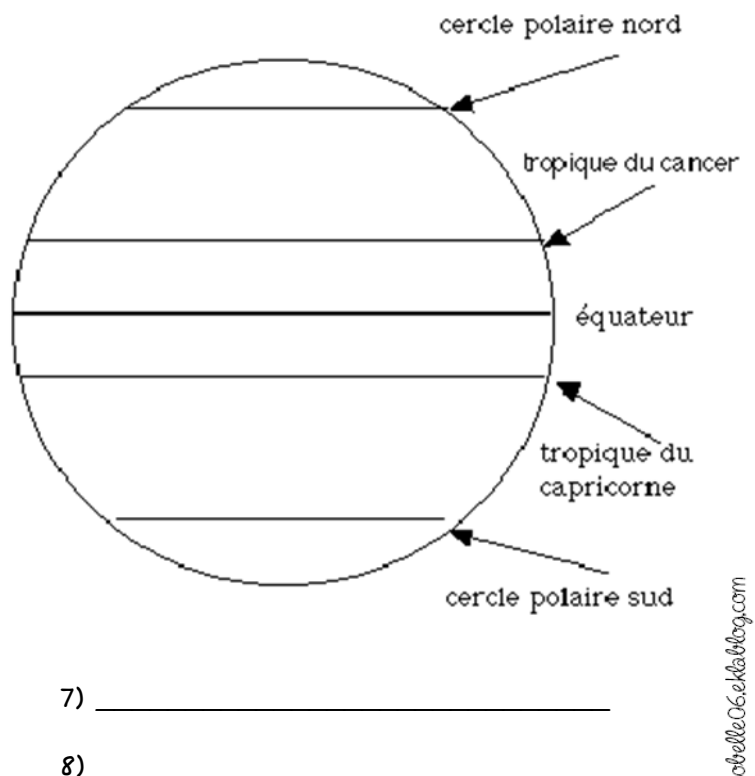


4 Complète ce schéma

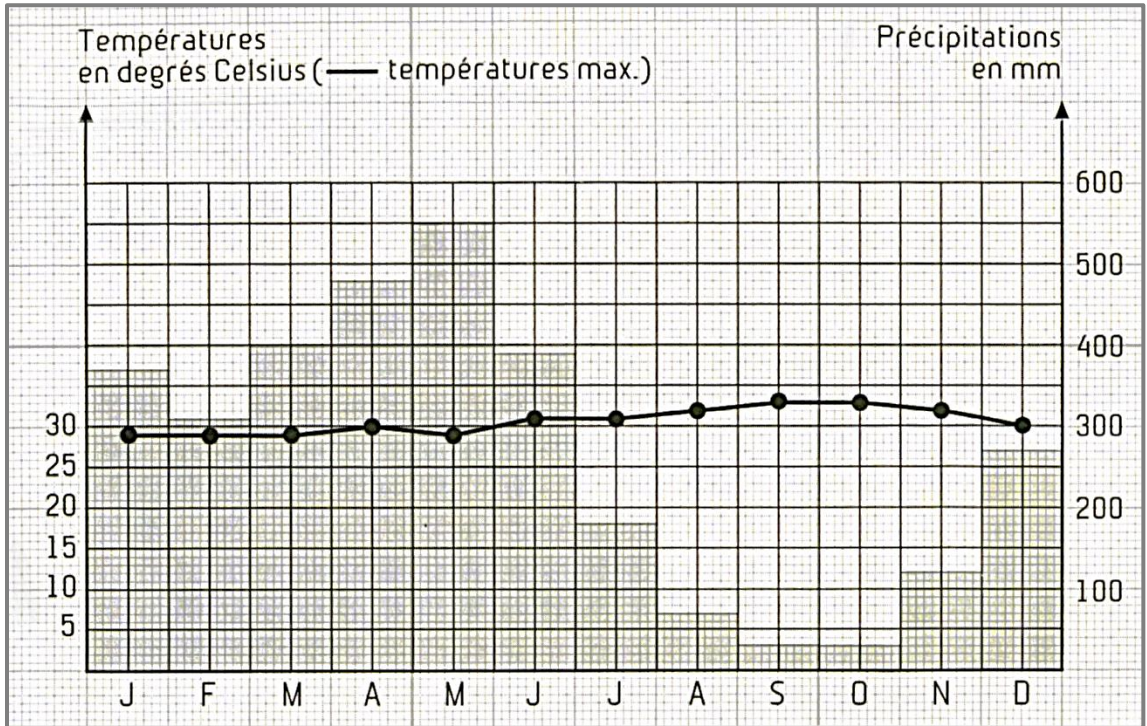
Colorie en rouge la zone chaude,
en jaune la zone tempérée et en
bleu la zone froide

5 Cite les 8 climats présents
sur notre planète.

- 1) _____
- 2) _____
- 3) _____
- 4) _____
- 5) _____
- 6) _____



6 Observe ce graphique des températures moyennes annuelles et des précipitations annuelles de la ville de Cayenne.



* Place les données dans le tableau ci-dessous

Cayenne	J	F	M	A	M	J	J	A	S	O	N	D
Températures (°C)												
Précipitations (mm)												

* Sous quel climat se situe cette ville ? Pourquoi ?

7 Observe ces images et complète les légendes.



Zone : _____
 Climat : _____
 Continent : _____



Zone : _____
 Climat : _____
 Continent : _____



Zone : _____
 Climat : _____
 Continent : _____