

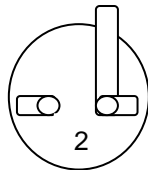
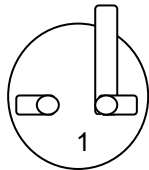
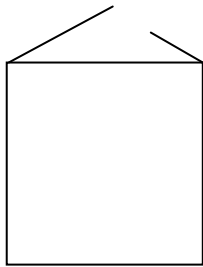
Fiche 8 bis: 2 interrupteurs (suite)

Prénom : _____

Savoir lire un schéma. Savoir repérer les contacts d'une ampoule et d'une pile.

Réalise les montages suivants et réponds aux questions.

1



Ferme le circuit en utilisant l'interrupteur 1. Allume et éteint pour contrôler.

Ferme le circuit en utilisant l'interrupteur 2. Allume et éteint pour contrôler.

Ferme les 2 interrupteurs, l'ampoule brille-t-elle ?
oui non

Ouvre l'interrupteur n°2 et laisse l'interrupteur 1 fermé, l'ampoule brille-t-elle ?
oui non

Ferme l'interrupteur n°2 et ouvre le 1, l'ampoule brille-t-elle ?
oui non

Tu en conclus quoi ?