

Exercices : s'orienter avec les points cardinaux - 1

Complète le schéma en écrivant les directions indiquées

par la rose des vents.

Écris :

N pour le nord

S pour le sud

E pour l'est


O pour l'ouest

NE pour le nord-est

NO pour le nord-ouest

SE pour le sud-est


SO pour le sud-ouest



Le soleil et les points cardinaux

Le soleil se lève à l'est et se couche à l'ouest. L'été, vers 14 heures, il se trouve au sud. Si tu te places dos au soleil à 14 heures, c'est-à-dire dos au sud, tu regardes vers le nord; à ta droite se trouve l'est et à ta gauche se trouve l'ouest.

- a. Écris dans la bonne case le nom de chaque point cardinal.



Exercices : s'orienter avec les points cardinaux - 1

Complète le schéma en écrivant les directions indiquées

par la rose des vents.

Écris :

N pour le nord

S pour le sud

E pour l'est


O pour l'ouest

NE pour le nord-est

NO pour le nord-ouest

SE pour le sud-est

SO pour le sud-ouest



Le soleil et les points cardinaux

Le soleil se lève à l'est et se couche à l'ouest. L'été, vers 14 heures, il se trouve au sud. Si tu te places dos au soleil à 14 heures, c'est-à-dire dos au sud, tu regardes vers le nord; à ta droite se trouve l'est et à ta gauche se trouve l'ouest.

- a. Écris dans la bonne case le nom de chaque point cardinal.

