
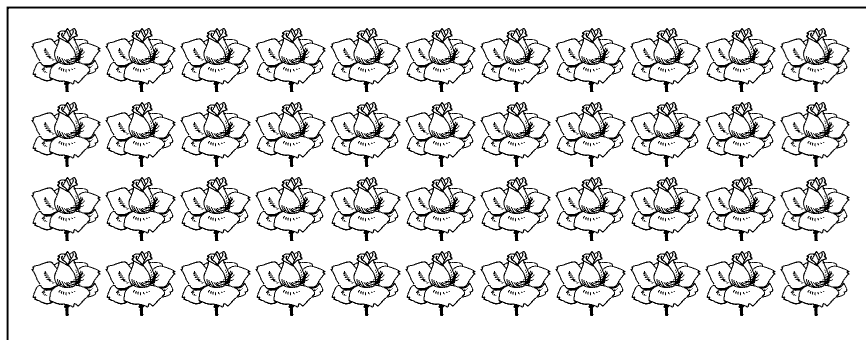


Compte le nombre d'objets en faisant des groupements par 10.

d	u



d	u



Représente les nombres suivants à l'aide de dizaines et d'unités.


56	
74	
92	

Observe l'exemple et écris les nombres à l'aide des différentes écritures.

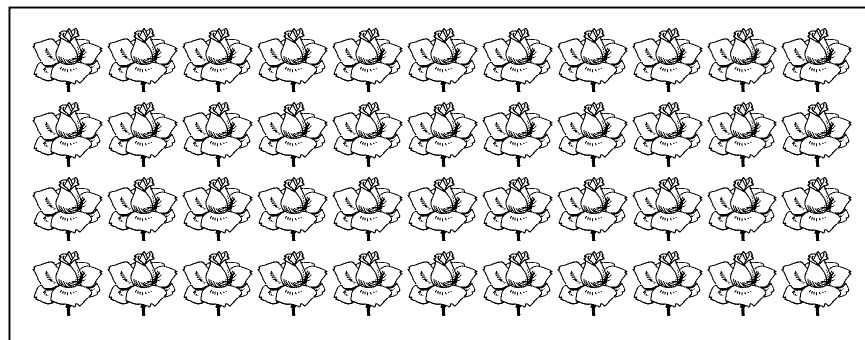
26		10+10+6	20+6
54			
63			

Compte le nombre d'objets en faisant des groupements par 10.

d	u



d	u



Représente les nombres suivants à l'aide de dizaines et d'unités.

56	
74	
92	

Observe l'exemple et écris les nombres à l'aide des différentes écritures.

26		10+10+6	20+6
54			
63			