



Parcours 1 d'entraînement Ceinture Blanche de Mesures

- Relis la leçon MES1

- Exercices à faire au feutre.

Exprime ces longueurs dans les unités demandées

a. en mètres : 230 km ; 67 dam ; 200 dm ; 1 000 cm.

b. en centimètres : 300 m ; 26 dm ; 300 mm ; 5 dam.

c. en kilomètres : 10 000 m ; 1 000 dam ; 100 hm.

Exprime ces longueurs dans l'unité demandée.

2 m 72 cm = cm ; 0,45 m = cm ; 0,063 m = cm

2 428 km = m ; 530 dm = m ; 175 cm = m cm ;

Effectue les opérations suivantes .

8 m 312 mm + 2 m 8 mm = mm

10 m 25 cm - 7 m 5 cm = cm

470 hm - 200 dam = km

Compare les longueurs suivantes en utilisant les signes < > =

85 dam 8500 dm

42 mm4 cm

40 dm4 dam

1 999 mm2 m

- **Corrige ces exercices en utilisant le classeur de corrections CM2**

- **Si tu as beaucoup d'erreurs tu peux reprendre la vidéo et les exercices en ligne.**

- **Demande à passer le test 1**





Parcours 1 d'entrainement Ceinture Jaune de Mesures

- Relis la leçon MES2

- Exercices à faire sur le cahier iParcours CM2.

Exercices 1, 3, 4 et 5 page 80

Exercices 1, 2, 3, 5 et 7 page 79

- Corrige ces exercices en utilisant le classeur de corrections CM2

- Si tu as beaucoup d'erreurs tu peux reprendre la vidéo et les exercices en ligne.

- Demande à passer le test 1



Parcours 1 d'entrainement Ceinture Jaune de Mesures

- Relis la leçon MES2

- Exercices à faire sur le cahier iParcours CM2.

Exercices 1, 3, 4 et 5 page 80

Exercices 1, 2, 3, 5 et 7 page 79

- Corrige ces exercices en utilisant le classeur de corrections CM2

- Si tu as beaucoup d'erreurs tu peux reprendre la vidéo et les exercices en ligne.

- Demande à passer le test 1



Parcours 1 d'entrainement Ceinture Jaune de Mesures

- Relis la leçon MES2

- Exercices à faire sur le cahier iParcours CM2.

Exercices 1, 3, 4 et 5 page 80

Exercices 1, 2, 3, 5 et 7 page 79

- Corrige ces exercices en utilisant le classeur de corrections CM2

- Si tu as beaucoup d'erreurs tu peux reprendre la vidéo et les exercices en ligne.

- Demande à passer le test 1





Parcours 1 d'entrainement Ceinture Orange de Mesures

- Relis la leçon MES3

- Exercices à faire sur le cahier iParcours CM2.

Exercices 1, 3, 4, 5, 6 page 74

- Corrige ces exercices en utilisant le classeur de corrections CM2

- Si tu as beaucoup d'erreurs tu peux reprendre la vidéo et les exercices en ligne.

- Demande à passer le test 1



Parcours 1 d'entrainement Ceinture Orange de Mesures

- Relis la leçon MES3

- Exercices à faire sur le cahier iParcours CM2.

Exercices 1, 3, 4, 5, 6 page 74

- Corrige ces exercices en utilisant le classeur de corrections CM2

- Si tu as beaucoup d'erreurs tu peux reprendre la vidéo et les exercices en ligne.

- Demande à passer le test 1



Parcours 1 d'entrainement Ceinture Orange de Mesures

- Relis la leçon MES3

- Exercices à faire sur le cahier iParcours CM2.

Exercices 1, 3, 4, 5, 6 page 74

- Corrige ces exercices en utilisant le classeur de corrections CM2

- Si tu as beaucoup d'erreurs tu peux reprendre la vidéo et les exercices en ligne.

- Demande à passer le test 1





Parcours 1 d'entraînement Ceinture Verte de Mesures

- Relis la leçon MES4

- Exercices à faire sur le cahier iParcours CM2.

Exercices 1, 2, 3 page 81

Exercices 2 et 4 page 82

Exercices 1 et 2 page 83

- Corrige ces exercices en utilisant le classeur de corrections CM2

- Si tu as beaucoup d'erreurs tu peux reprendre la vidéo et les exercices en ligne.

- Demande à passer le test 1



Parcours 1 d'entraînement Ceinture Verte de Mesures

- Relis la leçon MES4

- Exercices à faire sur le cahier iParcours CM2.

Exercices 1, 2, 3 page 81

Exercices 2 et 4 page 82

Exercices 1 et 2 page 83

- Corrige ces exercices en utilisant le classeur de corrections CM2

- Si tu as beaucoup d'erreurs tu peux reprendre la vidéo et les exercices en ligne.

- Demande à passer le test 1



Parcours 1 d'entraînement Ceinture Verte de Mesures

- Relis la leçon MES4

- Exercices à faire sur le cahier iParcours CM2.

Exercices 1, 2, 3 page 81

Exercices 2 et 4 page 82

Exercices 1 et 2 page 83

- Corrige ces exercices en utilisant le classeur de corrections CM2

- Si tu as beaucoup d'erreurs tu peux reprendre la vidéo et les exercices en ligne.

- Demande à passer le test 1





Parcours 1 d'entraînement Ceinture Bleue de Mesures

- Relis la leçon MES5

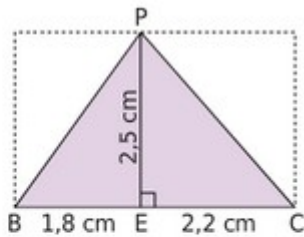
- Exercices à faire sur le cahier iParcours CM2.

Exercices 1, 2, 3 et 4 page 75

Exercices 1, 2, 3 et 6 page 77

Exercices à compléter au feutre.

1 On considère la figure ci-contre.



a. Calcule l'aire du triangle rectangle PEB.

.....

b. Calcule l'aire du triangle rectangle PEC.

.....

c. Calcule l'aire du triangle PBC.

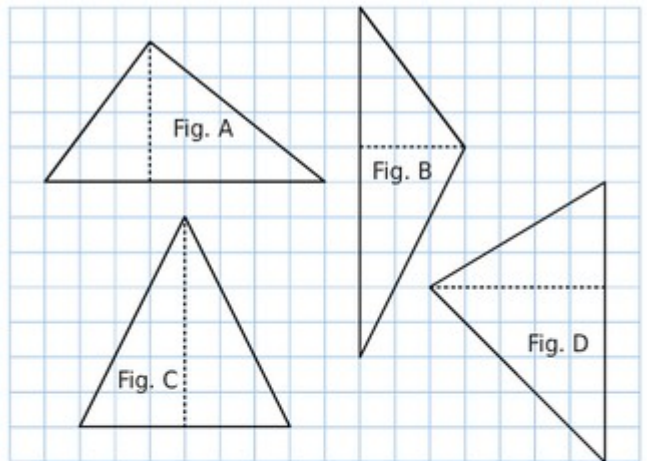
.....

- Corrige ces exercices en utilisant le classeur de corrections CM2

- Si tu as beaucoup d'erreurs tu peux reprendre la vidéo et les exercices en ligne.

- Demande à passer le test 1

3 Observe les triangles ci-dessous.



a. Donne l'aire de chaque triangle en cm^2 .

Figure	A	B	C	D
Aire (cm^2)				

b. Classe-les dans l'ordre croissant de leur aire.

.....

.....



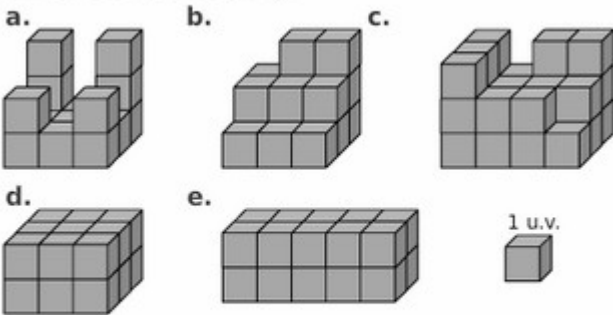


Parcours 1 d'entraînement Ceinture Marron de Mesures

- Relis la leçon MES6

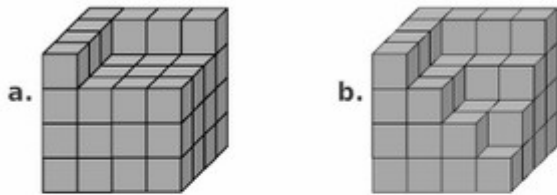
- Exercices à faire au feutre

1 Donne le volume de chaque solide exprimé en unités de volume (u.v.).



	a.	b.	c.	d.	e.
Volume en u.v.					

2 Quel est le volume de chaque solide si on prend un petit cube pour unité de volume ?



a.

b.

5 Donne le volume en cm^3 d'un ...

a. cube d'arête 3 cm ;



b. pavé droit de dimensions 5 cm, 6 cm et 2 cm.

6 Soit un cube. Complète le tableau en faisant attention à l'unité de volume.



	a.	b.	c.	d.
Côté	2 cm	10 hm	0,5 m	3,4 dm
Volume				

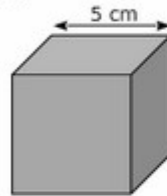
7 Soit un pavé droit de largeur l , de longueur L et de hauteur h . Complète le tableau en faisant attention à l'unité de volume.



	a.	b.	c.	d.
l	2 cm	10 hm	0,5 m	2,8 dm
L	3 cm	20 hm	1,5 m	5 dm
h	4 cm	17 hm	1 m	2,5 dm
Volume				

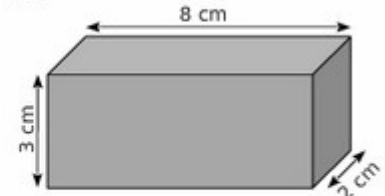
3 Combien peut-on mettre de dés à jouer d'un centimètre d'arête dans chaque boîte ?

a.



Boîte cubique

b.



Boîte à chaussures

a.

b.

- Corrige ces exercices en utilisant le classeur de corrections CM2

- Si tu as beaucoup d'erreurs tu peux reprendre la vidéo et les exercices en ligne.

- Demande à passer le test 1





Parcours 1 d'entraînement Ceinture Noire de Mesures

- Exercices à faire sur le cahier iParcours CM2.

Exercices 1 et 4 p 84

Exercices 1 et 2 p 85

- Corrige ces exercices en utilisant le classeur de corrections CM2

- Si tu as beaucoup d'erreurs tu peux demander de l'aide à ton enseignant.

- Demande à passer le test 1



Parcours 1 d'entraînement Ceinture Noire de Mesures

- Exercices à faire sur le cahier iParcours CM2.

Exercices 1 et 4 p 84

Exercices 1 et 2 p 85

- Corrige ces exercices en utilisant le classeur de corrections CM2

- Si tu as beaucoup d'erreurs tu peux demander de l'aide à ton enseignant.

- Demande à passer le test 1



Parcours 1 d'entraînement Ceinture Noire de Mesures

- Exercices à faire sur le cahier iParcours CM2.

Exercices 1 et 4 p 84

Exercices 1 et 2 p 85

- Corrige ces exercices en utilisant le classeur de corrections CM2

- Si tu as beaucoup d'erreurs tu peux demander de l'aide à ton enseignant.

- Demande à passer le test 1