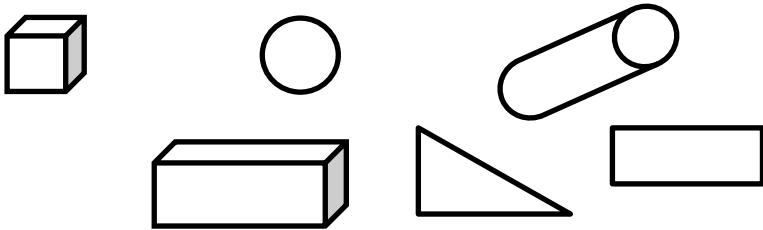


1. **CALCUL MENTAL – les moitiés**

2. **Parmi tous ces solides, colorie le pavé droit**

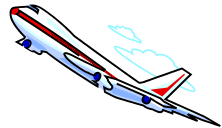


3. **Lis cet énoncé de problème puis, parmi les 4 informations proposées, entoure celles qui te sont utiles pour répondre à la question.**

Une personne veut partir 7 jours en Grèce.
 Elle se rend dans une agence de voyage qui lui propose un séjour à 68 euros par jour.
 Le voyage en avion dure 3 heures et coûte 220 euros aller-retour.

Quel est le prix total de ces vacances ?

Informations : voyage de 7 jours en Grèce.
 Séjour à 68 euros par jour.
 Voyage dure 3 heures.
 Le vol coûte 220 euros aller-retour.



Fais ton calcul.
 Réponds à la question.



Nombre de réponses justes



Je sais reconnaître un pavé

OUI
MOYEN
NON

Je comprends un énoncé

OUI
MOYEN
NON

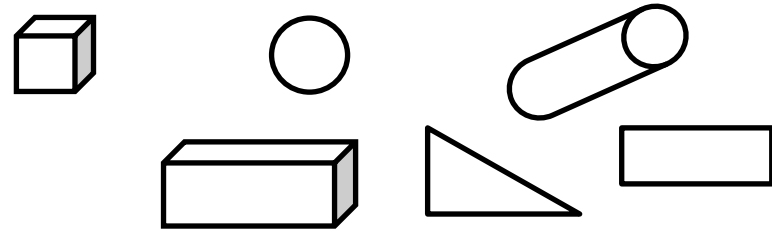
Je sais résoudre un problème

OUI
MOYEN
NON

71

1. **CALCUL MENTAL – les moitiés**

2. **Parmi tous ces solides, colorie le pavé droit**

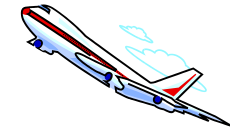


3. **Lis cet énoncé de problème puis, parmi les 4 informations proposées, entoure celles qui te sont utiles pour répondre à la question.**

Une personne veut partir 7 jours en Grèce.
 Elle se rend dans une agence de voyage qui lui propose un séjour à 68 euros par jour.
 Le voyage en avion dure 3 heures et coûte 220 euros aller-retour.

Quel est le prix total de ces vacances ?

Informations : voyage de 7 jours en Grèce.
 Séjour à 68 euros par jour.
 Voyage dure 3 heures.
 Le vol coûte 220 euros aller-retour.



Fais ton calcul.
 Réponds à la question.



Nombre de réponses justes



Je sais reconnaître un pavé

OUI
MOYEN
NON

Je comprends un énoncé

OUI
MOYEN
NON

Je sais résoudre un problème

OUI
MOYEN
NON

71