

Ich zähle n°2

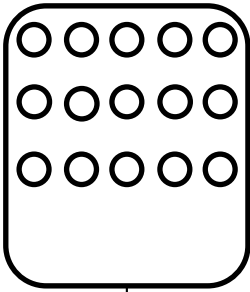
Zahlen von 0 bis 20

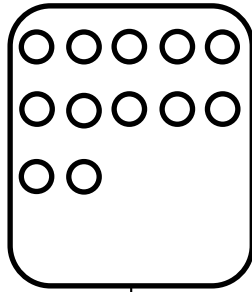


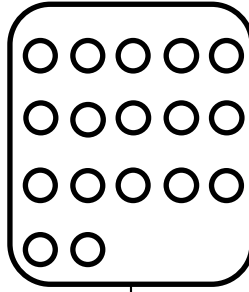
Zahlen und Mengen : von 0 bis 20




1 Zähle und ergänze











2 Ergänze die Zahlenfolge



Zahlen und Mengen : von 0 bis 20

1 Der Frosch muss vorwärts oder rückwärts. Zeichne die Pfeile. Wo kommt der Frosch an ? Male das Kästchen an.



8	9	10	11	12	13	14	15	16	17
---	---	----	----	----	----	----	----	----	----



11	12	13	14	15	16	17	18	19	20
----	----	----	----	----	----	----	----	----	----


Zahlen und Mengen : von 0 bis 20




1 Schreibe die Zahlen auf den Zahlenstrahl




2 Zeichne wie auf einem Würfel




15



12



14

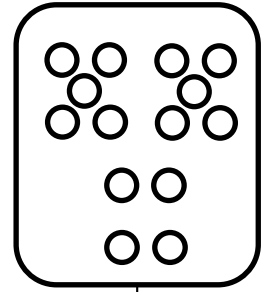
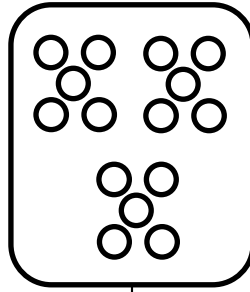
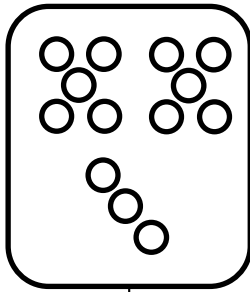
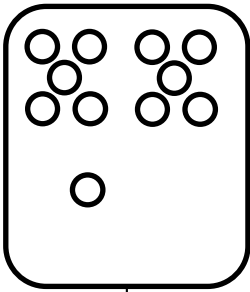


13


Zahlen und Mengen : von 0 bis 20



1 Zähle und ergänze



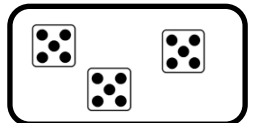
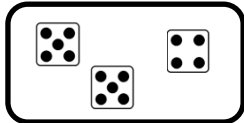
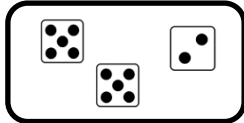
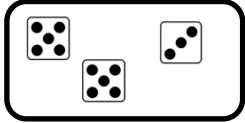
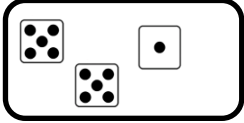
2 Ergänze die Zahlenfolge




Zahlen und Mengen : von 0 bis 20



1 Verbinde







2 Ergänze die Zahlenfolge



Zahlen und Mengen : von 0 bis 20

1 Mach Zehnerpakete, zähle und ergänze



Zahlen und Mengen : von 0 bis 20

3  15

1 Ergänze $<$, $>$ oder $=$

16 8

15 19

14 7

10 18

3 15

17 19

2 Ordne die Zahlen nach der Größe und beginne mit der kleinsten Zahl

8 - 14 - 6

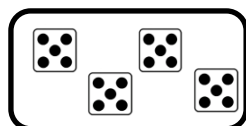
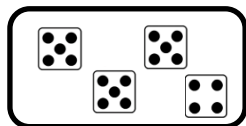
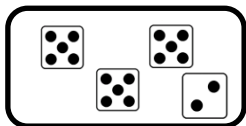
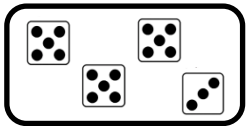
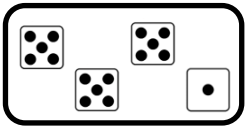
7 - 16 - 14

Zahlen und Mengen : von 0 bis 20



1 Verbinde

16 17 18 19 20



2 Zeichne wie auf einem Würfel

16

18

14


17

Zahlen und Mengen : von 0 bis 20



1 Verbinde

15 17 20 13 16



2 Ordne die Zahlen nach der Größe und beginne mit der größten Zahl

8 - 14 - 6


7 - 16 - 14

□ □ □

□ □ □

Zahlen und Mengen : von 0 bis 20

1 Der Frosch muss vorwärts oder rückwärts. Zeichne die Pfeile. Wo kommt der Frosch an ? Male das Kästchen an.




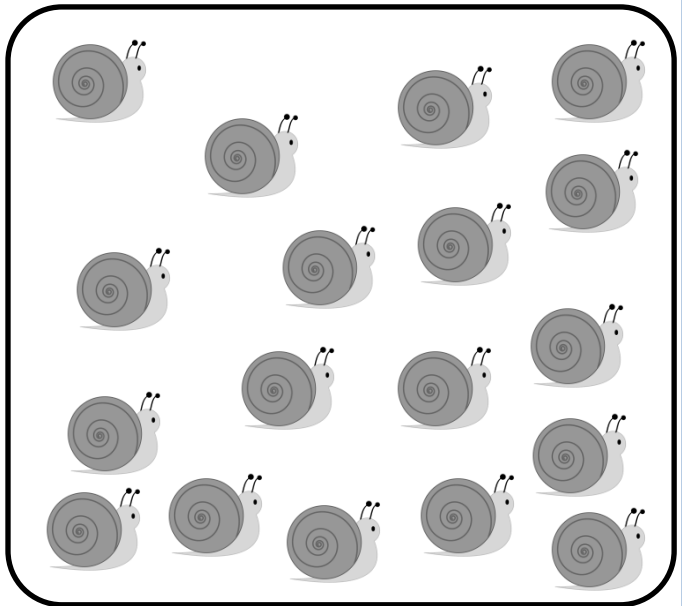


9	10	11	12	13	14	15	16	17	18
---	----	----	----	----	----	----	----	----	----



10	11	12	13	14	15	16	17	18	19
----	----	----	----	----	----	----	----	----	----

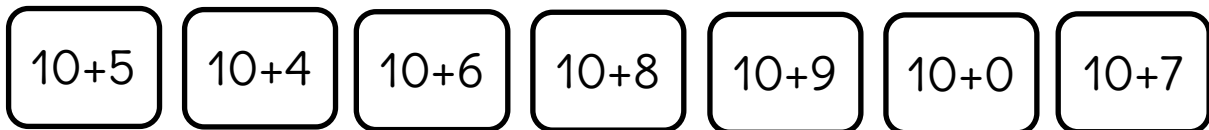
Zahlen und Mengen : von 0 bis 20

1 Mach Zehnerpakete, zähle und ergänze




Zahlen und Mengen : von 0 bis 20

1 Verbinde



2 Ergänze die Zahlenfolge

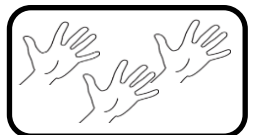
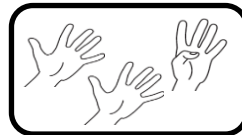

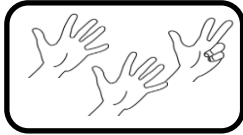


Zahlen und Mengen : von 0 bis 20

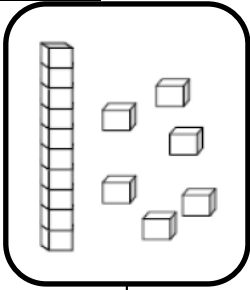


1 Verbinde


11 12 13 14 15




2 Zeichne




16



12



14



13

Zahlen und Mengen : von 0 bis 20



1 Male was gleich ist in derselben Farbe an.

13

siebzehn

$10+7$

dreizehn

elf

19

$10+3$

15

fünfzehn

$10+1$

11

$10+9$

17

neunzehn

$10+5$

Zahlen und Mengen : von 0 bis 20



1 Ordne die Zahlen nach der Größe und beginne mit der größten Zahl

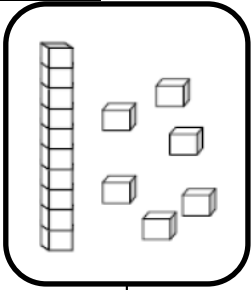
15 - 2 - 20

7 - 17 - 14


Three empty rounded rectangular boxes for ordering the numbers 15, 2, and 20.

Three empty rounded rectangular boxes for ordering the numbers 7, 17, and 14.


2 Zeichne




16



11



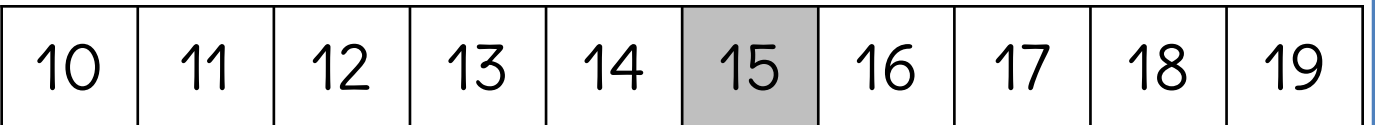

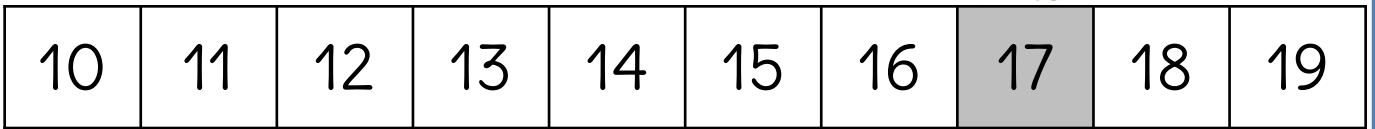
17



13

Zahlen und Mengen : von 0 bis 20

1 Der Frosch muss vorwärts oder rückwärts. Zeichne die Pfeile.
Wo kommt der Frosch an ? Male das Kästchen an.



Zahlen und Mengen : von 0 bis 20



1 Mache was gleich ist in derselben Farbe an.

14

$10+8$

vierzehn

achtzehn

zwölf

16

20

$10+4$

$10+10$

sechzehn

12

$10+2$

18





$10+6$

zwanzig

Zahlen und Mengen : von 0 bis 20



1 Mach Zehnerpakete, zähle und ergänze



Zahlen und Mengen : von 0 bis 20

3  15

1 Ergänze mit $<$, $>$ oder $=$:

12 8

11 19

6 13

19 18

7 15

17 16

2 Ordne die Zahlen nach der Größe und beginne mit der kleinsten Zahl

15 - 17 - 11

7 - 3 - 13

Zahlen und Mengen : von 0 bis 20

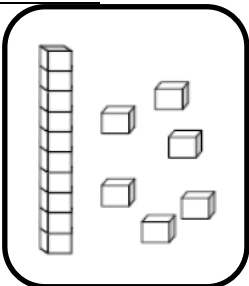


1 Verbinde

14 18 15 16 11 19 17

10+8 10+4 10+1 10+5 10+7 10+6 10+9

2 Zeichne



16

15

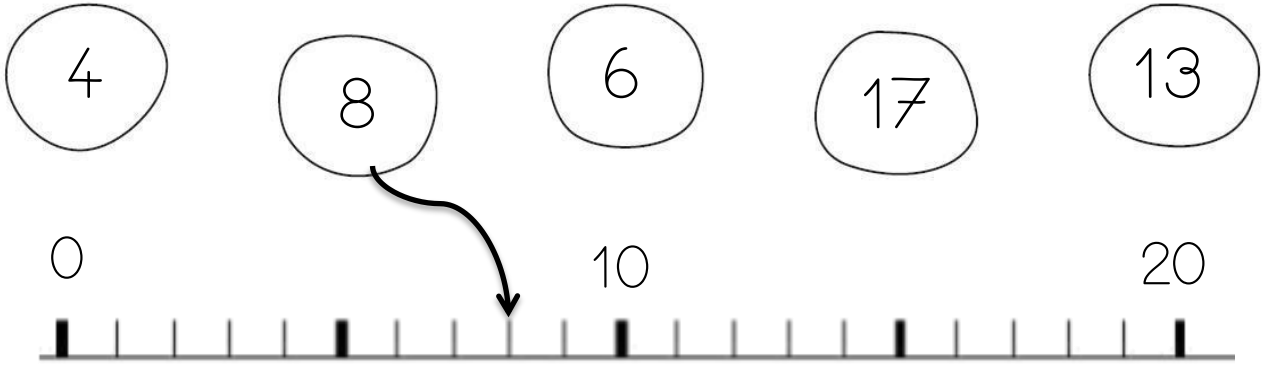
17

18

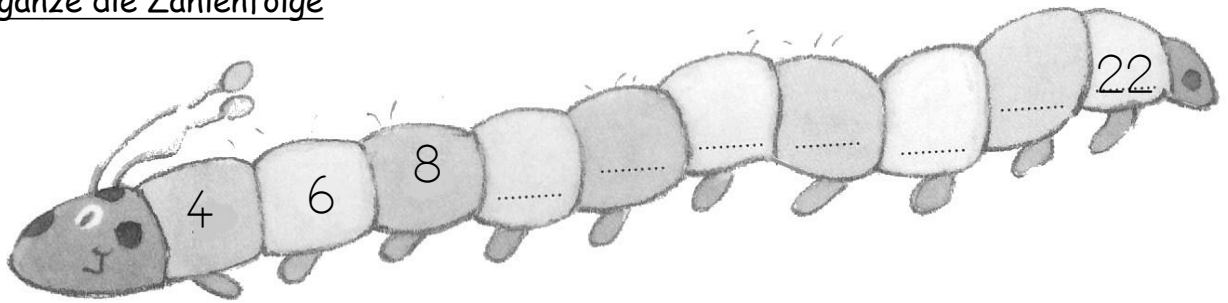
Zahlen und Mengen : von 0 bis 20



1 Verbinde jede Zahl mit der richtigen Stelle auf dem Zahlenstrahl



2 Ergänze die Zahlenfolge



Zahlen und Mengen : von 0 bis 20



1 Ergänze mit <, > oder =:

19 10 + 8

10 + 3 19

16 10 + 3

10 + 4 15

17 10 + 5

10 + 7 16

2 Ordne die Zahlen nach der Größe und beginne mit der kleinsten Zahl

16 - 7 - 12 - 10 - 4

Five empty rounded square boxes for writing the numbers in order from smallest to largest.