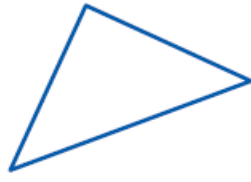


Note : la plus basse -- moyenne -- la plus haute

Mes réussites :	A	ECA	NA	→ points
1 : Je sais vérifier la nature d'une figure en ayant recours aux instruments.				/5
2 : Je sais tracer une figure à partir d'un programme de construction.				/5
3 : Je sais reproduire un triangle à l'aide d'instruments				/5
4a et 4b : Je sais construire une hauteur d'un triangle				/5

Date : / /

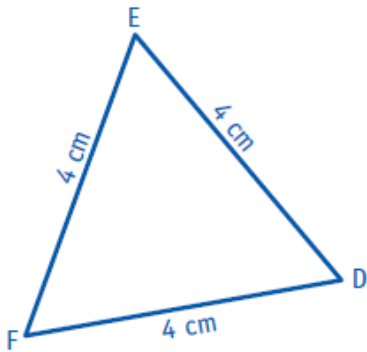
1 Indique le nom de ces triangles après les avoir vérifiés avec tes instruments de géométrie.



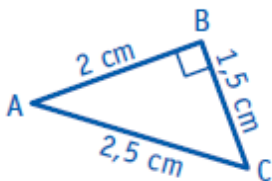
.....

.....

2 Reproduis ces triangles.



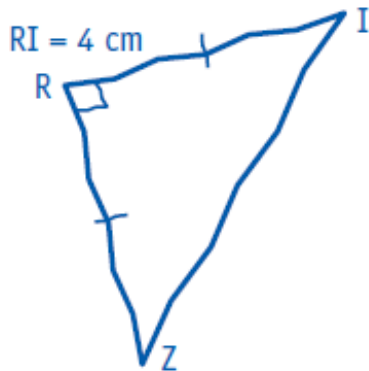
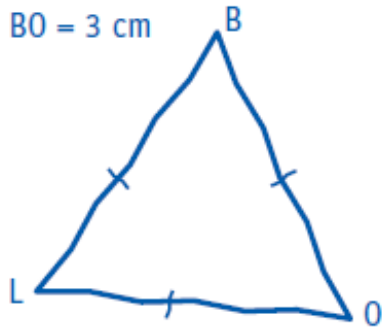
× E



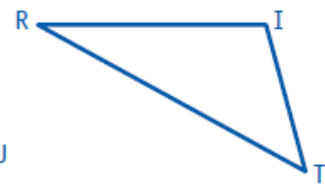
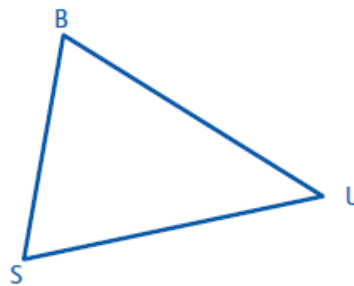
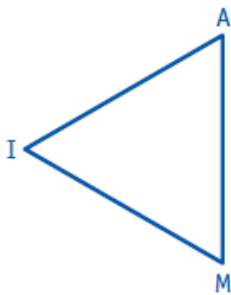
× B

NOM + Prénom :

3 Reproduis ces triangles dessinés à main levée avec tes instruments de géométrie en respectant les indications du codage et les dimensions.



4a Trace une hauteur de chacun de ces triangles. Marque l'angle droit.



4b Trace pour chacun des triangles la hauteur [DE]. N'oublie pas de placer le point E.

