

- Les **communes** (ville ou village) sont regroupées en départements. Il existe **100 départements**, 96 sont situés en Europe et 4 en **outre-mer** (la Guadeloupe, la Martinique, la Guyane, la Réunion).
- Les départements sont regroupés en **26 régions** dont 4 en outre-mer.



Doc 1 : Carte du département l'Indre et Loire

Le département de l'Indre et Loire est un département français situé dans la région Centre, au centre de la France.

Population totale : 588 420 hab. (2009)

Superficie : 6 127 km²

Relief : le département est dans l'ensemble de faible altitude, moins de 200 m. Le point culminant du département est à 187 mètres de hauteur.

Climat : le département possède un climat tempéré. Les hivers sont doux et pluvieux mais en été le climat peut être assez sec.

Le climat d'Indre-et-Loire est tempéré. La Loire est souvent utilisée comme frontière climatique entre nord et sud de la France. Les étés sont en règle générale assez chauds

À l'inverse, les températures très basses sont rares, descendant rarement sous les -10 °C.

La pluviométrie est assez faible, ce qui peut engendrer de graves situations de sécheresse .

Doc 2 : présentation du département.

Le Conseil général est une assemblée départementale où siègent les conseillers généraux élus par les habitants.

Les conseillers généraux sont à l'écoute des associations et des citoyens. Ils les aident à monter des dossiers quand leurs projets relèvent des grandes missions du département.

Certaines actions du Conseil général sont fixées par la loi : l'action sociale, la construction et l'entretien des collèges ou encore les transports scolaires.

Le Conseil général peut aussi engager toutes les actions qu'il estime nécessaires pour le développement du département.

Doc 3 : Le fonctionnement du Conseil général



CONSEIL GÉNÉRAL
D'INDRE & LOIRE

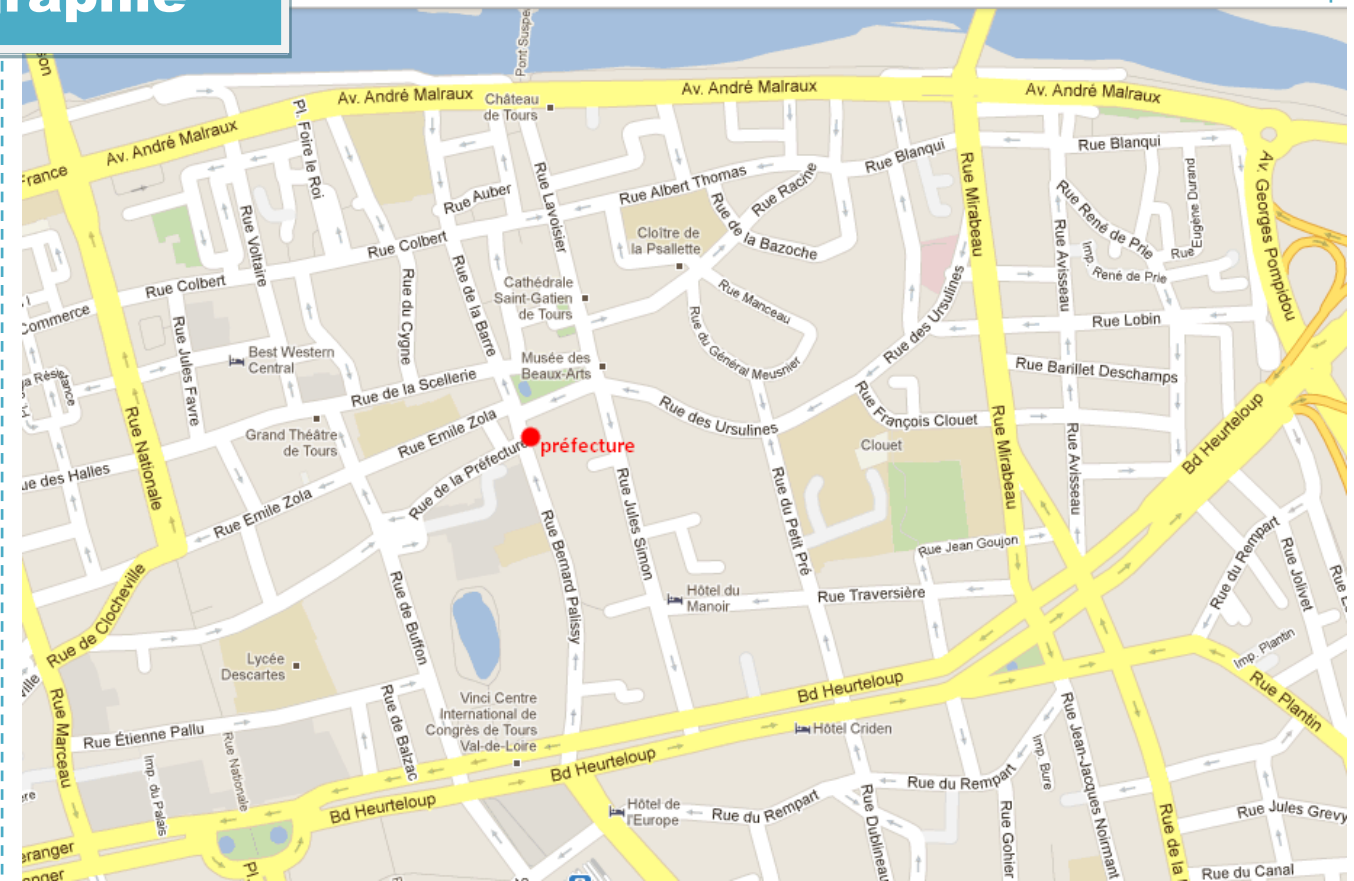
Doc 4 : Logo l'Indre et Loire

Vocabulaire

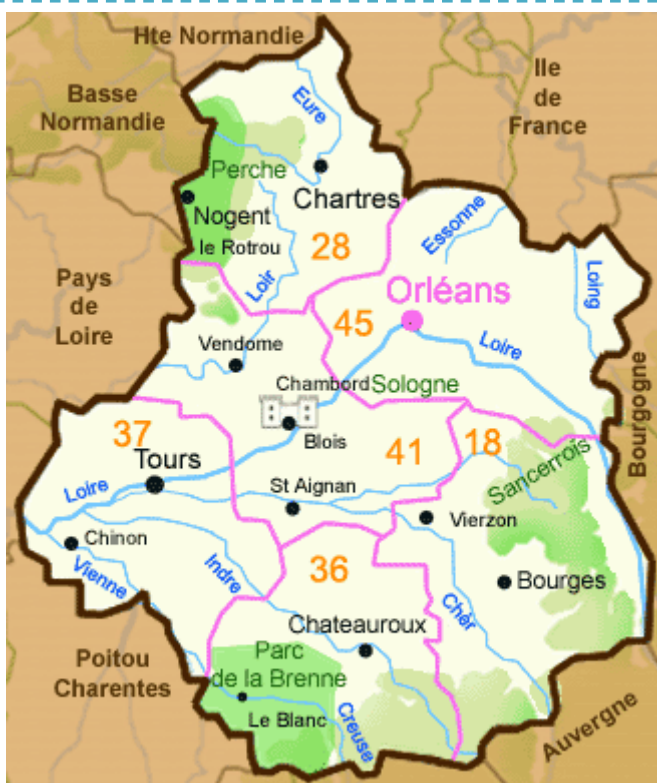
Une commune : une ville ou un village français dirigé par un maire.

L'Outre-mer : les territoires français situés en dehors de la France métropolitaine (où se situe la capitale).

Une préfecture : une ville où siège le Conseil-général.



Doc 5 : Plan d'accès de la Préfecture d'Indre et Loire
15, rue Bernard Palissy – 37000 Tours



Doc 6 : Carte de la région Centre

L'histoire des départements.

En 1790, les députés simplifièrent le découpage administratif de la France : ils supprimèrent les anciennes provinces et divisèrent le territoire en départements. Ceux-ci étaient de tailles presque identiques et étaient suffisamment petits pour que chaque habitant puisse se rendre de chez lui au chef-lieu du département en moins d'une journée de cheval. Le tracé respectait la géographie. Les noms ne faisaient pas référence aux provinces d'autrefois : la plupart des départements portent des noms de montagnes ou de rivières.

Depuis 1790, le découpage a été légèrement modifié.

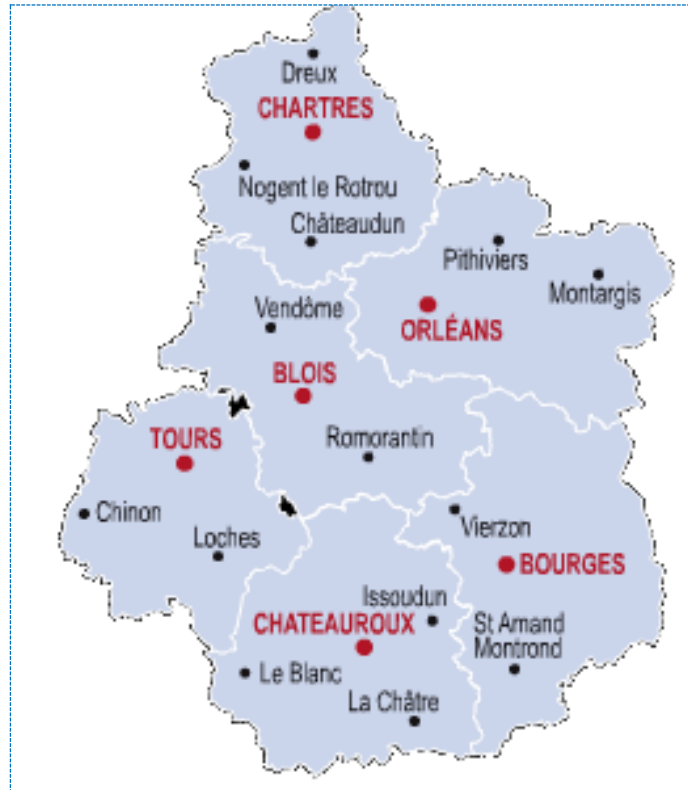
En quelle année a été simplifié le découpage administratif de la France ?

Pourquoi les départements sont-ils peu étendus ?

Encadre en bleu la phrase qui t'explique d'où viennent les noms des départements.

Qui a simplifié le découpage administratif de la France ?

Les principales villes de la région Centre



1- Colorie chaque département de notre région d'une couleur différente.

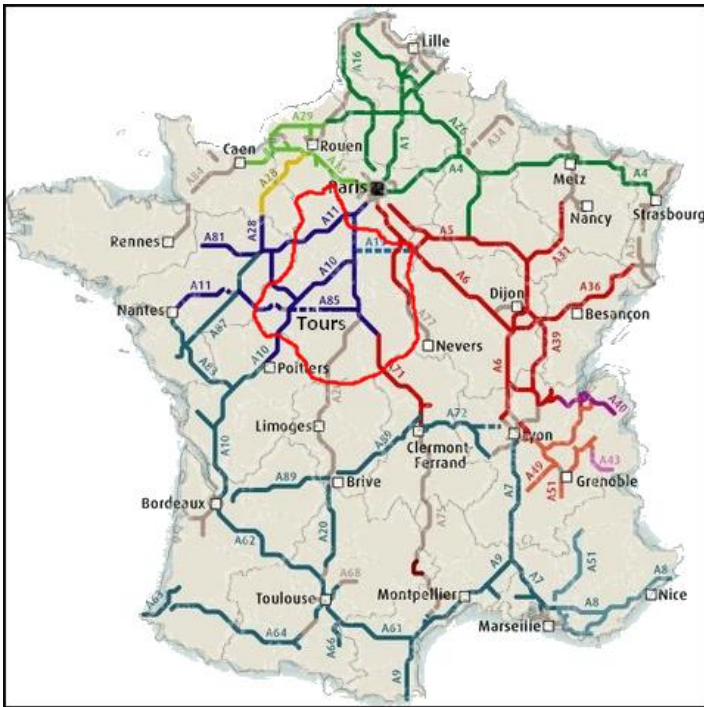
2- Cite les noms des six départements qui font le Centre:

-
-
-
-
-
-

3- Ecris les noms des préfetures correspondant à chacun des départements de notre région :

- 37 :
- 41 :
- 18 :
- 45 :
- 36 :
- 28 :

Les voies de communication dans la région Centre



Autoroutes de France



voies fluviales

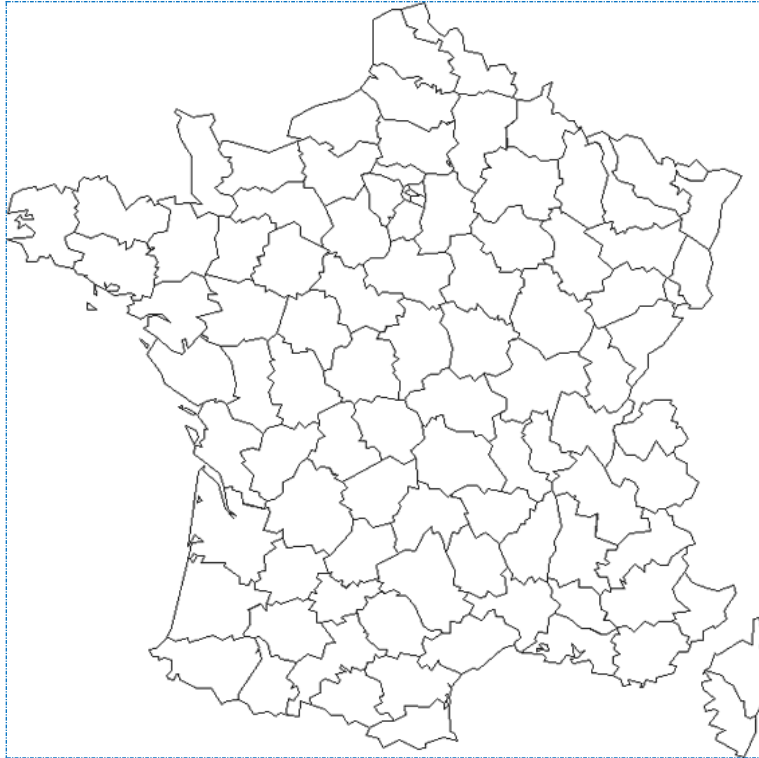


Voies de chemins de fer à grande vitesse

- 1- Repasse en rouge les lignes de chemin de fer à grande vitesse qui traversent le Centre.
- 2- Fais la même chose avec les autoroutes qui traversent notre région.
- 3- Refais de même avec les voies navigables qui traversent le Centre.
- 4- Finalement, comment peut-on qualifier notre région à propos des voies de communication françaises ?

.....
.....
.....

1) Localise le département de l'Indre et Loire sur une carte de France.



2) Dans quelle région ce département est-il situé ?

.....
.....

3) Décris le logo du département, qu'y vois-tu ?

.....
.....

4) Situe ta commune dans le département.

.....
.....

5) Dans quelle ville du département se situe le Conseil général d'Indre et Loire ?

.....
.....

6) Qui compose l'assemblée du Conseil général ?

.....
.....

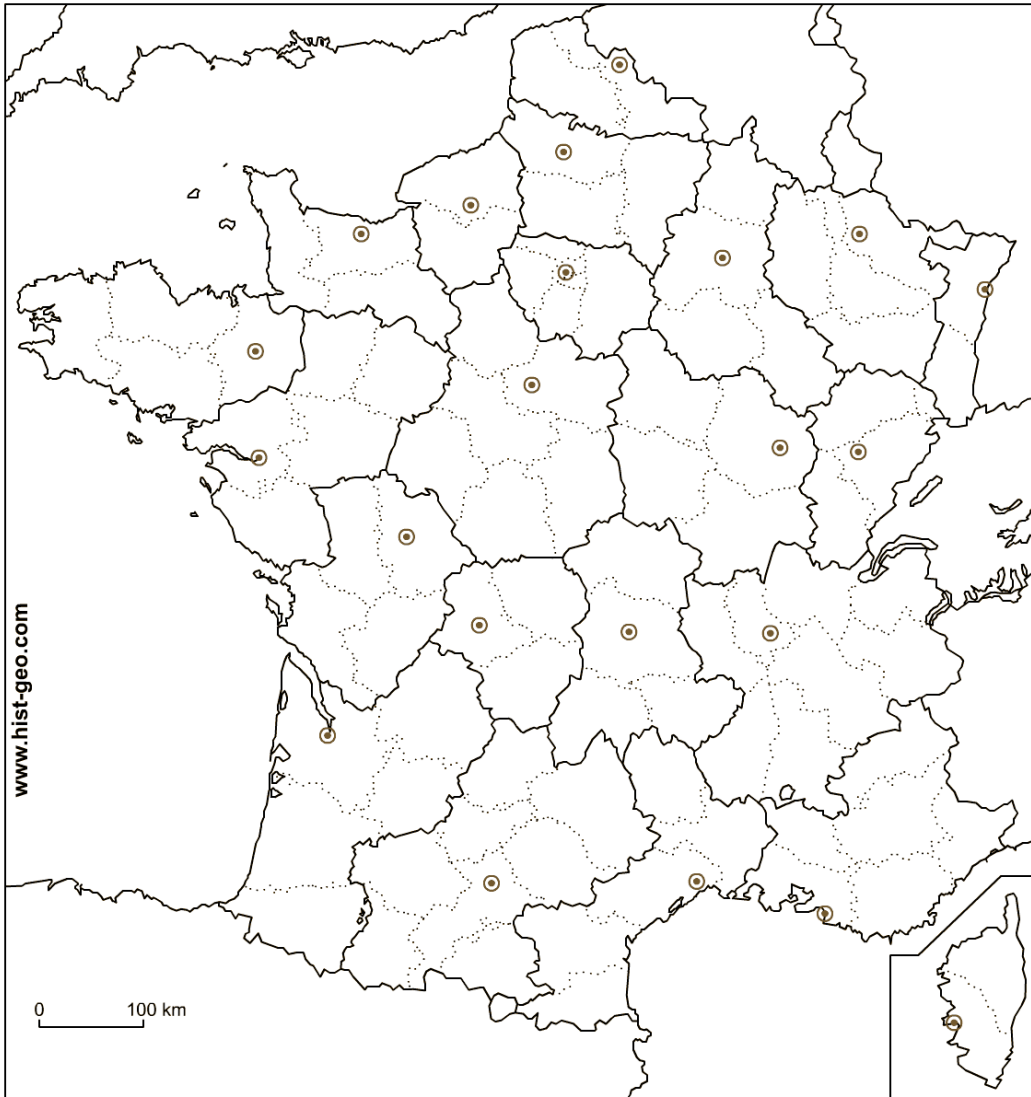
7) Cite des domaines dans lesquels le Conseil général intervient.

.....
.....

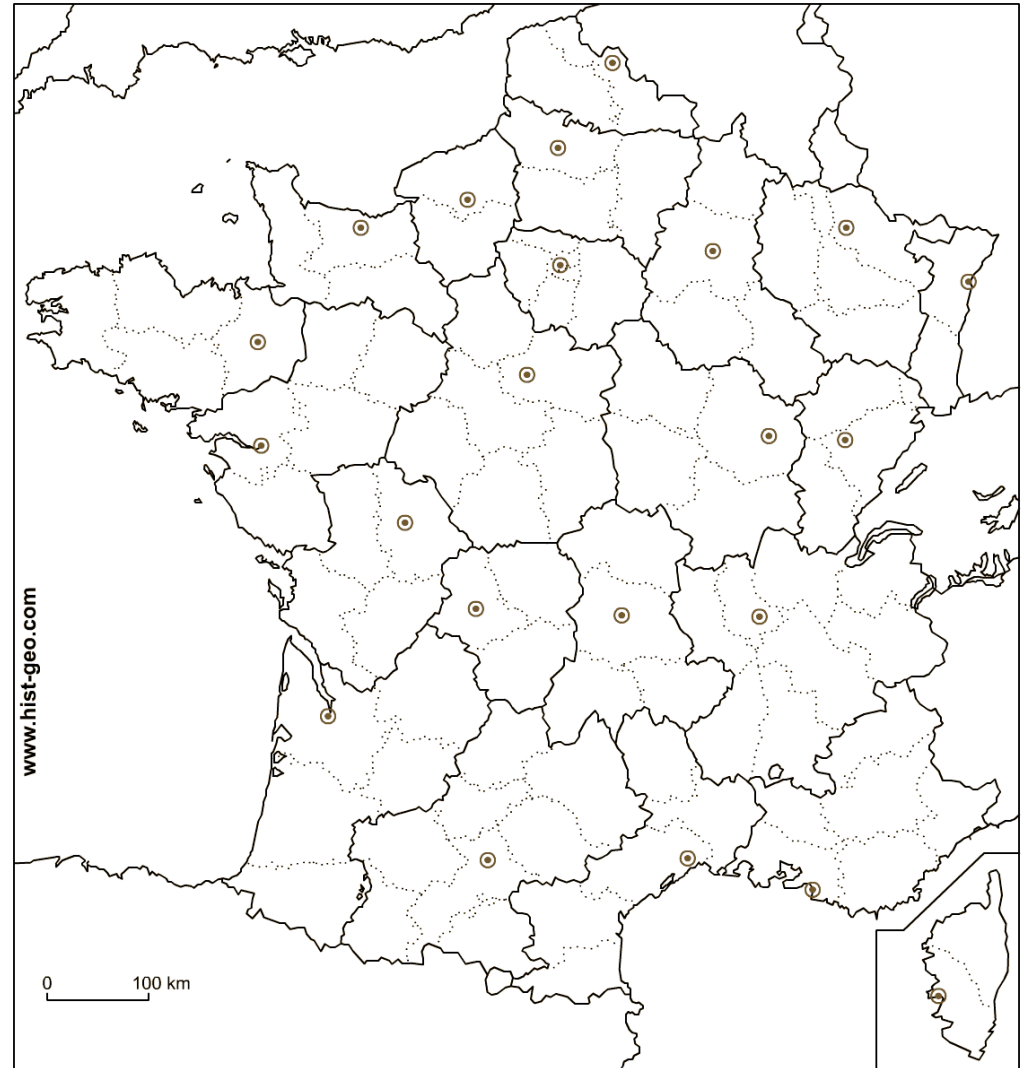
8) Combien de départements compte-t-elle ? Cite leurs noms.

.....
.....

Situe la région Centre sur une carte de France.



Situe la région Centre sur une carte de France.



La commune, le département et la région

- Pour qu'il soit plus facile de s'occuper des affaires du pays, le territoire de la France a été découpée en communes, départements et régions.
- Il y a 26 régions, 100 départements et environ 36000 communes.
- Les responsables sont élus.
- Notre région s'appelle le Centre et notre département l'Indre et Loire

La commune. le département et la région

- Pour qu'il soit plus facile de s'occuper des affaires du pays, le territoire de la France a été découpée en communes, départements et régions.
- Il y a 26 régions, 100 départements et environ 36000 communes.
- Les responsables sont élus.
- Notre région s'appelle le Centre et notre département l'Indre et Loire