


NICOMATHS Fiche 6



On tourne !

Pour la fête des pères, papa s'est offert une caméra vidéo. Dans la boutique, le vendeur l'a aidé à choisir le bon modèle. Celui que papa a acheté a une autonomie de deux heures sans la recharger. Elle fonctionne avec une cassette qui permet d'enregistrer trente minutes de film.

Papa a préféré acheter trois cassettes, au cas où...

En rentrant, papa était comme un petit garçon impatient d'essayer son nouveau jouet. Mais il ne savait pas quel genre de film tourner ! Maman aime les films d'amour et les comédies, Nicolas adore les dessins-animés et les comédies. Papa aime les westerns et les films policiers. Papa réfléchit un long moment, puis il a l'idée du siècle : « Viens, Nicolas ! On va faire un film pour montrer à pépé Edmond et mémé Huguette comme tu sais bien tes tables de multiplication ! Allez, récite ! On tourne ! » Papa ouvre à l'angle droit un vieux clap de cinéma qu'il a trouvé sur une brocante, et le fait claquer.

Trop nul ! Nicolas avait mille projets de films en tête : les aventuriers du jardin perdu, ou bien un film de guerre avec ses petits soldats de plomb... Mais un film sur les tables de multiplication, ça non ! Alors Nicolas a une idée : il va faire son acteur capricieux et offrir à la caméra... sa plus belle grimace !

A TOI DE JOUER !

1) Complète les égalités suivantes :

1 000 = centaines 1 000 = dizaines 1 000 = unités

Encadre le nombre à l'unité : < 1 000 <

Place le nombre dans ce tableau de numération :



Classe des mille			Classe des unités simples		
c	d	u	c	d	u

2) Complète les calculs (relations entre 15, 30, 45, 60, 90)





2 X 15 = 4 X 15 = 30 X = 90 2 X = 90 60 X 2 =

2 X 30 = X 15 = 45 30 X = 60 30 + = 45 ... + ... = 60

3) Pose et calcule les opérations suivantes. N'oublie pas la boîte à retenues :

426 X 34 =	537 X 52 =
	


4) Indique l'heure de l'après-midi :

			
..... h h h h

5) Complète ces égalités sur les durées :

1 min = ... sec 2 min = ... sec 4 min = ... sec
 3 h = min 1 h = sec 1 jour = h

6) Trouve les angles droits :



7) Complète le tableau à double entrée avec les informations du texte :

Genre de film ↓	papa	maman	Nicolas
	X		
		X	X
		X	
			X
	X		