



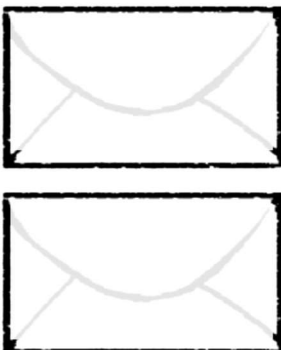


CP CURIE P555 : RESOLUTION DE PROBLEMES

1    

J'entoure dans le texte ce que je vais dessiner, je complète le dessin, puis je répons.




Léna a un paquet de 12 images. Elle met autant d'images dans chacune des **2 enveloppes**.

♥ **Combien d'images y aura-t-il par enveloppe ?**

♦

♣ Il y aura images.




Dans ce cadre il y a déjà des photos. Charli en ajoute 6.

♥ **Combien de photos y aura-t-il dans le cadre ?**

♦

♣ Il y aura photos.

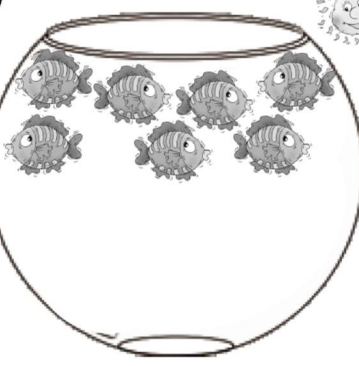


Maman distribue 12 gâteaux à ses **3 enfants**.

♥ **Combien vont-ils avoir de gâteaux chacun ?**

♦

♣ Chaque enfant aura gâteaux.




Dans ce bocal, il y avait 11 poissons. Cette nuit le chat en a mangé.

♥ **Combien de poissons manque-t-il ?**

♦

♣ Il manque poissons.




Evan a mis 18 balles dans la boîte. Zoé en retire 7.

♥ **Combien de balles y a-t-il dans la boîte ?**

♦

♣ Il y a balles.



Noé fait 2 piles d'assiettes, comme celle-ci.

♥ **Combien lui faut-il d'assiettes ?**

♦

♣ Il faut assiettes.