



Les doubles de 1 à 10 (1)

1 Dictée de nombres.

a 13

b 26

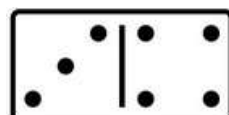
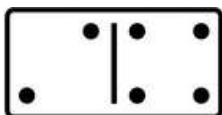
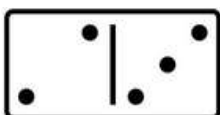
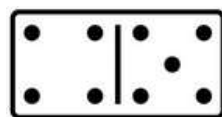

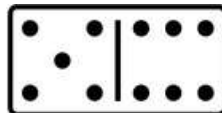
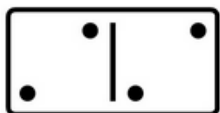
c 7

d 18

e 16

f 20

2 Colorie les dominos qui sont des doubles.



3 Entoure les égalités justes et barre celles qui sont fausses.

$2 + 2 = 4$

$4 + 4 = 8$

$3 + 3 = 6$

~~$5 + 5 = 9$~~

~~$2 + 2 = 5$~~

$1 + 1 = 2$

~~$3 + 3 = 5$~~

$4 + 4 = 10$

$5 + 5 = 10$

4 Colorie selon le code.

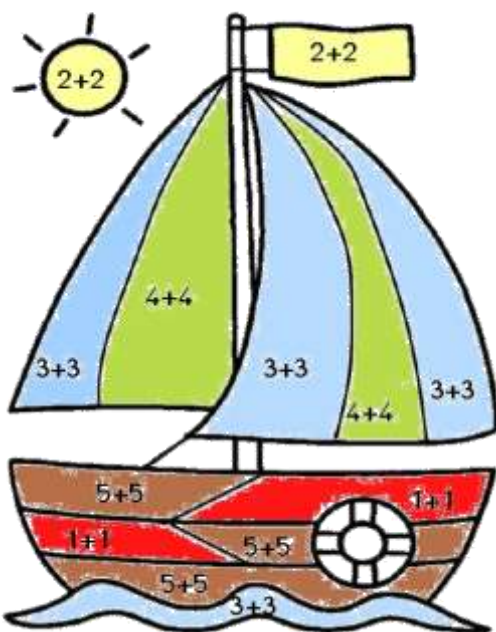
2 : rouge

4 : jaune

6 : bleu

8 : vert

10 : marron



5 Aide-toi des doubles pour calculer.

$3 + 4 = 7$

$7 + 6 = 13$

$2 + 3 = 5$

$8 + 9 = 17$

$4 + 5 = 9$

$4 + 3 = 7$

$6 + 7 = 13$

$7 + 8 = 15$

$5 + 6 = 11$

$9 + 10 = 19$



Les doubles de 1 à 10 (2)

1 Dictée de nombres en lettres.

a quatre

b deux

c cinq








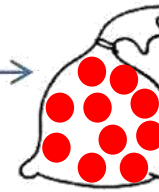




d trois

e un

2 Colorie de la même couleur les calculs et leur résultat.

$5+5$	4	20	$10+10$	$4+4$
16	6	$7+7$	12	14
18	$9+9$	8	$2+2$	
$6+6$	$8+8$	$3+3$	10	

3 Dessine à chaque fois le double de billes.

 →  4	 →  6	 →  12
 →  10	 →  8	 →  2

4 Problème.

Alex a reçu 6€. Lisa a reçu le double.
Dessine ce que Lisa a reçu en pièces de 1€.



Lisa a reçu 12 €.

Lisa a lu 4 livres. Alex en a lu le double.
Dessine les livres qu'Alex a lus.



Alex a lu 8 livres.