

P4 Je révise

1 Écris le nombre qui vient juste avant et celui qui vient juste après.

..... (65)

..... (86)

..... (90)

..... (70)

..... (79)

..... (97)

2 Écris les nombres en chiffres.

soixante (.....)

soixante-et-onze (.....)

cinquante-quatre (.....)

quatre-vingt-douze (.....)

quatre-vingt-deux (.....)

quatre-vingt-dix (.....)

3 Écris le double de chaque nombre.

2 →

6 →

8 →

5 →

10 →

7 →


3 →

4 →

1 →


Colorie en rouge toutes les bandes plus longues que la bande verte.

4



Trace une ligne pour avoir le même nombre de balles de chaque côté.

5



Complète avec deux fois le même nombre quand c'est possible.

6

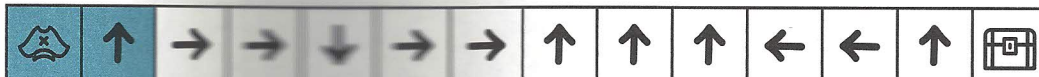

$$4 = 2 + 2 \quad 12 = \dots + \dots$$

$$10 = \dots + \dots \quad 16 = \dots + \dots$$

$$14 = \dots + \dots \quad 11 = \dots + \dots$$

Termine de colorier le chemin du pirate.

7



✓ Je connais la valeur des chiffres en fonction de leur position (unités, dizaines).

1 Cherche tous les nombres de deux chiffres que l'on peut écrire avec les cartes.



.....
-------	-------	-------	-------	-------	-------

2 Cherche tous les nombres de deux chiffres que l'on peut écrire avec les cartes.


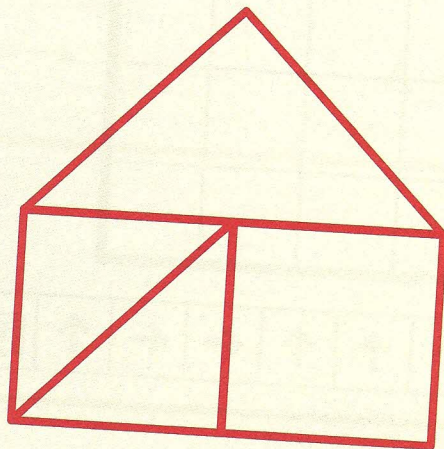


.....
-------	-------	-------	-------	-------	-------

Range ces nombres du plus petit au plus grand.

.....	<	<	<	<	<
-------	---	-------	---	-------	---	-------	---	-------	---	-------

Reproduis avec la règle.



3 Cherche le plus grand nombre que tu peux écrire avec les étiquettes.



quatre douze soixante

soixante-douze

72

huit dix soixante deux

.....

vingt quatre dix trois

.....

neuf vingt seize quatre

.....

4 Relie les nombres de 2 en 2, de 0 à 58.

36 38 40 42
34 32 30 44
28 18 16 46 48
24 26 14 2 50 54
22 20 10 12 4 52 56
8 6

Il y a un lapin gris de plus que de lapins blancs. Colorie les lapins gris.

