

Nom : \_\_\_\_\_  
 Date : \_\_/\_\_/\_\_

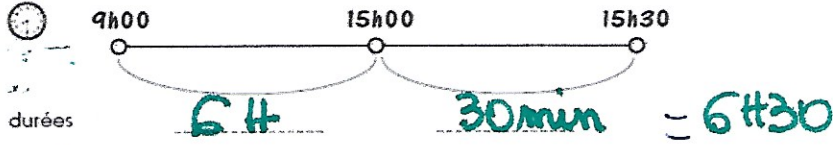
## Exercices d'entraînement

### Mesures de durées

**Exercice 1 : Je résous les problèmes à l'aide du schéma ci-dessous**

Je calcule la durée qui s'est écoulée entre 09h et 15h30 :

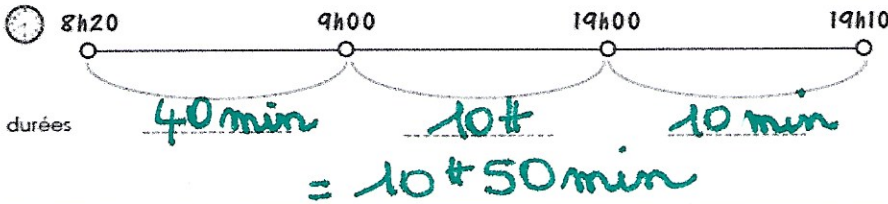
ou je pose l'opération ★1



$$\begin{array}{r|l} 15\text{h} & 30 \\ - 9\text{h} & 00 \\ \hline 6\text{h} & 30 \end{array}$$

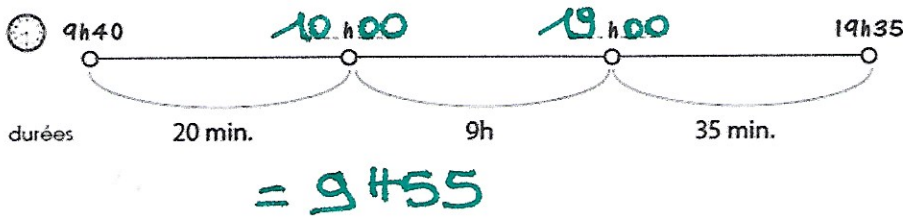
Je calcule la durée qui s'est écoulée entre 08h20 et 19h10 :

ou je pose l'opération



$$\begin{array}{r|l} 18 & 60 \\ - 8\text{h} & 20 \\ \hline 10\text{h} & 50 \end{array}$$

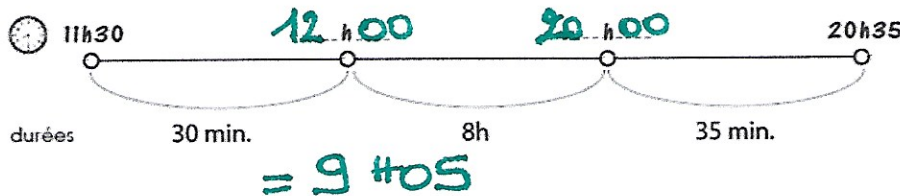
Je calcule la durée qui s'est écoulée entre 09h40 et 19h35 :



ou

$$\begin{array}{r|l} 18 & 60 \\ - 9\text{h} & 40 \\ \hline 9\text{h} & 55 \end{array}$$

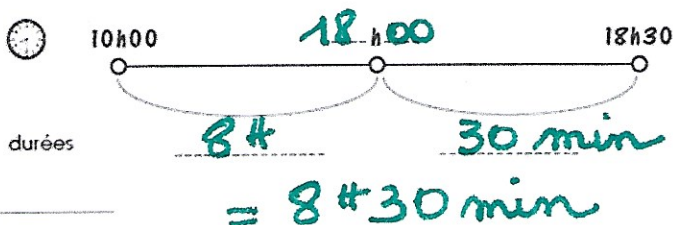
Je calcule la durée qui s'est écoulée entre 11h30 et 20h35 :



ou

$$\begin{array}{r|l} 20\text{h} & 35 \\ - 11\text{h} & 30 \\ \hline 9\text{h} & 05 \end{array}$$

Je calcule la durée qui s'est écoulée entre 10h et 18h30 :



ou

$$\begin{array}{r|l} 18\text{h} & 30 \\ - 10\text{h} & 00 \\ \hline 8\text{h} & 30 \end{array}$$

Je calcule la durée qui s'est écoulée entre 15h05 et 20h15 :

ou

$$\begin{array}{r|l} 20\text{h} & 15 \\ - 15\text{h} & 05 \\ \hline 5\text{h} & 10 \end{array}$$

