

Combien de billes faut-il donner à Mimi-bille pour qu'il en ait autant que Maxi-bille. Complète le nuage.

J'ai 10 jetons.

J'ai 6 jetons.

J'ai 10 jetons.

J'ai 3 jetons.

J'ai 8 jetons.

J'ai 5 jetons.

J'ai 9 jetons.

J'ai 6 jetons.

Complète la maison du 10 puis les additions à trou.

<b>10</b>	
+	+
+	+
+	+
+	+
+	+

$5 + \text{cloud} = 10$

$7 + \text{cloud} = 10$

$3 + \text{cloud} = 10$

$2 + \text{cloud} = 10$

$0 + \text{cloud} = 10$

$1 + \text{cloud} = 10$

$4 + \text{cloud} = 10$


$9 + \text{cloud} = 10$


$6 + \text{cloud} = 10$


$10 + \text{cloud} = 10$


$8 + \text{cloud} = 10$


### Calcule


$5 + 2 =$  


$7 + 3 =$  


$8 + 3 =$  


$3 + 7 =$  


$2 + 9 =$  


$4 + 6 =$  


$6 + 3 =$  


$8 + 2 =$  


$5 + 2 =$  


$4 + 4 =$  


$5 + 5 =$  


$1 + 9 =$  


$2 + 6 =$  

$7 + 2 =$  

$3 + 5 =$  

$8 + 1 =$  

$6 + 2 =$  

$2 + 8 =$  

### Prelie



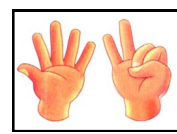
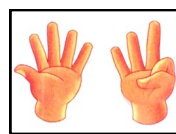
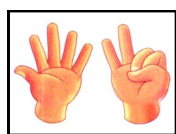
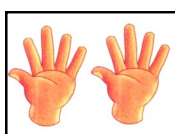
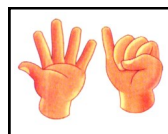
un

trois

cinq

deux

quatre



six

huit

dix

neuf

sept