

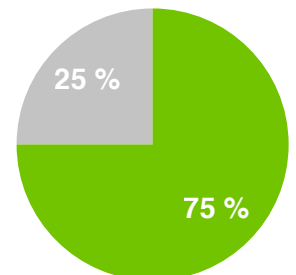
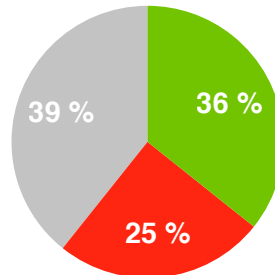
## Répartition des réponses

après recherche individuelle

après recherche à plusieurs

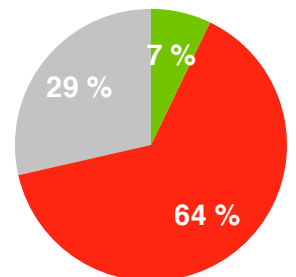
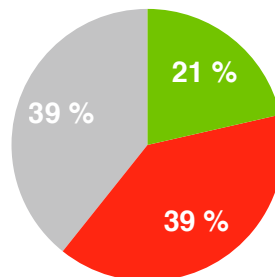
Max répartit 2018 billes dans 2 boîtes.  
Dans la grande boîte, il y a 1000 billes de plus que dans la petite.

Combien y a-t-il de billes dans la petite boîte ?

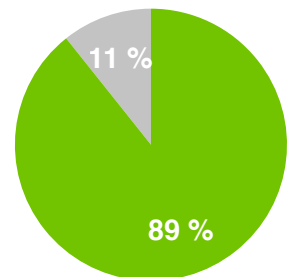
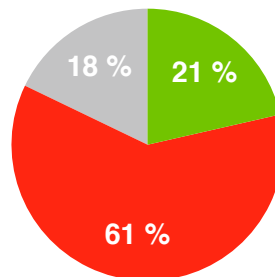
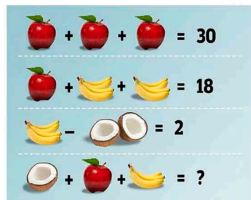


Un escargot escalade un mur de 4 mètres de haut.  
Chaque jour, il monte 1,20 m.  
La nuit, il s'endort et redescend de 0,80 m.

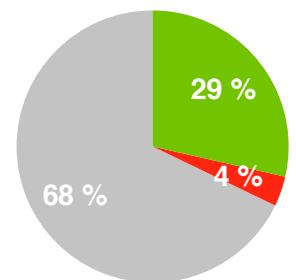
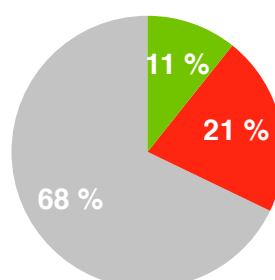
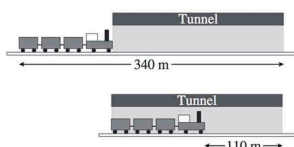
Combien de jours lui faut-il pour parvenir en haut du mur ?



Quel est le résultat de la dernière opération ?



Deux longueurs sont indiquées sur ces dessins représentant le même train et le même tunnel.  
Quelle est la longueur du train ?



Dans un magasin, 6 employés emballent trente-six colis identiques en une heure et demie.

Combien de colis peuvent être emballés par huit employés en une heure ?

