

Mercredi 3 février

Dictée 3 semaine 5

Pendant la récréation, les enfants ^{= ils} profitent de ce moment de repos.

D'autres ^{= ils} se racontent des histoires ou jouent aux billes.

Exemple de résumé:

Depuis janvier 2021, la France a décidé de mieux protéger l'environnement (terres et océans).

Comment ? En interdisant ou en réduisant l'agriculture et la pêche dans certaines zones.

Qui ?

Où ?


Quand ?

Quoi ?

Comment ?

	▶ QUI?
	▶ QUOI?
	▶ OÙ?
	▶ QUAND?

résumé 2:

	► QUI?
	► QUOI?
	► OÙ?
	► QUAND?

 Comment ?

Aujourd'hui, en Thaïlande, à Maya Bay, les requins à pointes noires sont en danger car ils ont très peur des touristes.



Le gouvernement a décidé de fermer la baie pendant un moment pour les protéger.

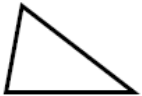



Depuis, les requins reviennent.

Utiliser la fiche outil du cours

Géométrie

- Les figures géométriques à 3 côtés et 3 sommets : les triangles

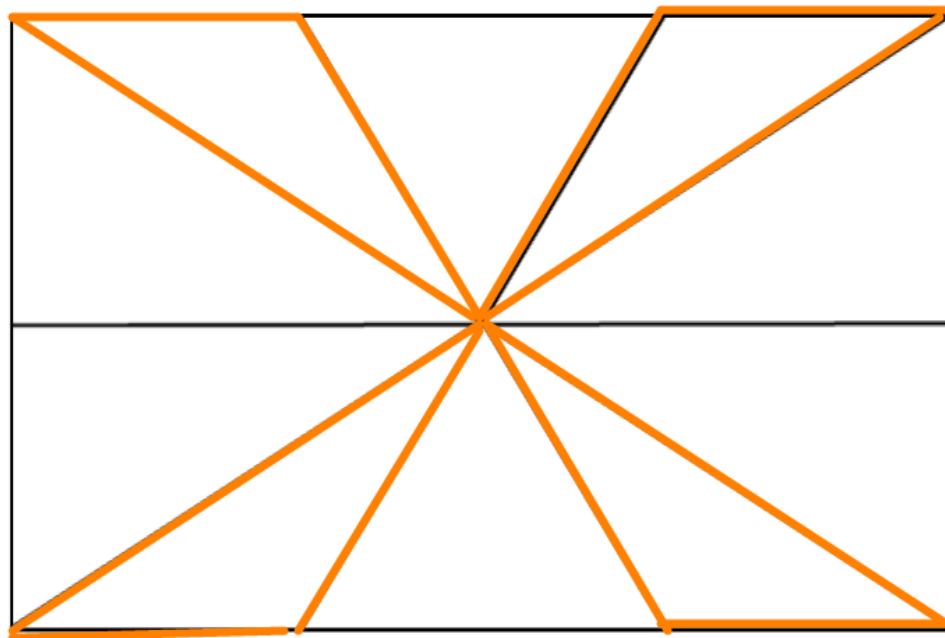
1./ Complète :

	: un triangle		: un triangle
	: un triangle		: un triangle

2./ Complète :

Noms de la figure	Particularités
Le triangle quelconque
Le triangle isocèle
Le triangle rectangle
Le triangle équilatéral

3./ Combien de triangles trouve-t-on dans cette figure :



Triangle quelconque	Triangle équilatéral	Triangle isocèle	Triangle rectangle
.....