

Mesurer des longueurs

Niveau 1 ★



1) Le terrible Voldemort a rapetissé Harry Potter, Luna et Hagrid. Mesure leur taille.



... cm

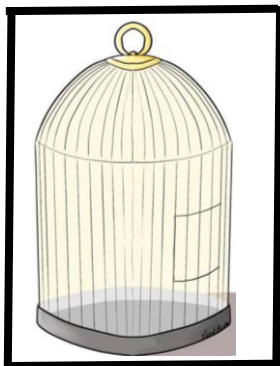


... cm



... cm

2) Harry a acheté une cage pour sa chouette. Mesure la longueur du tour de la cage.



Le tour de la cage mesure cm


<http://tissearine eklablog.com/>

Mesurer des longueurs

Niveau 2 ★★




1) Mesure la longueur parcourue par l'araignée.



L'araignée a parcouru cm

2) Mesure la longueur de cette lettre.



Le tour de cette lettre mesure cm

<http://tissearine eklablog.com/>

Mesurer des longueurs

Niveau 2 ★ ★



1) Mesure les segments suivants.

entre
... cm et ... cm

entre
... cm et ... cm

entre
... cm et ... cm

2) Trace les segments suivants :

[AB] = 2 cm

[CD] = entre 3 et 4 cm

<http://tissearine eklablog.com/>

Mesurer des longueurs

Niveau 3 ★ ★ ★



1) Mesure les segments suivants.

entre
... cm et ... cm

entre
... cm et ... cm

entre
... cm et ... cm

2) Trace les segments suivants :

[AB] = 2 cm et 3 mm

[CD] = 4 cm et 5 mm

<http://tissearine eklablog.com/>

Mesurer des longueurs



1) Le terrible Voldemort a rapetissé Harry Potter, Luna et Hagrid. Mesure leur taille.



__ cm et __ mm




__ cm et __ mm



__ cm et __ mm

2) Harry a acheté une cage pour sa chouette. Mesure la longueur du tour de la cage.




Le tour de la cage mesure cm et ____ mm

Mesurer des longueurs




1) Mesure la longueur parcourue par l'araignée.



L'araignée a parcouru ____ cm et ____ mm

1) Mesure la longueur de cette lettre.



Le tour de cette lettre mesure ____ cm et ____ mm