


Compétence : résolution de problèmes add et soust : résoudre des pbs simples à 1 opération.

Consigne : Réponds aux questions.

1 Nina a 9 billes avant la récréation. Elle en gagne 4 pendant la récréation. Combien en a-t-elle après ?




2 Nina a 9 billes. Son ami Jason en a 7. Ils les mettent ensemble dans un seul sac. Combien y en a-t-il en tout dans le sac ?




Compétence : résolution de problèmes add et soust : résoudre des pbs simples à 1 opération.

Consigne : Réponds aux questions.

3 Nina a 9 billes avant la récréation. Elle en perd 2 pendant la récréation. Combien en a-t-elle après ?




4 Nina a 10 billes avant la récréation et se retrouve avec 15 billes à la fin de la récréation. Que s'est-il passé pendant la récréation ?




Compétence : résolution de problèmes add et soust : résoudre des pbs simples à 1 opération.

Consigne : Réponds aux questions.

5 Nina a 9 billes à la fin de la récréation. Elle en a perdu 3 pendant la récréation. Combien en avait-t-elle avant la récréation ?




6 Nina a 11 billes à la fin de la récréation. Elle en a gagné 5 pendant la récréation. Combien en avait-t-elle avant la récréation ?



Compétence : résolution de problèmes add et soust : résoudre des pbs simples à 1 opération.

Consigne : Réponds aux questions.

7 Nina a 10 billes. Jason en a 3 de plus qu'elle. Combien en a Jason ?



8 Nina a 12 billes. Jason en a 5 de moins. Combien Jason a de billes ?



Compétence : résolution de problèmes add et soust : résoudre des pbs simples à 1 opération.

Consigne : Réponds aux questions.


9 Nina a 13 billes et Jason en a 8. Combien Nina a-t-elle de billes de plus ?

10 Nina a 12 billes. Elle en a 3 de moins que Jason. Combien Jason a de billes ?

Compétence : résolution de problèmes add et soust : résoudre des pbs simples à 1 opération.

Consigne : Réponds aux questions.

- 11 Nina a 14 billes. Elle en a 5 de plus que Jason . Combien Jason a de billes ?



- 12 Nina avait 14 billes au début de la récréation et en a 9 à la fin . Que s'est-il passé pendant la récréation ?

